

# SSC - CHSLE - (10+2) - 2015

DO NOT OPEN THE SEAL OF THE BOOKLET UNTIL YOU ARE TOLD TO DO SO.

Test Form No.  
आर. ५६६ सं. २०१५  
**6067671**

**MORNING SHIFT EXAM**  
AC-2015 XX - 6067671  
**HELD ON 15<sup>th</sup> NOV-2015**

संयोजित शिफ्ट परीक्षा के लिए प्रयोग किया गया प्रश्नपत्र का क्रमांक ५६६ सं. २०१५ है।  
प्रश्नपत्र का क्रमांक ५६६ सं. २०१५ है।  
कुल अंक : 225  
अधिकतम समय : 200

Read the following instructions carefully before you begin to answer the questions. This Booklet contains questions in English as well as in Hindi Language.  
पढ़ने से पहले इन निर्देशों को ध्यान से पढ़ लें। इस पुस्तिका में प्रश्न अंग्रेजी तथा हिन्दी दोनों भाषा में दिये गये हैं।

### INSTRUCTIONS TO CANDIDATES

- This Booklet contains 200 questions in all comprising the following four parts:  
Part - I: General Intelligence (20 Questions)  
Part - II: English Language (20 Questions)  
Part - III: Quantitative Aptitude (20 Questions)  
Part - IV: General Awareness (20 Questions)
- In questions set bilaterally in English and Hindi language in case of discrepancy, the English version will prevail.
- All questions are compulsory and carry equal marks.
- The paper carries negative marking. 0.25 marks will be deducted for each wrong answer.
- Before you start to answer the questions you must check up this Booklet and ensure that it contains all the pages (1-24) and see that no page is missing or repeated. If you find any defect in this Booklet, you must get it replaced immediately.
- You will be supplied the Answer-Sheet separately by the Invigilator. You must complete and send the details of Name, Roll Number, Ticket Number and Test Form Number in the Answer-Sheet carefully. You must also put your signature and Left Hand thumb impression on the Answer-Sheet at the specified place before you actually start answering the questions. The instructions must be fully complied with, failure which, your Answer-Sheet will not be evaluated and you will be awarded 0200 mark. (V.H./Central Paly candidates will have to ensure that these details will be filled in by the scribe. However, all V.H./Central Paly candidates must put their Left-Hand thumb impression at the space provided in the Answer-Sheet. Those V.H./Central Paly candidates who can sign should also put their signature in addition to thumb impression.)
- Answers must be shown by completely blackening the appropriate circle on Sheet of the Answer-Sheet against the question number by Black (Blue Ball-Point) Pen. If you use any other pen or show any mark, your answer will not be evaluated and you will be awarded 0200 mark.
- Answering will need the candidate to be present in the OMR Answer-Sheet. Because the information is transmitted directly from the information given in the application form, such candidate will be awarded 0200 mark.
- The Answer-Sheet must be handed over to the Invigilator before you leave the Examination Hall.
- Failure to comply with any of the above instructions will render a candidate liable to such action, penalty as may be deemed fit.
- The question papers for the different questions are to be answered separately, explained at the back of this Booklet (Page No. 24), which you should read carefully before actually answering the questions.
- Answer the questions as quickly and as carefully as you can. Some questions may be difficult and others easy. Do not spend too much time on any question.
- In case of Questions Nos. 44 to 50 and 142 to 150, relating to figure patterns, alternate questions have been provided to be attempted by V.H./Central Paly candidates only.
- No rough work is to be done on the Answer-Sheet. Space for rough work has been provided below the questions in Part I and Part III of this Booklet.
- "Mobile phones and wireless communication devices are completely banned in the examination halls/rooms. Candidates are advised not to keep mobile phones / any other wireless communication devices with them even switching it off, in their own interest. Failing to comply with this provision will be considered as using unfair means in the examination and action will be taken against them including cancellation of their candidature."

### उम्मीदवारों के लिए निर्देश

- इस पुस्तिका में कुल 200 प्रश्न हैं, जिनमें निम्नलिखित चार भाग शामिल हैं :  
भाग - I: सामान्य बुद्धि (20 प्रश्न)  
भाग - II: अंग्रेजी भाषा (20 प्रश्न)  
भाग - III: मात्रात्मक अभिरूचि (20 प्रश्न)  
भाग - IV: सामान्य जानकारी (20 प्रश्न)
- अंग्रेजी और हिन्दी दोनों भाषाओं में प्रश्न दिए गए हैं। यदि इनमें कोई अंतर हो, तो अंग्रेजी संस्करण का प्रयोग किया जाएगा।
- सभी प्रश्नों का उत्तर देना अनिवार्य है और प्रत्येक प्रश्न के लिए बराबर अंक हैं।
- प्रश्न पत्र में नकारात्मक अंक प्रणाली है। प्रत्येक गलत उत्तर के लिए 0.25 अंक घटाए जाएंगे।
- प्रश्नों के उत्तर देने से पहले आप इस पुस्तिका की जाँच करके देखें कि इस पुस्तिका में कोई पृष्ठ कम या अतिरिक्त नहीं है, कोई पृष्ठ दोहराया गया है या कोई पृष्ठ दोहराया गया है। यदि आप इस पुस्तिका में कोई त्रुटि पाते हैं, तो तुरंत इसे बदलवा लें।
- विशेष रूप से ध्यान दें: प्रश्नों का उत्तर देते समय, आप प्रश्नपत्र में दिए गए निर्देशों को ध्यान से पढ़ें। प्रश्नपत्र में दिए गए प्रश्नों के उत्तर देने से पहले आप इस पुस्तिका की जाँच करके देखें कि इस पुस्तिका में कोई पृष्ठ कम या अतिरिक्त नहीं है, कोई पृष्ठ दोहराया गया है या कोई पृष्ठ दोहराया गया है। यदि आप इस पुस्तिका में कोई त्रुटि पाते हैं, तो तुरंत इसे बदलवा लें।
- विशेष रूप से ध्यान दें: प्रश्नों का उत्तर देते समय, आप प्रश्नपत्र में दिए गए निर्देशों को ध्यान से पढ़ें। प्रश्नपत्र में दिए गए प्रश्नों के उत्तर देने से पहले आप इस पुस्तिका की जाँच करके देखें कि इस पुस्तिका में कोई पृष्ठ कम या अतिरिक्त नहीं है, कोई पृष्ठ दोहराया गया है या कोई पृष्ठ दोहराया गया है। यदि आप इस पुस्तिका में कोई त्रुटि पाते हैं, तो तुरंत इसे बदलवा लें।
- उत्तर देते समय, आप प्रश्नपत्र में दिए गए निर्देशों को ध्यान से पढ़ें। प्रश्नपत्र में दिए गए प्रश्नों के उत्तर देने से पहले आप इस पुस्तिका की जाँच करके देखें कि इस पुस्तिका में कोई पृष्ठ कम या अतिरिक्त नहीं है, कोई पृष्ठ दोहराया गया है या कोई पृष्ठ दोहराया गया है। यदि आप इस पुस्तिका में कोई त्रुटि पाते हैं, तो तुरंत इसे बदलवा लें।
- उत्तर देते समय, आप प्रश्नपत्र में दिए गए निर्देशों को ध्यान से पढ़ें। प्रश्नपत्र में दिए गए प्रश्नों के उत्तर देने से पहले आप इस पुस्तिका की जाँच करके देखें कि इस पुस्तिका में कोई पृष्ठ कम या अतिरिक्त नहीं है, कोई पृष्ठ दोहराया गया है या कोई पृष्ठ दोहराया गया है। यदि आप इस पुस्तिका में कोई त्रुटि पाते हैं, तो तुरंत इसे बदलवा लें।
- उत्तर देते समय, आप प्रश्नपत्र में दिए गए निर्देशों को ध्यान से पढ़ें। प्रश्नपत्र में दिए गए प्रश्नों के उत्तर देने से पहले आप इस पुस्तिका की जाँच करके देखें कि इस पुस्तिका में कोई पृष्ठ कम या अतिरिक्त नहीं है, कोई पृष्ठ दोहराया गया है या कोई पृष्ठ दोहराया गया है। यदि आप इस पुस्तिका में कोई त्रुटि पाते हैं, तो तुरंत इसे बदलवा लें।
- उत्तर देते समय, आप प्रश्नपत्र में दिए गए निर्देशों को ध्यान से पढ़ें। प्रश्नपत्र में दिए गए प्रश्नों के उत्तर देने से पहले आप इस पुस्तिका की जाँच करके देखें कि इस पुस्तिका में कोई पृष्ठ कम या अतिरिक्त नहीं है, कोई पृष्ठ दोहराया गया है या कोई पृष्ठ दोहराया गया है। यदि आप इस पुस्तिका में कोई त्रुटि पाते हैं, तो तुरंत इसे बदलवा लें।
- उत्तर देते समय, आप प्रश्नपत्र में दिए गए निर्देशों को ध्यान से पढ़ें। प्रश्नपत्र में दिए गए प्रश्नों के उत्तर देने से पहले आप इस पुस्तिका की जाँच करके देखें कि इस पुस्तिका में कोई पृष्ठ कम या अतिरिक्त नहीं है, कोई पृष्ठ दोहराया गया है या कोई पृष्ठ दोहराया गया है। यदि आप इस पुस्तिका में कोई त्रुटि पाते हैं, तो तुरंत इसे बदलवा लें।
- उत्तर देते समय, आप प्रश्नपत्र में दिए गए निर्देशों को ध्यान से पढ़ें। प्रश्नपत्र में दिए गए प्रश्नों के उत्तर देने से पहले आप इस पुस्तिका की जाँच करके देखें कि इस पुस्तिका में कोई पृष्ठ कम या अतिरिक्त नहीं है, कोई पृष्ठ दोहराया गया है या कोई पृष्ठ दोहराया गया है। यदि आप इस पुस्तिका में कोई त्रुटि पाते हैं, तो तुरंत इसे बदलवा लें।
- उत्तर देते समय, आप प्रश्नपत्र में दिए गए निर्देशों को ध्यान से पढ़ें। प्रश्नपत्र में दिए गए प्रश्नों के उत्तर देने से पहले आप इस पुस्तिका की जाँच करके देखें कि इस पुस्तिका में कोई पृष्ठ कम या अतिरिक्त नहीं है, कोई पृष्ठ दोहराया गया है या कोई पृष्ठ दोहराया गया है। यदि आप इस पुस्तिका में कोई त्रुटि पाते हैं, तो तुरंत इसे बदलवा लें।
- उत्तर देते समय, आप प्रश्नपत्र में दिए गए निर्देशों को ध्यान से पढ़ें। प्रश्नपत्र में दिए गए प्रश्नों के उत्तर देने से पहले आप इस पुस्तिका की जाँच करके देखें कि इस पुस्तिका में कोई पृष्ठ कम या अतिरिक्त नहीं है, कोई पृष्ठ दोहराया गया है या कोई पृष्ठ दोहराया गया है। यदि आप इस पुस्तिका में कोई त्रुटि पाते हैं, तो तुरंत इसे बदलवा लें।
- उत्तर देते समय, आप प्रश्नपत्र में दिए गए निर्देशों को ध्यान से पढ़ें। प्रश्नपत्र में दिए गए प्रश्नों के उत्तर देने से पहले आप इस पुस्तिका की जाँच करके देखें कि इस पुस्तिका में कोई पृष्ठ कम या अतिरिक्त नहीं है, कोई पृष्ठ दोहराया गया है या कोई पृष्ठ दोहराया गया है। यदि आप इस पुस्तिका में कोई त्रुटि पाते हैं, तो तुरंत इसे बदलवा लें।

SEAL

PART - 1 / भाग - 1

GENERAL INTELLIGENCE / सामान्य बुद्धिमत्ता

Directions : In questions numbers 5 to 13, find the odd word/number/letters/number pair from the given alternatives.

निर्देश : प्रश्न संख्या 5 से 13 तक में, दिए गए विकल्पों में से विषम शब्द/संख्या/अक्षर/संख्या युग्म चुनिए।

1. If  $246 = 8$ ,  $634 = 0$  and  $327 = 6$  then  $423 = ?$   
 यदि  $246 = 8$ ,  $634 = 0$  और  $327 = 6$  तो  $423 = ?$   
 (A) 9 (B) 8 (C) 7 (D) 10

2. If the given interchanges are made in signs and numbers, which one of the following equation is true? (Signs:  $\times$  and  $+$ , Number: 6 and 5)  
 यदि चिन्हों और संख्याओं में निहित अन्तर्विनिमय किया जाय है तो निम्नलिखित में से कौनसा समीकरण सही होगा?  
 (चिन्ह:  $\times$  और  $+$ , संख्या: 6 और 5)

- (A)  $26 \times 5 + 6 = 647$  (B)  $5 \times 6 + 31 = 588$   
 (C)  $90 + 5 \times 6 = 88$  (D)  $18 + 6 + 5 = 90$

3. In a certain code MISCHIEF is written as NKVGMJOLN, then how is RELIEVED written in that code?  
 किसी कोड में MISCHIEF को NKVGMJOLN लिखा जाय है, तो RELIEVED को किस कोड में लिखा जाएगा?

- (A) SFMIFWEE (B) SDCMIVED  
 (C) SEQIVED (D) SDCMJBEL

4. In certain code PEN is coded as 123, PENCIL as 123456, CABLE as 48962, then 6283123456 means what?  
 किसी कोड में PEN को 123 कोडिफ़ाई किया गया है, PENCIL को 123456 और CABLE को 48962, तो 6283123456 किसका कोड है?

- (A) LEANPENCIL (B) LANPENCIL  
 (C) LEANPENCIL (D) LAENPENCIL

5. (A) D&UZ (B) L.PuB  
 (C) Po&Y (D) L&M

6. (A) 12:96 (B) 13:117  
 (C) 15:120 (D) 16:128

7. (A) Helicopter (B) Aeroplane  
 (C) Sub-marine (D) Rocket  
 (A) हेलीकॉप्टर (B) विमान  
 (C) पर्यवेक्षी (D) रॉकेट

8. (A) 81:9 (B) 24:6 (C) 54:17 (D) 42:2

9. (A) 3245 (B) 6578  
 (C) 7689 (D) 4567

10. (A) DKRW (B) CNPT (C) KXNY (D) FIHL

11. (A) NOKIA (B) MTS  
 (C) BSNL (D) RIM  
 (A) नॉकिया (B) एम टी एस  
 (C) बी एस एन एल (D) रिम

12. (A) HD (B) JK (C) PN (D) SU

13. (A) Horn/धुम (B) Fuel/धुम  
 (C) Gear/गियर (D) Engine/इंजन

2

14. On arranging Atomic Age, Metallic Age, Stone Age, Alloy Age in a meaningful order (starting from the earliest) which would appear in the 3<sup>rd</sup> position?

- (A) Stone Age (B) Metallic Age  
(C) Atomic Age (D) Alloy Age

परमाणु युग, धातुयुग, प्रस्तर (प्राचीन) युग और मिश्रधातु युग को (सबसे प्रारंभ से शुरू करते हुए) यदि सार्थक क्रम में रखा जाए, तो तीसरे स्थान पर कौनसा युग होगा?

- (A) प्रस्तर युग (B) धातुयुग  
(C) परमाणु युग (D) मिश्रधातु युग

15. Arrange the following words as per their order in Dictionary.

निम्नलिखित शब्दों को उनके शब्दकोश के क्रम में लिखें।

- (1) Cinabar (2) Cinder  
(3) Cinema (4) Cinnamon  
(5) Cichona

- (A) (2), (3), (5), (4), (1) (B) (4), (3), (5), (2), (1)  
(C) (5), (2), (3), (1), (4) (D) (5), (2), (1), (4), (3)

16. Arrange the words in ascending order of their magnitude.

इन शब्दों को उनके परिमाण के आधार पर आरोही क्रम में लिखें।

- (1) Mega/मेगा (2) Kilo/किलो  
(3) Tera/टेरा (4) Giga/गीगा

- (A) (1), (2), (3), (4) (B) (1), (3), (2), (4)  
(C) (2), (1), (4), (3) (D) (2), (4), (1), (3)

Directions: In question numbers 17 and 18, one statement is given, followed by two assumptions, I and II. You have to consider the statement to be true, even if they seem to be at variance from commonly known facts. You have to decide which of the given assumptions, if any, follows from the given statement.

निर्देश : प्रश्न संख्या 17 और 18 में, एक कथन दिया गया है जिसके आगे दो पूर्वानुमान I और II निकाले गए हैं। आपको मानना है कि कथन सत्य है चाहे वह सामान्यतः ज्ञात तथ्यों से भिन्न प्रतीत होता हो। आपको निर्णय करना है कि दिए गए पूर्वानुमान में से कौन-से निहितार्थ रूप से कथन द्वारा सही निकाला जा सकता है/सकते हैं, यदि कोई हो।

17. Statement: The impact of economic sanctions on economy, that is already so weak could be devastating.

Assumption I: Economic sanctions impact only a weak economy.

Assumption II: The impact of economic sanctions varies from economy to economy.

- (A) Neither I nor II are implicit.  
(B) Both I and II are implicit.  
(C) Only I is implicit.  
(D) Only II is implicit.

कथन : ऐसी आर्थिक दबावों पर जो पहले से ही कार्पो-कमजोर हो, आर्थिक शक्तियों का प्रभाव विध्वंसकारी हो सकता है।

पूर्वानुमान I : आर्थिक शक्तियों केवल कमजोर आर्थिक व्यवस्थाओं को प्रभावित करती है।

पूर्वानुमान II : आर्थिक शक्तियों का प्रभाव भिन्न-भिन्न आर्थिक व्यवस्थाओं पर भिन्न-भिन्न होता है।

- (A) न I सही है और न II  
(B) I और II दोनों सही हैं  
(C) केवल I सही है  
(D) केवल II सही है

SPACE FOR ROUGH WORK / रफ कार्यों के लिये जगह

3



**A** 18. Statement: "There is very heavy traffic on the road between 5-7 pm. We need to have a flyover in this area". A planning engineer said in a meeting.

Assumption I: Heavy traffic should be regulated.

Assumption II: Previous planning engineers did not do much about heavy traffic.

- (A) Only Assumption I is implicit.  
 (B) Only Assumption II is implicit.  
 (C) Neither I nor II are implicit.  
 (D) Both I and II are implicit.

कथन : "सायं, 5 से 7 बजे के बीच सड़क पर सबसे अधिक यातायात होता है। इस इलाके में फ्लाईओवर बनाना आवश्यक है" - यह बात एक बैठक में एक प्लानिंग इंजीनियर ने कही।

पूर्वानुमान I : भारी यातायात को नियंत्रित करना चाहिए।

पूर्वानुमान II : पहले के प्लानिंग इंजीनियरों ने भारी यातायात के लिए कुछ नहीं किया।

- (A) केवल पूर्वानुमान I सही है।  
 (B) केवल पूर्वानुमान II सही है।  
 (C) न I सही है और न II।  
 (D) I और II दोनों सही हैं।

**C** 19. Which one set of letters when sequentially placed at the gaps in the given letter series shall complete it?

अक्षरों का कौन-सा समूह खाली स्थानों पर क्रमवार रखने से दी गई अक्षर श्रृंखला को पूरा करेगा ?

z a b b c a b c a b c a b c

- (A) a b a b (B) b b a a  
 (C) b a b a (D) a b b b

**B** 20. If two days back it was 9<sup>th</sup> November 2014 and it was a Sunday, then tomorrow will be ?

- (A) 12<sup>th</sup> November 2014, Thursday.  
 (B) 13<sup>th</sup> November 2014, Wednesday.  
 (C) 12<sup>th</sup> November 2014, Tuesday.  
 (D) 12<sup>th</sup> November 2014, Wednesday.

यदि दो दिन पहले 9 नवम्बर 2014 शनिवार को और अजिब का दिन था तो अगले कौन सा दिन होगा ?

- (A) 12 नवम्बर, 2014, मंगलवार  
 (B) 13 नवम्बर, 2014, बुधवार  
 (C) 12 नवम्बर, 2014, सोमवार  
 (D) 12 नवम्बर, 2014, बुधवार

**C** 21. Prema has a son named Anand. He is Prema's brother. Neha has a daughter named Rashmi. Neha is Rajiv's sister. What is Anand's relationship to Rashmi ?

- (A) Uncle  
 (B) Brother-in-law  
 (C) Cousin  
 (D) Nephew

प्रेमा का एक पुत्र है जिसका नाम आनन्द है। राजीव, प्रेमा का भाई है। नेहा की एक पुत्री है। नेहा, राजीव की बहन है। आनन्द का राजीव से संबंध क्या है ?

- (A) मामा/चाचा  
 (B) देवर/बहनोई  
 (C) मौसुर/मसुरी/बहने/तहिन/भाई-बहन  
 (D) भतीजा



Directions: In question numbers 22 to 30, select the related word/letters/ number from the given alternatives.

निर्देश : प्रश्न संख्या 22 से 30 में दिए गए विकल्पों में से सम्बन्धित शब्द/अक्षरों/संख्या को चुनिए।

22. QPQR : XWVY :: LKJM : ?

- B** (A) DEGF (B) CBAD  
 (C) FHGI (D) SRTU

23. 7 : 42 :: 8 : ?

- C** (A) 49 (B) 57 (C) 56 (D) 30

SPACE FOR ROUGH WORK / रफ कार्य के लिये जगह

24. Patient : Fowler Bed :: ?

- B** (A) Necklace : Adornment  
 (B) ~~Baby : Cradle~~  
 (C) Trophy : Achievement  
 (D) Certificate : Merit  
 शरीर : फोव्लर बेड :: ?  
 (A) ~~नेकलेस : सजावट~~  
 (B) ~~बच्चा : पोसक~~  
 (C) ~~तुकड़ी : उपलब्धि~~  
 (D) ~~प्रमाण पत्र : पौराणिक~~

25. School Teacher : Bank :: ?

- C** (A) Banker (B) Manager  
 (C) ~~Cashier~~ (D) Peon  
 शिक्षक : बैंक :: ?  
 (A) बैंकर (B) मैनेजर (प्रबंधक)  
 (C) कैशियर (रोकड़िया) (D) पदरसी

26. Exercise : Gym :: Eating :: ?

- D** (A) Food (B) Dieting  
 (C) Fitness (D) ~~Restaurant~~  
 व्यायाम : जिम :: खाना :: ?  
 (A) भोजन (B) डाइटिंग  
 (C) स्वास्थ्य (D) रेस्टोरेंट

27. VVXY : RRTU :: FFHH :: ?

- A** (A) ~~CCDF~~ (B) LUVZ  
 (C) SSEV (D) ~~XXYB~~

28. 49 : 343 :: 64 :: ?

- B** (A) 634 (B) 512  
 (C) 486 (D) 514

29. JKPO : LMNM :: ? : PQIJ

- B** (A) LKNO (B) ~~WXJK~~  
 (C) ~~NOKL~~ (D) ~~KCLN~~

30. 7 : 77 :: ?

- B** (A) 8 : 64 (B) ~~11 : 143~~  
 (C) 3 : 81 (D) 6 : 24

Directions : In question numbers 31 to 35, a series is given, with one term missing. Choose the correct alternative from the given ones that will complete the series.

निर्देश : प्रश्न संख्या 31 से 35 में, एक अनुक्रम दिया है, जिसमें एक पद लुप्त है। दिए गए विकल्पों में से वह सही विकल्प चुनिए जो अनुक्रम को पूरा करे।

31.  $3, 5, 9, 15, 23, 33, 35, ?$   
**B** (A) 60 (B) ~~75~~ (C) 72 (D) 81

32. OTE, PLT, QVC, RWH :: ?

- D** (A) SYI (B) TGI (C) SXI (D) ~~SXI~~

33. 18, 61, 25, 52, 36, 63, 44 :: ?

- D** (A) 36 (B) 46 (C) 72 (D) ~~94~~

34.  $7, 18, 30, 45, 63, 84, 117, ?$

- C** (A) 150 (B) 161 (C) ~~172~~ (D) 183

35. AFKPU, BGLQV, CHMRW :: ?

- A** (A) ~~DINSX~~ (B) KLMNO  
 (C) UVWXY (D) ~~VOLGB~~

Directions : In question numbers 36 and 37, from the given alternative words, select the word which cannot be formed using the letters of the given word.

निर्देश : प्रश्न संख्या 36 और 37 तक निम्नलिखित विकल्पों में से वह शब्द चुनिए जो दिए गए शब्द के अक्षरों का प्रयोग करके नहीं बनाया जा सकता।

36. METAPHYSICS

- D** (A) HEATS (B) PESTS  
 (C) TEAMS (D) ~~SEEMS~~

37. RAILWAYSTATION

- D** (A) STORY (B) STAIR  
 (C) NOTARY (D) ~~CSITIS~~

38. Sitara walked 45 metres in North-West from her uncle's house. There she met her friend and they walked 45 metres in South-West direction. Then they walked 45 metres in South-East direction and turned to uncle's house. Now in which direction they are going?

- C** (A) South-West (B) North-East  
 (C) ~~South-East~~ (D) North-West

सितारा अपने चाचा के घर से 45 मीटर उत्तर-पश्चिम की ओर चलती है। वहाँ उसे उसकी एक सहेली मिलती है और वे दोनों मिलकर 45 मीटर दक्षिण-पश्चिम की दिशा में जाती हैं। फिर वे 45 मीटर दक्षिण-पूर्व की दिशा में जाती हैं और चाचा के घर की ओर मुड़ जाती हैं। अब वे किससे दिशा में जा रही हैं?

- (A) दक्षिण-पश्चिम (B) उत्तर-पूर्व  
 (C) दक्षिण-पूर्व (D) उत्तर-पश्चिम

SPACE FOR ROUGH WORK / रफ कार्य के लिये जगह



39. **A** Q walked 20 m towards west, took a left turn and walked 20 m. He then took a right turn and walked 30 m and again took a right turn and walked 20 m. How far is Q now from the starting point?

Q 20 मीटर पश्चिम की ओर चला, बाएँ मुड़ और 20 मीटर चला। फिर वह दाएँ मुड़ और 20 मीटर चला और फिर दाएँ मुड़ और 20 मीटर चला। Q उस बिन्दु से अभी कितना दूर है जहाँ से उसने जाना प्रारम्भ की थी ?

- (A) 40 m/मी. (B) 50 m/मी.  
(C) 80 m/मी. (D) 120 m/मी.

Directions : In question numbers 40 to 43, a series is given, with one term missing. Choose the correct alternative from the given ones that will complete the series.

निर्देश : प्रश्न संख्या 40 से 43 में एक अनुक्रम दिया है, जिसमें एक पद लुप्त है। दिए गए विकल्पों में से वह सही विकल्प चुनिए जो अनुक्रम को पूरा करे।

40. **D** (A) 22 (B) 320 (C) 14 (D) 32

41. **B** (A) 49 (B) 39 (C) 42 (D) 35

42. **B** (A) 5 (B) 4 (C) 3 (D) 2

43. **B**

65	77	87
21	122	21
44	55	66

- (A) 21 (B) 22 (C) 20 (D) 23

44. **B** From the given answer figures, select the one in which the question figure is hidden/embedded

दो गई उत्तर आकृतियों में से उस उत्तर आकृति को चुनिए जिसमें प्रश्न आकृति निहित है।

Question figure/प्रश्न आकृति



Answer figures/उत्तर आकृतियाँ



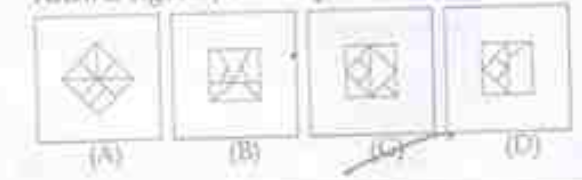
45. **C** Which answer figure will complete the pattern in the question figure?

कोई सी उत्तर आकृति प्रश्न आकृति के प्रतिरूप को पूरा करेगी ?

Question figure/प्रश्न आकृति



Answer figures/उत्तर आकृतियाँ



SPACE FOR ROUGH WORK / रफ कार्य के लिये जगह

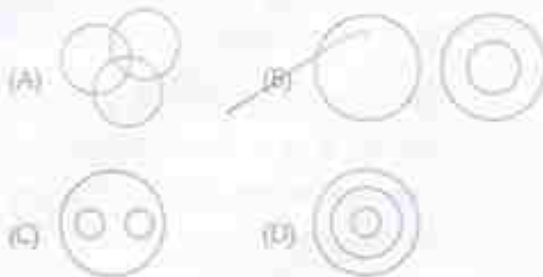




46. Which one of the following diagrams best depicts the relationship among Plant, Animal, Deer.

**B**

निम्नलिखित में से कौन-सा आरेख 'पौधे', 'पशु', 'हिरन' के बीच संबंध को दर्शाता है।



47. Identify the answer figure from which the pieces given in the question figure have been cut.

**B**

वे उत्तर-चित्र बताएँ जिनमें से प्रश्न-चित्र में दिए गए अंश काटे गए हैं।

Question figure / प्रश्न आकृति



Answer figures / उत्तर आकृतियाँ



48. Find water image of:

**D**

जल- प्रतिबिम्ब ज्ञात करें।



49. A piece of paper is folded and punched as shown below in the question figures. From the given answer figures, indicate how it will appear when opened.

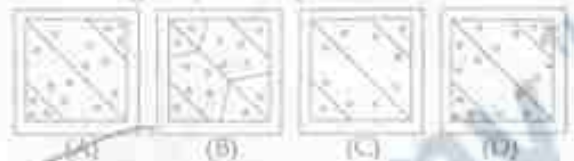
**A**

तीने प्रश्न आकृतियों में दिखाए अनुसार कागज को मोड़कर छेदने तथा खोलने के बाद वह किस उत्तर आकृति जैसा दिखाई देगा?

Question figures / प्रश्न आकृतियाँ



Answer figures / उत्तर आकृतियाँ



50. A word is represented by only one set of numbers as given in any one of the alternatives. The sets of numbers given in the alternatives are represented by two classes of alphabets as in two matrices given below.

**D**

The columns and rows of Matrix I are numbered from 0 to 4 and that of Matrix II are numbered from 5 to 9. A letter from these matrices can be represented first by its row and next by its column, e.g., 'A' can be represented by 03, 12 etc., and 'N' can be represented by 56, 65 etc. Similarly, you have to identify the set for the word 'DRAW'.

यदि एक शब्द केवल एक संख्या-समूह द्वारा दर्शाया गया है, जैसा कि विकल्पों में से किसी एक में दिया गया है। विकल्पों में दिए गए संख्या-समूह अक्षरों के दो वर्गों द्वारा दर्शाए गए हैं, जैसा कि नीचे दिए गए दो आव्यूहों में है। आव्यूह I के स्तंभ और पंक्तियों को संख्या 0 से 4 में दी गई है और आव्यूह II की 5 से 9. इन आव्यूहों से एक शब्द को पहले उसकी पंक्ति और बाद में स्तंभ संख्या द्वारा दर्शाया जा सकता है। उदाहरण के लिए, 'A' को 03, 12 आदि द्वारा दर्शाया जा सकता है तथा 'N' को 56, 65 आदि द्वारा दर्शाया जा सकता है। इसी तरह से आपको प्रश्न में दिए शब्द 'DRAW' के लिए समूह को पहचानना है।

MATRIX / आव्यूह - I

	0	1	2	3	4
0	D	O	B	A	T
1	O	B	A	I	D
2	B	A	I	D	O
3	A	I	D	O	B
4	I	D	O	B	A

MATRIX / आव्यूह - II

	5	6	7	8	9
5	W	N	R	M	L
6	N	R	M	L	W
7	R	M	L	W	N
8	M	L	W	N	R
9	L	W	N	R	M

(A) 11, 66, 23, 55 ✗

(C) 23, 57, 30, 68 ✗

(B) 32, 75, 44, 76 ✗

(D) 14, 89, 12, 78 ✓

SPACE FOR ROUGH WORK / रफ-कार्य के लिये जगह

**PART - II**  
**ENGLISH LANGUAGE**

Directions: In question numbers 51 to 54, four alternatives are given for the Idiom/Phrase underlined. Choose the alternative which best expresses the meaning of the Idiom/Phrase and mark it in the Answer Sheet.

51. My brother puts by a little money every month.  
**D** (A) loses (B) gives away  
 (C) spends carefully ~~(D) saves~~
52. To call it a day  
**D** (A) the day was marvellous  
 (B) decide to finish working  
 (C) give the day a name  
 (D) put off work for another day
53. I was in two minds whether to buy a new television or a new computer.  
**A** ~~(A) to be undecided~~  
 (B) to take two decisions  
 (C) to lose one's mind  
 (D) to be firm
54. Ramah was in cloud nine when she heard that she had won the lottery.  
**A** (A) very happy (B) shocked  
~~(C) confused~~ (D) frustrated

Directions: In question numbers 55 to 58, a part of the sentence is underlined. Below are given alternatives to the underlined part at (A), (B), (C) which may improve the sentence. Choose the correct alternative. In case no improvement is needed your answer is (D). Mark your answer in the Answer Sheet.

55. The medicine must be taken by you.  
**B** (A) takes (B) taken  
 (C) taking (D) No improvement
56. The Sun is has changed its path.  
**B** (A) journey (B) course  
 (C) line ~~(D) No improvement~~
57. How many country are there in Europe?  
**C** (A) countries are their in  
 (B) country are there on  
~~(C) countries are there in~~  
 (D) No improvement

58. We stayed in Mumbai in five days.  
**B** (A) with ~~(B) for~~  
 (C) at (D) No improvement

Directions: In question numbers 59 to 62, sentences given with blanks to be filled in with an appropriate word(s). Four alternatives are suggested for each question. Choose the correct alternative out of the four and indicate it by blackening the appropriate circle [●] in the Answer Sheet.

59. This area suffers from \_\_\_\_\_  
**D** (A) droughts ~~(B) draughts~~  
 (C) drafts ~~(D) drought~~
60. He agreed \_\_\_\_\_ my business proposal.  
**C** (A) for (B) on ~~(C) to~~ (D) at
61. All of us are devoted \_\_\_\_\_ one another.  
**C** ~~(A) of~~ (B) at ~~(C) to~~ (D) for
62. \_\_\_\_\_ is the way to the zoo?  
**A** ~~(A) Which~~ (B) Where  
 (C) When (D) What

Directions: In question numbers 63 and 64, a sentence has been given in Active/Passive Voice. Out of the four alternatives suggested, select the one which best expresses the same sentence in Passive/Active Voice and mark your answer in the Answer Sheet.

63. People say that he is a spy.  
**B** (A) It has been said by the people that he is a spy.  
~~(B) It is said that he is a spy.~~  
 (C) He is a spy was said by people.  
 (D) A spy that he is said the people.
64. Has he completed the assignments?  
**A** (A) Have the assignments been completed by him?  
 (B) Have the assignments completed by him?  
 (C) Has the assignments been completed by him?  
 (D) Has the assignments being completed by him?



Directions : In question numbers 65 and 66, a sentence has been given in Direct/Indirect. Out of the four alternatives suggested, select the one which best expresses the same sentence in Indirect/Direct and mark your answer in the Answer Sheet.

- A** 65. Ashok said to me, "Your parents are waiting for you."  
~~(A) Ashok told me that my parents were waiting for me.~~  
 (B) Ashok told to me that my parents were waiting for me.  
 (C) Ashok told me that his parents were waiting for him.  
 (D) Ashok told me that his parents are waiting for him.
- A** 66. The teacher said, "The Earth moves round the Sun."  
~~(A) The teacher said that the Earth moves round the Sun.~~  
 (B) The teacher asked that the Earth moves round the Sun.  
 (C) The teacher told that the Earth moved round the Sun.  
 (D) The teacher told that the Earth has moved round the Sun.

Directions : In question numbers 67 to 70, out of the four alternatives, choose the one which best expresses the meaning of the given word and mark it in the Answer Sheet.

- B** 67. Genuine  
 (A) Local ~~(B) Authentic~~  
 (C) Clever ~~(D) Concerned~~
- B** 68. Accuracy  
 (A) Agreement ~~(B) Precision~~  
 (C) Attachment ~~(D) Cleverness~~
- C** 69. Convoit  
 (A) Partner ~~(B) Convey~~  
 (C) Chide ~~(D) Protect~~
- D** 70. Reverse  
 (A) Return ~~(B) Disaster~~  
 (C) Regain ~~(D) Income~~

Directions : In question numbers 71 to 74, out of the four alternatives, choose the one which can be substituted for the given words/ sentences and indicate it by blackening the appropriate circle [●] in the Answer Sheet.

- B** 71. A person who steals the writing of others.  
 (A) popular ~~(B) plagiarist~~  
 (C) nepotism ~~(D) plagiarism~~

72. Animals living in water:

- A** ~~(A) aquatic~~ (B) amphibian  
 (C) gregarious (D) mammal

73. One who compiles a dictionary:

- C** (A) lexical ~~(B) lexicography~~  
 (C) lexicographer (D) lexicon

74. Someone not fit to be chosen:

- A** ~~(A) ineligible~~ (B) uneligible  
 (C) indigible (D) non-eligible

Directions : In question numbers 75 to 78, four words are given in each question, out of which only one word is correctly spelt. Find the correctly spelt word and mark your answer in the Answer Sheet.

75. ~~(A) Preference~~ (B) Preferece **B**  
 (C) Prefereence (D) Prefereence
76. (A) Riverberation (B) Revaberation  
**C** ~~(C) Reverberation~~ (D) Revaberation
77. (A) Advertice (B) Advetice  
**C** ~~(C) Advertice~~ (D) Advetise
78. (A) Remarkebel ~~(B) Remarkable~~  
**B** (C) Remarkabel (D) Remarkble

Directions : In question numbers 79 to 82, the 1<sup>st</sup> and the last part of sentences are numbered 1 and 6. The rest of the sentence is split into four parts and named P, Q, R and S. These four parts are not given in their proper order. Read the sentence and find out which of the four combinations is correct. Then find the correct answer and indicate it in the Answer Sheet.

79. 1. In recent years  
 P. primarily because purchasing  
 Q. has grown more intense  
 R. price competition in most industries  
 S. managers now exert much influence  
 6. over suppliers.  
~~(A) RQPS~~ (B) SRPQ  
 (C) SPRQ (D) RSPQ
80. 1. Right from  
**B** P. have been used as a measure of time  
 Q. prehistoric times  
 R. and have formed the basis of  
 S. the phases of the moon  
 6. the earliest calendar.  
 (A) PRSQ ~~(B) QSPR~~  
 (C) SRQP (D) QRSP

81. 1. Without water  
P. and consequently  
Q. the oxygen content in the atmosphere  
R. which carry out photosynthesis and release oxygen  
S. there would be no animals or plants  
6. would go down  
~~(A) SPQR~~ (B) TRQS  
(C) SRPQ (D) STPQ

82. 1. The internet is  
P. a worldwide network  
Q. that should not be  
R. regulated or censored  
S. by any one country  
6. howsoever strong the temptation.  
~~(A) PQRS~~ (B) PRSQ  
(C) PRQS (D) PSQR

Directions : In question numbers 83 to 86, some parts of the sentences have errors and some are correct. Find out which part of a sentence has an error and blacken the circle [●] corresponding to the appropriate letter (A), (B), (C). If a sentence is free from error, blacken the circle corresponding to (D) in the Answer Sheet.

83. I will have / both the blue / or the black pen. /  
(A) (B) ~~(C)~~  
No error  
(D)

84. My wife, having finish her work /  
~~(A)~~  
rushed to meet me / at the event. / No error  
(B) (C) (D)

85. Electronic mail or E-mail /  
(A)  
are a method of exchanging / digital messages /  
~~(B)~~  
No error  
(D) (C)

86. You must abide on / the terms of /  
~~(A)~~ (B)  
the government. / No error  
(C) (D)

Directions : In question numbers 87 to 90, choose the word opposite in meaning to the given word and mark it in the Answer Sheet.

87. Grieve  
(B) (A) Mourn ~~(C) Rejoice~~  
(C) Sadness (D) Agony

88. Flawless  
(A) ~~(B) Defective~~ (B) Seconds  
(C) Sick (D) Deficient

89. Obscure  
(D) (A) Vague (B) Enigma  
(C) Distinguish ~~(D) Distinct~~

90. Enduring  
(B) (A) Unwavering (B) Transient  
~~(C) Transitory~~ (D) Abiding

Directions : In question numbers 91 to 100, in the following passages some of the words have been left out. Read the passages carefully and choose the correct answer to each question out of the four alternative and fill in the blanks.

If you 91 to be free from all physical aches and pains, and enjoy perfect physical harmony, then put your mind in order and 92 your thoughts. Think joyful thoughts, think loving thoughts. Let the 93 of goodwill 94 through your veins, and you will need no other medicine. 95 your jealousies, your suspicions, your worries, your hatred, your selfish indulgences, and you will put away your indigestion, your sickness, your 96 and 97. If you will 98 clinging to these 99 and demoralizing habits of minds, then do not complain when your body is 100 sickness.

91. (A) would (B) ~~want~~  
(C) will (D) can

92. (A) co-ordinate (B) harmonize  
~~(C) regulate~~ ~~(D) regularize~~

93. (A) sweetness (B) generosity  
(C) potion ~~(D) elixir~~

94. (A) course ~~(B) fan~~  
(C) race (D) gather

95. ~~(A) throw off~~ (B) discard  
(C) cast away (D) ignore

96. ~~(A) nervousness~~ (B) worries  
(C) happiness (D) confidence

97. ~~(A) despair~~ (B) paining  
(C) cry (D) mercy

98. ~~(A) indulge in~~ (B) care to  
(C) persisting (D) continue to

99. (A) unhealthy (B) good  
(C) worse ~~(D) vitruous~~

100. ~~(A) laid up with~~ (B) lying with  
(C) laid low with (D) affected to

PART - III / भाग - III

QUANTITATIVE APTITUDE / संख्यात्मक अभिरुचि

101. If the angle of elevation of the sun changes from  $45^\circ$  to  $60^\circ$ , then the length of the shadow of a pillar decreases by 10 m. The height of the pillar is:

यदि सूर्य का उन्नयन कोण  $45^\circ$  से बदलकर  $60^\circ$  हो जाता है, तो स्तंभ की छाया की लंबाई 10 मी. कम हो जाती है। स्तंभ की लंबाई कितनी है?

(A)  $5(\sqrt{3} + 1)$  मी.

(B)  $15(\sqrt{3} + 1)$  मी.

(C)  $5(\sqrt{3} - \sqrt{3})$  मी.

(D)  $3(3 - \sqrt{3})$  मी.



$h = x$   
 $h(x-10) = 10\sqrt{3}$   
 $h(3h-10) = 10\sqrt{3}$

102. The area of a circle whose radius is the diagonal of a square whose area is 4 is:

एक वृत्त का क्षेत्रफल क्या होगा जिसकी त्रिज्या 4 वर्गफुट वाले वर्ग की विकर्ण है?

(A)  $4\pi$  (B)  $6\pi$  (C)  $5\pi$  (D)  $16\pi$



2  $\sqrt{2}$

103. If  $4\sin^2\theta - 1 = 0$  and angle  $\theta$  is less than  $90^\circ$ . The value of  $\cot^2\theta + \tan^2\theta$  is: (Take  $0^\circ < \theta < 90^\circ$ )

यदि  $4\sin^2\theta - 1 = 0$  और कोण  $\theta$ ,  $90^\circ$  से कम है, तो  $\cot^2\theta + \tan^2\theta$  का मान क्या होगा? (माना  $0^\circ < \theta < 90^\circ$ )

(A)  $\frac{13}{12}$  (B)  $\frac{11}{9}$  (C)  $\frac{13}{11}$  (D)  $\frac{17}{15}$

D

104. A train passes two bridges of lengths 500 m and 250 m in 100 seconds and 60 seconds respectively. The length of the train is:

एक ट्रेन दो पुलों की लंबाई 500 मी. और 250 मी. लंबे दो पुलों को क्रमशः 100 सेकंड और 60 सेकंड में पार कर लेती है। ट्रेन की लंबाई कितनी है?

(A) 125 m (B) 250 m

(C) 120 m (D) 152 m

A

105. If  $\sqrt{7} = 2.646$ , then the value of  $\frac{1}{\sqrt{28}}$  up to three places of decimal is:

यदि  $\sqrt{7} = 2.646$  है, तो दशमलव के तीन स्थानों तक  $\frac{1}{\sqrt{28}}$  का मान क्या होगा?

(A) 0.185 (B) 0.187

(C) 0.189 (D) 0.183

106. A man bought some eggs of which 10% are rotten. He gives 80% of the remainder to his neighbours. Now he is left out with 36 eggs. How many eggs did he bought?

एक आदमी ने कुछ अंडे खरीदे जिनमें से 10% खराब थे। शेष में से 80% वह पड़ोसियों को दे देता है। अब उसके पास 36 अंडे बच जाते हैं। उसने कितने अंडे खरीदे थे?

(A) 100 (B) 200 (C) 72 (D) 40

107. E is the mid-point of the median AD of  $\triangle ABC$ . BE is joined and produced to meet AC at F. F divides AC in the ratio:

E  $\triangle ABC$  के माध्यम AD का मध्य बिंदु है। AC को F पर मिलने के लिए BE को मिलाकर प्रस्तुत गण है। F किस अनुपात में AC को विभाजित करता है?

(A) 2:1 (B) 1:3 (C) 3:2 (D) 2:3

108. A single discount equivalent to the series of discounts 20%, 10% and 5% is equal to:

20%, 10% और 5% की श्रृंखला के समतुल्य एकल श्रृंखला का अंतर है?

(A) 30% (B) 30.7% (C) 31.5% (D) 32%

109. The sum of two numbers is 37 and the difference of their squares is 185, then the difference of the two numbers is:

दो संख्याओं का योग 37 है और उनके वर्गों का अंतर 185 है, तो दो संख्याओं का अंतर क्या होगा?

(A) 4 (B) 5 (C) 7 (D) 10

SPACE FOR ROUGH WORK / रफ कार्य के लिये जगह

Handwritten calculations for question 109:  

$$\begin{matrix} 50 & + & 2 & = & 52 \\ \hline 2 & & & & \\ \hline 52 & & & & \\ \hline 2 & & & & \\ \hline 50 & & & & \end{matrix}$$

$$\begin{matrix} 50 & + & 2 & = & 52 \\ \hline 2 & & & & \\ \hline 52 & & & & \\ \hline 2 & & & & \\ \hline 50 & & & & \end{matrix}$$

$$50 + 2 = 52$$

$$52 - 2 = 50$$

$$50 + 37 = 87$$

$$87 - 50 = 37$$

$$37^2 - 50^2 = 1369 - 2500 = -1131$$

$$37^2 - 5^2 = 1369 - 25 = 1344$$

$$37^2 - 7^2 = 1369 - 49 = 1320$$

$$37^2 - 10^2 = 1369 - 100 = 1269$$





110. The value of

**B**  $\left(2 - \frac{1}{3}\right)\left(2 - \frac{3}{5}\right)\left(2 - \frac{5}{7}\right) \dots \left(2 - \frac{997}{999}\right)$  का मान क्या है?

- (A)  $\frac{5}{999}$  (B)  $\frac{1001}{3}$   
 (C)  $\frac{1001}{999}$  (D)  $\frac{1001}{5}$

111. If  $x+y+z=6$  and  $xy+yz+zx=10$ , then the value of  $x^3+y^3+z^3-3xyz$  is:

**D** यदि  $x+y+z=6$  और  $xy+yz+zx=10$  है, तो  $x^3+y^3+z^3-3xyz$  का मान क्या होगा?

- (A) 48 (B) 42 (C) 40 (D) 36

112. The ratio of circumference and diameter of a circle is

**B** 22:7. If the circumference be  $1\frac{4}{7}$  m, then the radius of the circle is:

एक वृत्त की परिधि और व्यास का अनुपात 22:7 है। यदि परिधि  $1\frac{4}{7}$  मी. हो, तो वृत्त की त्रिज्या कितनी होगी?

- (A)  $\frac{1}{2}$  m/मी. (B)  $\frac{1}{4}$  m/मी.  
 (C) 1 m/मी. (D)  $\frac{1}{3}$  m/मी.

113. The radius of base and curved surface area of a right cylinder be  $r$  units and  $4\pi r^2$  square units respectively. The height of the cylinder is:

**B** एक लंब बेलन की आधार त्रिज्या और वक्र सतह क्षेत्रफल क्रमशः  $r$  यूनिट और  $4\pi r^2$  वर्ग यूनिट है, तो बेलन की ऊँचाई क्या है?

- (A)  $h$  units/यूनिट (B)  $2r$  units/यूनिट  
 (C)  $4r$  units/यूनिट (D)  $\frac{h}{2}$  units/यूनिट

$y = \frac{1}{2}, x = \frac{1}{3}, \frac{1}{5}$   
 $\frac{x+1}{y-1} = \frac{1}{4}$  and  $\frac{1-y}{1+y} = \frac{1}{3}$ , then the value of

**D**  $\frac{x-y}{1+xy}$  का मान क्या होगा?

- (A)  $\frac{a^2-b^2}{2ab}$  (B)  $\frac{a^2+b^2}{2ab}$   
 (C)  $\frac{a^2-b^2}{ab}$  (D)  $\frac{2ab}{a^2-b^2}$

115. In  $\Delta ABC$ , the external bisectors of the angles  $\angle B$  and  $\angle C$  meet at the point  $O$ . If  $\angle A = 70^\circ$ , then the measure of  $\angle BOC$  is:

**D**  $\Delta ABC$  में, कोण  $\angle B$  और  $\angle C$  के बाहरी द्विभाजक  $O$  बिंदु पर मिलते हैं। यदि  $\angle A = 70^\circ$  है, तो  $\angle BOC$  का माप क्या होगा?

- (A)  $75^\circ$  (B)  $67^\circ$  (C)  $30^\circ$  (D)  $55^\circ$

116. A milkman mixed the water with milk to gain 25% by selling the mixture at cost price. The ratio of water and milk is:

**C** एक दुग्ध विक्रेता ने लागत मूल्य पर दूध बेचकर 25% का लाभ कमाने के लिए दूध में पानी मिला दिया। पानी और दूध का अनुपात कितना है?

- (A) 4:5 (B) 1:5 (C) 1:4 (D) 5:4

117. If bananas are bought at the rate of 4 for a rupee, how many must be sold for a rupee so as to gain  $33\frac{1}{3}\%$ ?

**B** यदि एक रुपये में 4 की दर से केले खरीदे जाएं तो एक रुपये में कितने केले बेचे जाएं कि  $33\frac{1}{3}\%$  का लाभ हो?

- (A) 2 (B) 3 (C)  $4\frac{2}{3}$  (D) 2.5


SPACE FOR ROUGH WORK / रफ़ कार्य के लिये जगह

$kx^2 = 2x^2$   
 $\frac{2x^2}{2x} = \frac{2k}{2x}$   
 $x = \frac{1}{4}$   
 $10x = \frac{1}{4} \times 10 = \frac{10}{4}$   
 12

$10 \frac{5}{10} \frac{10}{2} \frac{10}{2}$   
 $\frac{21 \sqrt{2} \times 21}{4}$   
 $\frac{3 \pi r^2}{3 \times \frac{21 \times 21}{4}}$   
  
 $\frac{3 \pi r^2}{3 \times \frac{21 \times 21}{4}}$

**C** 118. If  $0^\circ < \theta < 90^\circ$  and  $\operatorname{cosec} \theta = \cot^2 \theta$  then the value of the expression  $\operatorname{cosec}^2 \theta - 2 \operatorname{cosec}^4 \theta + \cot^2 \theta$  is equal to:  
 यदि  $0^\circ < \theta < 90^\circ$  और  $\operatorname{cosec} \theta = \cot^2 \theta$  है, तो परसंज्ञित  $\operatorname{cosec}^2 \theta - 2 \operatorname{cosec}^4 \theta + \cot^2 \theta$  का मान किसके बराबर होगा?  
 (A) 0 (B)  $1 \frac{1}{2}$  (C) 2  
 $\frac{16}{3} + 1 = \frac{19}{3}$   
 $16 - 16 = 0$   
 $3 - 10 = -7$   
 $\frac{4}{3}$

**B** 119. If  $a^2 + a + 1 = 0$ , then the value of  $a^2 + a^4 + 1$  is:  
 यदि  $a^2 + a + 1 = 0$  है, तो  $a^2 + a^4 + 1$  का मान क्या होगा?  
 (A) 1 (B) 0 (C)  $a+1$  (D)  $a^2$   
 $a^2 + a + 1 = 0$   
 $a^2 + a = -1$   
 $a^2 = -a - 1$   
 $a^4 = (-a - 1)^2 = a^2 + 2a + 1 = -a - 1 + 2a + 1 = a$   
 $a^2 + a^4 + 1 = -a - 1 + a + 1 = 0$

**A** 120. Six numbers are arranged in decreasing order. The average of the first five numbers is 30 and the average of the last five numbers is 25. The difference of the first and the last numbers is:  
 छह संख्याएं अवरोही क्रम में व्यवस्थित की गई हैं। प्रथम पांच संख्याओं का औसत 30 है और अंतिम पांच संख्याओं का औसत 25 है। प्रथम और अंतिम संख्याओं का अंतर क्या है?  
 (A) 5 (B) 30 (C) 30 (D) 20  


**C** 121. The total surface area of a right circular cylinder with radius of the base 7 cm and height 20 cm, is:  
 आधार त्रिज्या 7 से.मी. और ऊँचाई 20 से.मी. वाले लंब वृत्तीय बेलन का कुल सतह क्षेत्रफल कितना होगा?  
 (A)  $140 \text{ cm}^2/\text{से.मी.}^2$   
 (B)  $1000 \text{ cm}^2/\text{से.मी.}^2$   
 (C)  $1188 \text{ cm}^2/\text{से.मी.}^2$   
 (D)  $90 \text{ cm}^2/\text{से.मी.}^2$

**A** 122. The ratio of the length of a rod and its shadow is  $1 : \sqrt{3}$ . The angle of elevation of the sun is:  
 एक छड़ की लंबाई और उसकी छाया का अनुपात  $1 : \sqrt{3}$  है। सूर्य का उन्नयन कोण क्या है?  
 (A)  $30^\circ$  (B)  $45^\circ$  (C)  $60^\circ$  (D)  $90^\circ$

**C** 123. A hemi-spherical bowl has 35 cm radius. It is to be painted inside as well as outside. The cost of painting it at the rate of ₹ 5 per  $10 \text{ sq. cm}$  will be:  
 एक अर्ध-गोलाकार बटोर की त्रिज्या 35 से.मी. है। इसे भीतर और बाहर से रंगा जाना है। ₹ 5 प्रति  $10 \text{ sq. cm}$  की दर पर इसकी रंगाई की लागत क्या होगी?  
 (A) ₹ 100 (B) ₹ 175 (C) ₹ 100 (D) ₹ 77

**C** 124. The exponential form of  $\sqrt{2} \times \sqrt{3}$  is:  
 $\sqrt{2} \times \sqrt{3}$  का घातात्मक रूप क्या है?  
 (A)  $6^1$  (B)  $6^{-1}$  (C)  $6^{\frac{1}{2}}$  (D)  $6^{\frac{1}{6}}$

**A** 125. A car goes 20 metres in a second. Find its speed in km/hr.  
 एक कार एक सेकंड में 20 मीटर चलती है। उसकी कि.मी./घंटे में गति ज्ञात कीजिए।  
 (A) 72 (B) 36 (C) 20 (D) 18

**B** 126. A rectangular carpet has an area of  $320 \text{ m}^2$  and a perimeter of 160m. The length of its diagonal is:  
 एक आयताकार कार्पेट का क्षेत्रफल  $320 \text{ मी.}^2$  और परिधि 160 मीटर है। उसके विकर्ण की लंबाई कितनी होगी?  
 (A) 13 metre/मीटर (B) 17 metre/मीटर  
 (C) 21 metre/मीटर (D) 29 metre/मीटर

**A** 127. If  $a^2 + b^2 + c^2 - ab - bc - ca = 0$ , then  $a : b : c$  is:  
 यदि  $a^2 + b^2 + c^2 - ab - bc - ca = 0$  है, तो  $a : b : c$  क्या होगा?  
 (A) 1:1:1 (B) 1:2:1  
 (C) 2:1:1 (D) 1:1:2

**C** 128. An article is sold at a profit of 25%. If the selling price is doubled, the profit will be:  
 कोई वस्तु 25% के लाभ पर बेची जाती है। यदि विक्री मूल्य दुगुना कर दिया जाए तो लाभ कितना होगा?  
 (A) 30% (B) 100% (C) 150% (D) 200%

SPACE FOR ROUGH WORK / रफ कार्ब के लिये जगह

AC-2015/Page14  
 $xr + xr^2$   
 $rx(1+r)$   
 $\frac{32}{7} \times \sqrt{140}$   
 $12 \times 5 = 60$   
 $2(110) = 220$   
 $15 \times 9$   
 10  
 13

129. The distance between the centres of two circles of radii 6 cm and 3 cm is 15 cm. The length of the transverse common tangent to the circles is:

**A**

6 से.मी. और 3 से.मी. त्रिज्या वाले दो वृत्तों के केंद्रों के बीच की दूरी 15 से.मी. है। वृत्तों की अंतर्गत स्थित एक स्पर्श रेखा की लंबाई ज्ञात कीजिए।

- (A)  $6\sqrt{6}$  cm/से.मी.  
(B)  $7\sqrt{6}$  cm/से.मी.  
(C) 18 cm/से.मी.  
(D) 12 cm/से.मी.



130. The sum of money, which when given on compound interest at 18% per annum would fetch ₹ 960 more when the interest is payable half yearly than when it was payable annually for 2 years is:

**C**

बंदी धन राशि जब 18% प्रति वर्ष की चक्रवृद्धि असाह दर पर दो वर्ष के समान अवधि देव होने पर ₹ 960 अधिक मिलेगी, तो वार्षिक व्याज देव होने पर 2 वर्ष में कितने रुपये मिलेंगे?

- (A) ₹ 30,000 (B) ₹ 40,000  
(C) ₹ 50,000 (D) ₹ 60,000



131. ABCD is a cyclic trapezium whose sides AD and BC are parallel to each other; if  $\angle ABC = 75^\circ$ , then the measure of  $\angle BCD$  is:

**D**

ABCD एक चक्रीय समतल्य है जिसकी भुजाएँ AD और BC एक दूसरे के समांतर हैं; यदि  $\angle ABC = 75^\circ$  है, तो  $\angle BCD$  का माप क्या होगा?

- (A)  $95^\circ$  (B)  $45^\circ$  (C)  $105^\circ$  (D)  $75^\circ$

132. The sum of two numbers is 75 and their difference is 25. The product of the two numbers is:

**A**

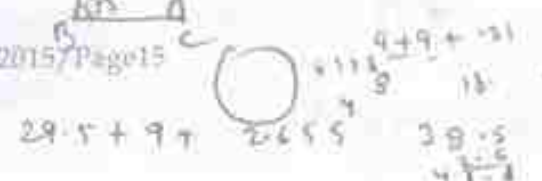
दो संख्याओं का योग 75 है और उनका अंतर 25 है, तो दो संख्याओं का गुणनफल क्या होगा?

- (A) 1250 (B) 125 (C) 1000 (D) 1350



SPACE FOR ROUGH WORK / रफ़ कार्य के लिये जगह

AC-2015/ Page 15




133. The amount on ₹ 25,000 in 2 years at annually compounded interest, if the rates for the successive years be 4% and 5% per annum respectively is:

**B**

₹ 25,000 पर वार्षिक चक्रवृद्धि व्याज पर 2 वर्ष में राशि, यदि क्रमिक वर्षों के लिए दर क्रमशः 4% और 5% वार्षिक हो, तो कितने रुपये हो जाएंगे?

- (A) ₹ 26,800 (B) ₹ 27,300  
(C) ₹ 28,500 (D) ₹ 30,000



134. A, B and C can complete a work in 10, 12 and 15 days respectively. A left the work 5 days before the work was completed and B left 2 days after A had left. Number of days required to complete the whole work was:

**D**

A, B और C किसी काम को क्रमशः 10, 12 और 15 दिन में पूरा कर सकते हैं। A ने काम पूरा होने से 5 दिन पहले काम छोड़ दिया और B ने A के काम छोड़ने के 2 दिन बाद काम छोड़ दिया। समस्त काम पूरा करने के लिए कितने दिनों की आवश्यकता होगी?

- (A)  $6\frac{2}{3}$  (B) 7 (C) 6 (D)  $8\frac{1}{3}$



135. 20 litres of a mixture contains milk and water in the ratio 3:1. Then the amount of milk to be added to the mixture so as to have milk and water in the ratio 4:1 is:

**B**

20 लिटर मिश्रण में दूध और पानी 3:1 के अनुपात में है। इस मिश्रण में दूध को मात्र कितने लिटरों में दूध और पानी का अनुपात 4:1 हो जाए?

- (A) 4 litres/लिटर (B) 5 litres/लिटर  
(C) 6 litres/लिटर (D) 7 litres/लिटर

136. Out of 10 teachers of a school, one teacher retires and in place of him a new teacher 25 years old joins. As a result of it average age of the teachers reduces by 3 years. Age of the retired teacher (in years) is:

**D**

एक स्कूल के 10 शिक्षकों में से एक शिक्षक सेवानिवृत्त हो जाता है और उसके स्थान पर एक नया 25 वर्षीय शिक्षक सेवा प्रारंभ कर लेता है। परिणामस्वरूप शिक्षकों की औसत आयु 3 वर्ष कम हो जाती है। सेवानिवृत्त शिक्षक की आयु कितनी (वर्षों में) है?

- (A) 60 (B) 65 (C) 50 (D) 55

14



137. State electricity board gives 15% discount on electric bills if it is paid before due date. One person gets ₹34 discount. The amount of actual bill was:

B

बिजली बिल का भुगतान यदि निरुद्ध तारीख से पहले किया जाए तो रकम बिजली बोर्ड 15% की छूट देता है। यदि एक व्यक्ति को ₹34 की छूट मिलती है, तो वास्तविक बिल का कितना कितना होगा?

- (A) ₹339 (B) ₹361  
(C) ₹361 (D) ₹362

$$15 = \frac{15x}{100} \Rightarrow 1500 = 15x \Rightarrow x = 100$$

138. If  $x - \frac{1}{x} = 2$ , then the value of  $x^3 - \frac{1}{x^3}$  is:

B

यदि  $x - \frac{1}{x} = 2$  है, तो  $x^3 - \frac{1}{x^3}$  का मान क्या होगा?

- (A) 2 (B) 14 (C) 11 (D) 15

$$x - \frac{1}{x} = 2 \Rightarrow x^2 - 1 = 2x \Rightarrow x^2 - 2x - 1 = 0$$

139. The marked price is 10% higher than the cost price. A discount of 10% is given on the marked price. In this kind of sale, the seller:

C

- (A) bears no loss, no gain (B) gains 1%  
(C) loses 1% (D) gains 2%

अंकित मूल्य लागत मूल्य से 10% अधिक है। अंकित मूल्य पर 10% की छूट दी जाती है। इस प्रकार की बिक्री में विक्रेता को क्या होगा?

- (A) न कोई हानि, न कोई लाभ (B) 1% लाभ  
(C) 1% हानि (D) 2% लाभ

$$\frac{100 \times 110}{100} = 110$$

$$\frac{110 \times 90}{100} = 99$$

140. The angle of depression of a point situated at a distance of 50 m from the base of a tower is 60°. The height of the tower is:

A

दूर के आधार से 50 मी. दूरी पर स्थित बिंदु का अवनति कोण 60° है। टावर की ऊँचाई कितनी है?

- (A)  $70\sqrt{3}$  मी.  
(B)  $\frac{70\sqrt{3}}{3}$  मी.  
(C) 70 मी.  
(D)  $35\sqrt{3}$  मी.

$$70$$

$$\frac{12}{24} \times 12 = \frac{1}{2} \times 12 = 6$$

$$\left(\frac{5}{2}\right) \times \frac{1}{2} = \frac{5}{4}$$

$$\frac{4}{12} \times 12 = \frac{1}{3} \times 12 = 4$$

141. X can do a piece of work in 24 days. When he had worked for 4 days, Y joined him. If complete work was finished in 16 days, Y can alone finish that work in:

B

X किसी काम को 24 दिन में पूरा कर सकता है। जब उसने 4 दिन काम कर लिया तब Y भी उसके साथ शामिल हो गया। यदि सारा काम 16 दिन में पूरा हो गया, तो Y अकेले उस काम को कितने दिन में पूरा कर सकता है?

- (A) 25 days/दिन (B) 30 days/दिन  
(C) 42 days/दिन (D) 18 days/दिन

$$\frac{5}{2} \times \frac{1}{2} = \frac{5}{4} = 1 \frac{1}{4}$$

Directions: Study the Pie chart carefully and answer the questions 142-145.

निर्देश: पाई-चार्ट का ध्यानपूर्वक अध्ययन कीजिए और प्रश्न 142-145 का उत्तर दीजिए।



142. Number of students who are members of both the clubs is:

C

दोनों क्लबों की संख्या बताएँ जो दोनों क्लबों के सदस्य हैं:

- (A) 650 (B) 550 (C) 600 (D) 500

143. Percentage of students who are not members of any club is:

D

कोई क्लब का सदस्य न बनने वाले छात्रों का प्रतिशत बताएँ जो किसी क्लब के सदस्य नहीं हैं।

- (A) 8% (B) 10% (C) 6% (D) 5%

SPACE FOR ROUGH WORK / रफ कार्य के लिए जगह

$$\frac{1}{2} \times \frac{12}{31} + \frac{4}{12} = \frac{5}{6} \Rightarrow \frac{10-6}{12} = \frac{4}{12} \Rightarrow 7 = 4$$

$$\frac{4}{24} \left(\frac{1}{6}\right)$$

$$\frac{5}{2} = \frac{4 \times 25}{2}$$

15

144. Number of students who are members of cricket club only

**A**

एक क्लब में जो केवल क्रिकेट क्लब के सदस्य हैं:

- (A) 40 (B) 42 (C) 41 (D) 35

145. Ratio of members of cricket club only and football club only is


**D**

केवल क्रिकेट क्लब और केवल फुटबॉल क्लब के सदस्यों का अनुपात क्या है:

- (A) 2:1 (B) 1:2 (C) 3:1 (D) 1:3

Directions : Study the bar chart and answer question numbers 146-150.

निर्देश : बार चार्ट का अध्ययन करिए और प्रश्न सं. 146-150 का उत्तर दीजिए।



146. In 2001, the approximate percentage of profit/loss of all the five companies taken together is equal to

**A**

2001 में पांच कंपनियों को मिलाकर लगभग कितने प्रतिशत लाभ/हानि हुई?

- (A) 4.65% profit/लाभ  
 (B) 6.48% profit/लाभ  
 (C) 4% loss/हानि  
 (D) 6.88% loss/हानि

Handwritten calculation:  

$$\frac{-10 + 10 - 5 + 10 + 5}{45 + 40 + 45 + 30 + 45} \times 100 = 4.65\%$$

147. The companies M and N together had a percentage of profit/loss of:

**D**

- (A) 12% loss  
 (B) 10% loss  
 (C) 10% profit  
 (D) No loss and no profit

M और N कंपनियों को मिलाकर कितने प्रतिशत लाभ/हानि हुई?

- (A) 12% हानि  
 (B) 10% हानि  
 (C) 10% लाभ  
 (D) न कोई हानि और न कोई लाभ

148. The company earning the maximum percentage of profit in the year 2001 is

**D**

वर्ष 2001 में अधिकतम प्रतिशत लाभ कमाने वाली कंपनी कौन-सी है?

- (A) M (B) N (C) P (D) Q

149. For company R, if the expenditure had increased by 20% in the year 2001 from the year 2000 and the company had earned profit of 10% in 2000, the company's income in 2000 was (in crore ₹):

**C**

कंपनी R के व्यय में वर्ष 2001 में वर्ष 2000 की तुलना में 20% वृद्धि हुई और कंपनी को वर्ष 2000 में 10% का लाभ हुआ था तो कंपनी को वर्ष 2000 में कितनी आय (करोड़ ₹ में) हुई थी?

- (A) 35.75 (B) 37.25  
 (C) 38.5 (D) 41.67

150. If the income of company Q in 2001 was 10% more than 2000 and the company had earned a profit of 20% in 2000, then its expenditure in 2000 (in crores ₹) was:

**C**

यदि कंपनी Q की आय 2001 में 2000 की तुलना में 10% अधिक हुई और कंपनी को 2000 में 20% का लाभ हुआ था तो 2000 में व्यय कितना (करोड़ ₹ में) हुआ था?

- (A) 28.28 (B) 29.09  
 (C) 32.32 (D) 34.34

SPACE FOR ROUGH WORK / रफ कार्य के लिये जगह

Handwritten calculation:  

$$\frac{10}{43} \times 100 = 23.25\%$$

Handwritten calculation:  

$$120 - \frac{6 \times 10}{100} = 114$$

16

PART - IV / भाग - IV

GENERAL AWARENESS / सामान्य जानकारी

151. Who invented the battery ?

- A** (A) Volta (B) Faraday  
(C) Maxwell (D) Roentgen  
बैटरी का आविष्कार किसने किया ?  
(A) वोल्ट (B) फैराडे  
(C) मैक्सवेल (D) रोएंटजन

152. The deficiency of vitamin A causes ?

- D** (A) beri-beri (B) rickets  
(C) pellagra (D) night blindness  
विटामिन A की कमी से कौन-सा रोग फैलता है ?  
(A) बेरी-बेरी (B) रिकेट्स  
(C) पेल्लाग्रा (D) राईट्स

153. People with Down's syndrome invariably affected by :

- C** (A) Alzheimer's disease  
(B) Meningitis  
(C) Brain haemorrhage  
(D) Huntington's disease  
डाउन सिन्ड्रोम वाले व्यक्ति अवश्याय रूप से किससे ग्रस्त हो जाते हैं ?  
(A) अल्जाइमर रोग  
(B) मनिंगीटाइटिस  
(C) मस्तिष्कच्छाद  
(D) हंटिंग्टन रोग

154. The development process under Capitalism has been described as "Creative Destruction" by :

- D** (A) Karl Marx (B) Hansen  
(C) J.S. Mill (D) Schumpeter  
पूंजीवाद के अर्थव्यवस्था विकास को "सर्जनक विनाश" के रूप में किसने वर्णित किया है ?  
(A) कार्ल मार्क्स (B) हान्सन  
(C) जे. एस. मिल (D) शुम्पेटर

155. Which bank is limited to the needs of agriculture and rural finance ?

- C** (A) SBI (B) IFC  
(C) NABARD (D) RBI  
कौन-सा बैंक कृषि एवं ग्रामीण वित्त की आवश्यकताओं तक सीमित है ?  
(A) भारतीय स्टेट बैंक (B) आई एफ सी  
(C) नाबार्ड (D) भारतीय रिजर्व बैंक

156. 'Madhubani', a style of folk paintings is popular in which of the following states in India ?

- D** (A) Madhya Pradesh (B) Uttar Pradesh  
(C) West Bengal (D) Bihar  
लोक चित्रकारी को 'मधुबनी' शैली भारत में निम्नलिखित में से किस राज्य में प्रचलित है ?  
(A) मध्य प्रदेश (B) उत्तर प्रदेश  
(C) पश्चिम बंगाल (D) बिहार

157. Indian Economy is a :

- A** (A) Mixed Economy  
(B) Capitalist Economy  
(C) Communist Economy  
(D) Independent Economy  
भारतीय अर्थव्यवस्था कैसी है ?  
(A) मिश्रित अर्थव्यवस्था  
(B) पूंजीवादी अर्थव्यवस्था  
(C) मार्क्सवादी अर्थव्यवस्था  
(D) स्वतंत्र अर्थव्यवस्था

158. To conserve coral reefs the Govt. of India declared one of the following as Marine Park :

- B** (A) Gulf of Kutch  
(B) Lakshadweep Islands  
(C) Gulf of Mannar  
(D) Andaman Islands  
मूनी की चट्टानों के संरक्षण के लिए भारत सरकार ने निम्नलिखित में से कौन सा समुद्री पार्क घोषित किया ?  
(A) कच्छ की खाड़ी  
(B) लक्षद्वीप द्वीपसमूह  
(C) मन्नार की खाड़ी  
(D) अंडमन द्वीपसमूह

159. The phenomenon which causes mirage is :

- C** (A) Diffraction  
(B) Polarisation  
(C) Total internal reflection  
(D) Interference  
मृग मंचिका बनाने वाली प्रकृति को क्या कहते हैं ?  
(A) विवर्तन  
(B) ध्रुवीकरण  
(C) पूर्ण आन्तरिक परावर्तन  
(D) व्यतिकरण



160. Which amendment of the constitution lowered the voting age from 21 years to 18 years?  
**B** (A) 60<sup>th</sup> Amendment (B) 61<sup>st</sup> Amendment  
 (C) 63<sup>rd</sup> Amendment (D) 64<sup>th</sup> Amendment

संसोधन के किस संशोधन द्वारा मतदाता की आयु 21 वर्ष से घटकर 18 वर्ष की गई?

- (A) 60<sup>वें</sup> संशोधन (B) 61<sup>वें</sup> संशोधन  
 (C) 63<sup>वें</sup> संशोधन (D) 64<sup>वें</sup> संशोधन

161. Project Tiger was introduced in:  
**A** टाइगर परियोजना किस वर्ष शुरू की गई?  
 (A) 1973 (B) 1984 (C) 1995 (D) 2001

162. The fastest, costlier and relatively small form of storage managed by computer system hardware is:

- A** (A) Flash Memory (B) Main memory  
 (C) Cache (D) Disk

कम्प्यूटर सिस्टम हार्डवेयर द्वारा व्यवस्थित द्रव्य, सस्ता और अपेक्षाकृत छोटा संग्रह रूप क्या है?

- (A) फ्लैश मेमोरी (B) मेन मेमोरी  
 (C) कैश (D) डिस्क

163. In India, Dugong (sea cow) is found in the bioserve site of:

- D** (A) Nokrek (B) Manas  
 (C) Sundarban (D) Estuary of Manas

भारत में समुद्री गाय किसके बायोस्फियर रिजर्व में पाई जाती है?

- (A) नोक्रेक (B) मानस  
 (C) सुंदरबन (D) मनास की मुहाना

164. Ezra Cup is associated with which sports?

- A** (A) Fudo (B) Hockey  
 (C) Football (D) Rowing

एज़रा कप का संबंध किस खेल से है?

- (A) फुटबॉल (B) हॉकी  
 (C) फुटबॉल (D) नौकाचालन

165. Which of the following monuments is the oldest?

- B** (A) Khajuraho (B) Ajanta Caves  
 (C) Taj Mahal (D) Qutab Minar

निम्नलिखित में से कौन-सा स्मारक सबसे पुराना है?

- (A) खजुराहो (B) अजंता गुफाएं  
 (C) ताज महल (D) कुतुब मिनार

166. Who advocated Nazism in Germany?

- A** (A) Adolf Hitler (B) Bismark  
 (C) Wilhelm III (D) Fredrick William IV

जर्मनी में नाज़ीवाद को प्रस्तावित करने को कौन?

- (A) एडोल्फ हिटलर (B) बिस्मार्क  
 (C) विल्हेम III (D) फ्रेडरिक विल्हेम IV

167. Richter Scale is used for measuring:

- B** (A) Density of liquid  
 (B) Intensity of earthquake  
 (C) Humidity of air  
 (D) Velocity of wind

रिक्टर स्केल का प्रयोग किसके मापने के लिए किया जाता है?

- (A) द्रव के घनत्व  
 (B) भूकंप की तीव्रता  
 (C) वायु की आर्द्रता  
 (D) वायु का वेग

168. Where do Bhagirathi and Alaknanda join Ganga?

- B** (A) Karanprayag (B) Devprayag  
 (C) Rudra prayag (D) Gangotri

भागीरथी और अलकनन्दा गंगा में कहाँ पर मिलती हैं?

- (A) कर्ण प्रयाग (B) देव प्रयाग  
 (C) रुद्र प्रयाग (D) गंगोत्री

169. The abbreviation LHC stands for which machine?

- A** (A) Large Hadron Collider  
 (B) Long Heavy Collider  
 (C) Large High Collider  
 (D) Light Heat Collider

LHC किस मशीन के लिए प्रसिद्ध संक्षिप्त रूप है?

- (A) लार्ज हैड्रॉन कॉलिडर  
 (B) लॉन्ग हेवी कॉलिडर  
 (C) लार्ज हाई कॉलिडर  
 (D) लाइट हीट कॉलिडर

170. The disease which has been eradicated is:

- B** (A) Measles (B) Small pox  
 (C) Chicken pox (D) Mumps

किस रोग का पुरो तरह उन्मुलन कर दिया गया है?

- (A) खसरा (B) चेचक  
 (C) चिकेनी (D) मumps

171. The slogan 'Garbi Hitar' was included in the:

- B** (A) First plan (B) Fifth plan  
(C) Fourth plan (D) Second plan

“गरीबी हटायो” नारा कौन-सा योजना में शामिल किया गया था?

- (A) प्रथम योजना (B) पंचम योजना  
(C) चौथी योजना (D) दूसरी योजना

172. All vital atmospheric processes leading to various climatic and weather conditions take place in the:

- A** (A) Troposphere (B) Mesosphere  
(C) Exosphere (D) Stratosphere

विभिन्न जलवायु एवं मौसम दशाओं को बदलने वाली सभी महत्वपूर्ण वायुमंडलीय प्रक्रियाएँ कहाँ घटित होती हैं?

- (A) त्रैपोस्फीयर (B) मेसोस्फीयर  
(C) एक्सोस्फीयर (D) स्ट्रैटोस्फीयर

173. Who was the first Vijayanagar ruler to arrest the important fort of Goa from the Bahamani?

- A** (A) Harihar I (B) Harihar II  
(C) Bukka I (D) Revu Raya II

गोवा के महत्वपूर्ण किले को बहमनीयों से छीनने वाला प्रथम विजयनगर सम्राट कौन था?

- (A) हरिहर I (B) हरिहर II  
(C) बुक्का I (D) रेवु राय II

174. How many offices are there in U.N.O.?

- D** (A) 03 (B) 04 (C) 05 (D) 06

175. Which of the following is commonly used in preparing custard powder?

- B** (A) wheat (B) maize  
(C) rice (D) sugi

कस्टर्ड पाउडर तैयार करने में निम्नलिखित में से किसका सामान्यतया प्रयोग किया जाता है?

- (A) मक्का (B) मक्का  
(C) चावल (D) जमी

176. Soap helps in better clearing of clothes because:

- A** (A) It reduces the surface tension of solution.  
(B) It gives strength to solution.  
(C) It absorbs the dirt.  
(D) Soap acts like catalyst

साबुन कपड़ों को बेहतर ढंग से धोने में क्यों सहायक होता है?

- (A) यह घोल के सतहीय तनाव को कम करता है  
(B) यह घोल को मजबूत देता है  
(C) यह कपड़ों को अवशोषित कर लेता है  
(D) साबुन उत्प्रेरक की तरह काम करता है

177. What is the name of Research Station established by Indian Govt. for conducting research at Antarctic?

- A** (A) Dakshin Gangotri  
(B) Yamunotri  
(C) Uttari Gangotri  
(D) None of the above

अंटार्कटिक में अनुसंधान करने के लिए भारत सरकार द्वारा स्थापित अनुसंधान केंद्र का नाम क्या है?

- (A) दक्षिण गंगोत्री  
(B) यमुनोत्री  
(C) उत्तरी गंगोत्री  
(D) उपरोक्त में से कोई नहीं

178. Life originated by chemosynthesis was proved in the laboratory by:

- C** (A) Pasteur (B) Miller  
(C) Stanley (D) Sanger

जीवन को रसायनिक संश्लेषण से उत्पन्न करने प्रयोगशाला में किसने द्वारा सिद्ध किया गया था?

- (A) पास्चर (B) मिलर  
(C) स्टैली (D) सेंगर

179. Which of the following is one of the characteristics of civil services in India?

- A** (A) Neutrality and Impartiality  
(B) Partisan  
(C) Temporary Political Executive nexus  
(D) All the above

निम्नलिखित में से कौन भारत में सिविल सेवाओं की एक विशेषता है?

- (A) वदयनता एवं निष्पक्षता  
(B) पक्षपात  
(C) अस्थायी राजनीतिक श्वाभंशकारी संबंध  
(D) उपरोक्त सभी

180. J. B. Say's Law of Market was not accepted by:

- B** ~~(A) Marshall~~ (B) Malthus  
(C) David Ricardo (D) Adam Smith  
जे. बी. से का बाजार नियम किसे स्वीकार्य नहीं था ?  
(A) मार्शल (B) माल्थस  
(C) डेविड रिकार्डो (D) एडम स्मिथ

181. World Human Rights Day is observed on:

- C** (A) April 8 (B) September 5  
~~(C) December 10~~ (D) December 7  
विश्व मानवाधिकार दिवस कब मनाया जाता है ?  
(A) 8 अप्रैल (B) 5 सितंबर  
(C) 10 दिसंबर (D) 7 दिसंबर

182. January 15 is celebrated as:

- A** ~~(A) Army Day~~ (B) Republic Day  
(C) Makar Sankranti (D) Labour Day  
15 जनवरी को किस रूप में मनाया जाता है ?  
(A) सेना दिवस (B) गणतंत्र दिवस  
(C) मकर संक्रान्ति (D) श्रम दिवस

183. Who was Akbar's guardian?

- C** (A) Abul Fazzal (B) Tansen  
~~(C) Bairam Khan~~ (D) Amir Khusrau  
अकबर का अभिरक्षक कौन था ?  
(A) अबुल फजल (B) तानसेन  
(C) बैराम खान (D) अमीर खुसरो

184. Which is the best planned city in India?

- A** ~~(A) Chandigarh~~ (B) Coimbatore  
(C) New Delhi (D) Salem  
भारत में सबसे योजनाबद्ध बना शहर कौन-सा है ?  
(A) चंडीगढ़ (B) कोयंबटूर  
(C) नई दिल्ली (D) सेलम

185. Hari Prasad Chaurasia is a renowned player of:

- C** ~~(A) Tabla~~ (B) Sitar  
(C) Flute (D) Shehnai  
हरिप्रसाद चौरसिया किस वाद्य के बजाने के लिए विख्यात है ?  
(A) तबला (B) सितार  
(C) बांसुरी (D) शहनाई

186. The Name of the Laccadive, Minicoy and Amindivi Islands was changed to Lakshadweep by an act of parliament in:

- D** ~~(A) 1970~~ (B) 1971 (C) 1972 (D) 1973  
लक्षद्वीप, मिनिक्वोय, अमिन्दीवी द्वीप का नाम बदलकर लक्षद्वीप किस वर्ष में संसदीय अधिनियम द्वारा किया गया था ?  
(A) 1970 (B) 1971 (C) 1972 (D) 1973

187. Normal blood pressure reading of an adult human:

- A** एक किशोरवय मनुष्य में सामान्य रक्तचाप कितना होता है ?  
~~(A) 120/80 mm Hg~~ (B) 130/90 mm Hg  
(C) 160/95 mm Hg (D) 80/120 mm Hg

188. The capital of Rwanda is:

- B** ~~(A) Bogaota~~ (B) Kigali  
(C) Copenhagen (D) Libreville  
रुआंडा का राजधानी क्या है ?  
(A) बोगोटा (B) किगाली  
(C) कोपेनहेगन (D) लिब्रेविले

189. Who is the author of the book "Magic Seeds"?

- A** ~~(A) V.S. Naipaul~~ (B) Jhumpa Lahiri  
(C) Vikram Seth (D) Cyrus Mistry  
"मैजिक सीड्स" पुस्तक के लेखक कौन हैं ?  
(A) वी.एस. नायपाल (B) ज़ुम्पा लाहिरी  
(C) विक्रम सेठ (D) सौरभ मिश्रा

190. Damping off of seedlings is caused by:

- B** (A) *Albugo candida*  
(B) *Phytophthora infestans*  
(C) *Pythium aetereum*  
(D) *Pectonecypora parasitica*  
बीज का अर्द्ध पवन रोग किसके कारण होता है ?  
(A) एल्बुगो कैन्डिडा  
(B) फिथोफ्थोरा इन्फेस्टान्स  
(C) प्यथियम ऐटैरियम  
(D) पेक्टोनेक्योपरा पैरासिटिका

191. USB is \_\_\_\_\_ type of storage device.

- B** (A) Primary ~~(B) Secondary~~  
(C) Tertiary (D) Auxillary  
USB संग्रह युक्ति का कौन-सा प्रकार है ?  
(A) प्राथमिक (B) द्वितीयक  
(C) तृतीयक (D) सहायक



192. Atoms having the same number of protons but different number of neutrons are called.

**D**

- (A) Cations (B) Higgs-boson  
(C) Anions (D) Isotopes

प्रोटॉन की समान संख्या किंतु न्यूट्रॉन की भिन्न-भिन्न संख्या वाले परमाणुओं को क्या कहते हैं ?

- (A) धनात्मक (B) हिग्स बोसॉन  
(C) ऋणात्मक (D) समस्थानिक

193. Excretion in Hermichordates takes place by:

- (A) Protonephridia (B) Mesonephridia  
(C) Metanephridia (D) Glomerulus

हेर्मिचोर्डेट में उत्सर्जन किसके द्वारा होता है ?

- (A) प्रोटोनेफ्रिडिया (B) मेसोनेफ्रिडिया  
(C) मेटानेफ्रिडिया (D) ग्लोमेरुलस

194. When was the railway system established in India ?

**B**

भारत में रेलवे सिस्टम कब स्थापित किया गया था ?

- (A) 1753 (B) 1853 (C) 1953 (D) 1969

195. The National Emblem of Italy is:

**B**

- (A) White Eagle (B) White Lily  
(C) Lily (D) Eagle

इटली का राष्ट्रीय चिह्न क्या है ?

- (A) सफेद गज (B) सफेद लिली  
(C) लिली (D) गरुड़

196. The 1<sup>st</sup> Battle of Panipat was fought in the year:

**B**

पानीपत की पहली लड़ाई किस वर्ष लड़ी गई थी ?

- (A) 1516 (B) 1526 (C) 1536 (D) 1761

197. To become a Judge of the High Court one must be a practicing advocate of the High Court for at least:

**B**

- (A) 5 years (B) 10 years  
(C) 15 years (D) 20 years

उच्च न्यायालय का न्यायाधीश बनने के लिए कम से कम कितने वर्ष की उच्च न्यायालय के अधिवक्ता के रूप में न्यायालय का अनुभव होना चाहिए ?

- (A) 5 वर्ष (B) 10 वर्ष  
(C) 15 वर्ष (D) 20 वर्ष

198. The use of heat treatment of ore that includes melting and roasting is termed as:

**B**

- (A) Hydrometallurgy (B) Pyrometallurgy  
(C) Cryometallurgy (D) Electrometallurgy

अम्ल के साथ उपजाव के प्रयोग को जिसमें गलना और प्रकलन शामिल है, क्या कहते हैं ?

- (A) हाइड्रोमेटलर्जी (B) प्यरोमेटलर्जी  
(C) क्रायोमेटलर्जी (D) इलेक्ट्रोमेटलर्जी

199. Which of these travels in glass with minimum velocity ?

**B**

- (A) violet light (B) green light  
(C) yellow light (D) red light

निम्नलिखित में से कौन न्यूनतम वेग से कांच में संचरण करता है ?

- (A) बैंगनी प्रकाश (B) हरी प्रकाश  
(C) पीले प्रकाश (D) लाल प्रकाश

200. Air is said to be saturated when:

**D**

- (A) its pressure is minimum  
(B) its thickness is maximum  
(C) it blows over the terrain level  
(D) it contains maximum content of water vapour

वायु को संतृप्त कहा जाता है ?

- (A) जब दाब न्यूनतम हो  
(B) जब मोटाई अधिकतम हो  
(C) जब वह बंगल भूमि पर चलती हो  
(D) जब इसमें नल वाष्प का अंश अधिकतम हो

-000-