



# We Shine Academy™

guiding you to get through

## TNPSC WEEKLY TEST

**QUESTIONS: 100 TEST CODE: 044 DURATIONS: 90 MINS**

1. Who has recently launched a toll-free number “14433” and also a facility to file complaints through Common Service Center (CSC)?
- National Commission for Protection of Child Rights (NCPCR)
  - National Commission for women (NCW)
  - Union Ministry of Women and Child Development
  - National Human Rights Commission (NHRC)**

யார் சமீபத்தில் “14433” என்ற கட்டணமில்லா தொலைபேசி எண்ணையும் பொதுசேவை மையங்கள் மூலமாக புகார்கள் பதிவு செய்யும் வசதிகளையும் அறிமுகப்படுத்தியிருக்கின்றது?

- தேசிய குழந்தைகள் உரிமைகள் பாதுகாப்பு ஆணையம்
- தேசிய பெண்கள் ஆணையம்
- மத்திய பெண்கள் மற்றும் குழந்தைகள் மேம்பாட்டுத்துறை அமைச்சகம்
- தேசிய மனித உரிமைகள் ஆணையம்**

2. According to Delhi court ruling, under which section of IPC can the transgenders file sexual harassment case?

- Section - 352 A
- Section - 357 A
- Section - 354 A**
- Section - 356 A

டெல்லி உயர்நீதிமன்ற தீர்ப்பின் படி இந்திய தண்டனைச் சட்டத்தின் எந்த விதியின் கீழ் திருநங்கைகள் பாலியல் துன்புறுத்தல் வழக்கைப் பதிவு செய்திட முடியும்?

- பிரிவு 352 A
- பிரிவு 357 A
- பிரிவு 354 A**
- பிரிவு 356 A

3. Which organization launched a new platform named “Samwad with Students” as part of its outreach programme?

- Council of Science and Industrial Research (CSIR)
- Indian Space Research Organization (ISRO)**
- Indian Institute of Science (IISc)

The Best Coaching Institute For TNPSC, Bank, SSC, Police Exam, TET Exam, Railways Exams

☎ 8939 144 344

1

🌐 [www.weshineacademy.com](http://www.weshineacademy.com)

d) Indian National Science Academy (INSC)

எந்த நிறுவனம் தனது வெளிநோக்குத் திட்டத்தின் ஒரு பகுதியாக மாணவர்களுடனான உரையாடல் என்று பெயரிடப்பட்ட ஒரு புதிய நடைமுறையை வெளியிட்டு இருக்கின்றது?

- a) அறிவியல் மற்றும் தொழினுறை ஆராய்ச்சி மையம்  
b) இந்திய விண்வெளி ஆராய்ச்சி மையம்  
c) இந்திய அறிவியல் நிறுவனம்  
d) இந்திய தேசிய அறிவியல் நிறுவனம்

4. Which Indian startup was honoured with 'Nations Climate Action award' by UN for its works to clean River Ganga?

- a) Help Us Clean b) Green basket c) Help Us Green d) Save Ganga

கங்கை நதியைத் தூய்மைப்படுத்துவதற்கான தமது பணிக்காக ஐ.நா. சபையால் எந்த இந்தியத் தொடக்க நிறுவனத்திற்கு தேசிய பருவநிலை நடவடிக்கை விருது அளிக்கப்பட்டது?

- a) Help Us Clean b) Green basket c) Help Us Green d) Save Ganga

5. Where is country's first Space science technology gallery lab cum training centre located in India?

- a) Gujarat b) Delhi  
c) Arunachal Pradesh d) Tamilnadu

இந்தியாவின் முதலாவது விண்வெளி அறிவியல் தொழில்நுட்ப காட்சிக்கூட ஆய்வகம் மற்றும் பயிற்சி நிலையம் எங்கு அமைக்கப்பட்டிருக்கின்றது?

- a) குஜராத் b) டெல்லி  
c) அருணாச்சலப் பிரதேசம் d) தமிழ்நாடு

6. The international Human Solidarity Day is celebrated on

- a) December 21 b) December 22 c) December 23 d) December 20

சர்வதேச மனித ஒற்றுமை தினம் எப்போது அனுசரிக்கப்படுகிறது?

- a) டிசம்பர் 21 b) டிசம்பர் 22 c) டிசம்பர் 23 d) டிசம்பர் 20

7. Who launched the India's first privately built satellite ExceedSAT 1?

- a) ISRO, India b) NASA, USA  
c) SpaceX, USA d) Roscosmos, Russia

தனியாரால் தயாரிக்கப்பட்ட இந்தியாவின் முதலாவது செயற்கைக் கோளான எக்ஸீட்சாட் 1-ஐ எந்த நிறுவனம் விண்ணில் செலுத்தியது?

- a) இஸ்ரோ, இந்தியா b) நாசா, அமெரிக்கா  
c) ஸ்பேஸ்எக்ஸ், அமெரிக்கா d) ரோஸ்கோஸ்மோஸ், இரஷ்யா

8. When is the International Anti-Corruption Day adopted?

- a) December 14 b) December 09 c) December 01 d) December 25

சர்வதேச ஊழல் எதிர்ப்பு தினம் எப்போது ஏற்றுக் கொள்ளப்பட்டது?

- a) டிசம்பர் 14 b) டிசம்பர் 09 c) டிசம்பர் 01 d) டிசம்பர் 25

The Best Coaching Institute For TNPSC, Bank, SSC, Police Exam, TET Exam, Railways Exams

9. Which of the following days has been observed on 26 November?  
 A. Constitution Day  
 B. International Day for Elimination of violence against Women  
 C. National Milk Day  
 D. The World COPD (Chronic Obstructive Pulmonary Disease) Day  
**a) A and C only**      b) B and D only      c) A, C and D only      d) B, C and D only  
 பின்வரும் எந்தெந்த தினங்கள் நவம்பர் 26 அன்று அனுசரிக்கப்படுகின்றன?  
 A. அரசியலமைப்பு தினம்  
 B. சர்வதேச பெண்களுக்கான வன்முறை ஒழிப்பு தினம்  
 C. தேசிய பால் தினம்  
 D. உலக COPD தினம் (நுரையீரல் அடைப்பு நோய் தினம்)  
**a) A மற்றும் C மட்டும்**      b) B மற்றும் D மட்டும்  
 c) A, C மற்றும் D மட்டும்      d) B, C மற்றும் D மட்டும்
10. Which state government has recently withdrawn the 'general consent' accorded to the CBI to conduct its operations in their states?  
 A. Madhya Pradesh      B. Andhra Pradesh  
 C. West Bengal      D. Karnataka  
**a) A and C only**      **b) B and C only**      c) A, C and D only      d) A, B, C and D  
 பின்வரும் எந்த மாநிலங்கள் தங்களது மாநிலங்களில் சிபிஐ-யானது அதன் நடவடிக்கைகளை நடத்த வழங்கியிருந்த "பொது அனுமதி"-யைப் திரும்பப் பெற்றுள்ளன?  
 A. மத்தியப் பிரதேசம்      B. ஆந்திரப் பிரதேசம்  
 C. மேற்கு வங்காளம்      D. கர்நாடகம்  
**a) A மற்றும் C மட்டும்**      **b) B மற்றும் C மட்டும்**  
 c) A, C மற்றும் D மட்டும்      d) A, B, C மற்றும் D
11. India has recently signed pact with which country to collaborate on cancer research?  
 a) Germany      b) France      **c) United Kingdom**      d) Japan  
 புற்றுநோய் ஆராய்ச்சியில் ஒன்றிணைந்து செயல்படுவதற்காக சமீபத்தில் இந்தியா பின்வரும் எந்த நாட்டுடன் ஒப்பந்தம் ஒன்றில் கையெழுத்திட்டுள்ளது?  
 a) ஜெர்மனி      b) பிரான்சு  
**c) ஐக்கிய இராஜ்ஜியம்**      d) ஜப்பான்
12. Which Indian journalist has won the 2018 London Press Freedom Award for Courage?  
 a) Gauri Lankesh      b) Gulalai Ismail  
 c) Dhruv Rathee      **d) Swati Chaturvedi**

பின்வரும் எந்த இந்தியப் பத்திரிக்கையாளர் 2018ம் ஆண்டின் துணிவிற்கான இலண்டன் பத்திரிக்கை சுதந்திர விருதை வென்றுள்ளார்?

- a) கவுரி லங்கேஷ்  
b) குலாலாய் இஸ்மாயில்  
c) துருவ் ரதி  
d) சுவாதி சதூர்வேதி

13. Who has been recently appointed as the chairman of the Lokpal Search Committee?

- a) A.Surya Prakash  
b) Arundhati Bhattacharya  
c) **Ranjana Prakash Desai**  
d) S.Kiran Kumar

சமீபத்தில் லோக்பால் தேர்வுக் குழுவின் தலைவராக நியமிக்கப்பட்டுள்ளவர் யார்?

- a) A சூர்ய பிரகாஷ்  
b) அருந்ததி பட்டாச்சாரியா  
c) **ரஞ்சனா பிரகாஷ் தேசாய்**  
d) S. கிரண் குமார்

14. What is the name of the new initiative launched by the Union Government to promote use of Compressed Bio-gas (CBG)?

- a) PMCBG  
b) PMJBY  
c) **SATAT**  
d) SEHAT

அழுத்தப்பட்ட உயிரி வாயுவின் பயன்பாட்டை ஊக்கப்படுத்துவதற்காக மத்திய அரசால் தொடங்கப்பட்ட புதிய முன்முயற்சியின் பெயர் என்ன?

- a) PMCBG  
b) PMJBY  
c) **SATAT**  
d) SEHAT

15. Which country hosted the first-ever General Assembly of International Solar Alliance (ISA)?

- a) France  
b) Sweden  
c) Australia  
d) **India**

சர்வதேச சூரிய ஒளிக் கூட்டிணைவின் முதலாவது பொதுச் சபையை எந்த நாடு நடத்தியது?

- a) பிரான்சு  
b) ஸ்வீடன்  
c) ஆஸ்திரேலியா  
d) **இந்தியா**

16. Which union ministry has recently won the 'Swachhta Hi Seva' award?

- a) Ministry of AYUSH  
b) Ministry of New and Renewable Energy  
c) Ministry of Panchayati Raj  
d) **Ministry of Railways**

சமீபத்தில் எந்த மத்திய அமைச்சகம் "சுவச்தா கி சேவா" விருதை வென்றுள்ளது?

- a) மத்திய ஆயுஷ் அமைச்சகம்  
b) மத்திய புதிய மற்றும் புதுப்பிக்கத்தக்க எரிசக்தித் துறை அமைச்சகம்  
c) மத்திய பஞ்சாயத்து ராஜ் அமைச்சகம்  
d) **மத்திய இரயில்வே அமைச்சகம்**

17. Match the following

- |                                                                   |   |                 |
|-------------------------------------------------------------------|---|-----------------|
| A. International Day of Non-Violence                              | - | 1. September 15 |
| B. International Day for the Total Elimination of Nuclear Weapons | - | 2. September 21 |
| C. International Day of Peace                                     | - | 3. October 02   |

The Best Coaching Institute For TNPSC, Bank, SSC, Police Exam, TET Exam, Railways Exams

D. International Day of Democracy - 4. September 26

	A	B	C	D
a)	3	4	2	1
b)	3	2	4	1
c)	1	3	2	4
d)	4	3	1	2

பொருத்துக

A. சர்வதேச அகிம்சை தினம் - 1) செப்டம்பர் 15

B. அணு ஆயுதங்களை முழுவதுமாக ஒழிப்பதற்கான சர்வதேச தினம் - 2) செப்டம்பர் 21

C. சர்வதேச அமைதி தினம் - 3) அக்டோபர் 02

D. சர்வதேச மக்களாட்சி தினம் - 4) செப்டம்பர் 26

	A	B	C	D
a)	3	4	2	1
b)	3	2	4	1
c)	1	3	2	4
d)	4	3	1	2

18. Which Indian origin personality has been recently named as Chief Economist of the International Monetary Fund (IMF)?

- a) Shand Panesa                      b) Dhivya Suryadevara  
c) **Gita Gopinath**                      d) Guruswamy Jayraman

சமீபத்தில் சர்வதேச நாணய நிதியத்தின் தலைமைப் பொருளாதார வல்லுநராக நியமிக்கப்பட்ட இந்திய வம்சாவளியைச் சேர்ந்த ஆளுமை யார்?

- a) சந்த் பனேசா                      b) திவ்யா சூர்யதேவாரா  
c) **கீதா கோபிநாத்**                      d) குருசாமி ஜெயராம்

19. Recently the Sugarcane Juice has been declared as the National Drink by which of the following country?

- a) Bangladesh                      b) India                      c) **Pakistan**                      d) Nepal

சமீபத்தில் கரும்புச்சாறு எந்த நாட்டின் தேசிய பானமாக அறிவிக்கப்பட்டிருக்கின்றது?

- a) வங்கதேசம்                      b) இந்தியா                      c) **பாகிஸ்தான்**                      d) நேபாளம்

20. Which of the following word has been chosen as Hindi Word of the Year 2018 by the oxford Dictionaries?

- a) Man Ki Bath                      b) **Nari Shakthi**                      c) Mitron                      d) Namaskar

ஆக்ஸ்போர்டு அகராதியால் பின்வரும் எந்த வார்த்தை 2018ம் ஆண்டிற்கான இந்தி வார்த்தையாகத் தேர்வு செய்யப்பட்டிருக்கின்றது?

- a) மன் கி பாத்                      b) **நாரி சக்தி**                      c) மித்ரோன்                      d) நமஸ்கார்



21. The IAFTX exercise is a joint exercise between  
a) India and Japan                                      b) India and Russia  
c) India and South America                              d) **India and Africa**  
IAFTX பயிற்சி என்பது யாருக்கிடையேயான கூட்டுப் பயிற்சியாகும்?  
a) இந்தியா மற்றும் ஜப்பான்                              b) இந்தியா மற்றும் ரஷ்யா  
c) இந்தியா மற்றும் தென் அமெரிக்கா                              d) **இந்தியா மற்றும் ஆப்பிரிக்கா**
22. Kalamsat V2  
A. Was launched using PSLV Rocket  
B. Was ISRO's first private satellite launch  
Pick the **Correct** statement:  
a) A only                              b) B only                              c) **Both A and B**                              d) Neither A Nor B  
கலாம்சாட் V2 என்பது  
A. PSLV ராக்கெட்டைப் பயன்படுத்தி ஏவப்பட்டது.  
B. இஸ்ரோவின் முதல் தனியார் செயற்கைக்கோள் செலுத்துதலாகும்.  
சரியான வாக்கியங்களை தேர்ந்தெடுக்கவும்:  
a) A மட்டும்                              b) B மட்டும்  
c) **A மற்றும் B**                              d) மேற்கூறிய எதுவுமில்லை
23. Pakke Tiger reserve is located at  
a) Tripura                              b) Nagaland  
c) Manipur                              d) **Arunachal Pradesh**  
பக்கே புலிகள் சரணாலயம் எங்கு அமைந்திருக்கின்றது?  
a) திரிபுரா                              b) நாகாலாந்து  
c) மணிப்பூர்                              d) **அருணாச்சலப் பிரதேசம்**
24. The pradhan mantri Khanij Kshetra Kalya Yojana is aimed for the Welfare of  
a) Scheduled Caste                              b) Transgenders  
c) Differently Abled Persons                              d) **Affected labours in Mining Operations**  
பிரதான் மந்திரி கனிச் சேத்திர கல்யாண் யோஜனா திட்டம் யாருடைய நலனை  
மேம்படுத்துகின்றது?  
a) பட்டியலிடப்பட்ட வகுப்பினர்                              b) திருநங்கைகள்  
c) மாற்றுத் திறனாளி நபர்கள்                              d) **சுரங்க நடவடிக்கைகளில் பாதிக்கப்பட்டவர்**
25. Which of the following states celebrated their statehood day on 25 January, 2019?  
A. Himachal Pradesh    B. Manipur    C. Mizoram    D. Tripura  
a) A only                              b) **A and B only**                              c) A, C and D only                              d) A, B and D only

பின்வரும் எந்த மாநிலங்கள் 2019ம் ஆண்டு ஜனவரி 25ம் தேதியன்று தங்கள் மாநில தினத்தைக் கொண்டாடின?

- A. இமாச்சலப் பிரதேசம் B. மணிப்பூர் C. மிசோரம் D. திரிபுரா  
a) A மட்டும் b) A மற்றும் B  
c) A, C மற்றும் D மட்டும் d) A, B மற்றும் D மட்டும்

26. Which state has won the overall Trophy at the Khelo India Youth Games?  
a) Rajasthan b) Maharashtra c) Uttar Pradesh d) Kerala

கேலோ இந்தியா இளைஞர் விளையாட்டுப் போட்டியில் எந்த மாநிலம் ஒட்டுமொத்தமாக கோப்பையை வென்றிருக்கின்றது?

- a) ராஜஸ்தான் b) மகாராஷ்டிரா  
c) உத்திரப் பிரதேசம் d) கேரளா

27. Pick out the awards that are wrongly matched with the recipients?

AWARDS	-	RECIPIENTS
A. Sushila Devi Literature Award 2018	-	Namita Gokhale
B. Gandhi Peace Prize - 2018	-	Vivikananda Kendra
C. Philip Kotler Presidential Award 2018	-	Narendra Modi
D. Rosa Park Trailblazer award	-	Ranjani Murali

a) D only b) B and D only c) A, B and D only d) A, B, C and D

விருது வழங்கப்பட்டவர்களுடன் தவறாகப் பொருந்தியுள்ள விருதுகளைத் தோந்தெடுக்கவும்

விருதுகள்

- |                                            |   |                      |
|--------------------------------------------|---|----------------------|
| A. சுசீலா தேவி இலக்கிய விருது – 2018       | - | விருது பெற்றவர்கள்   |
| B. காந்தி அமைதிப் பரிசு – 2018             | - | நமீதா கோகலே          |
| C. பிலிப் கோட்லர் தலைமைத்துவ விருது – 2018 | - | விவேகானந்தா கேந்திரா |
| D. ரோசா பாரக் வழிகாட்டி விருது             | - | நரேந்திர மோடி        |
- a) D மட்டும் b) B மற்றும் D மட்டும்  
c) A, B மற்றும் D மட்டும் d) A, B, C மற்றும் D

28. Where does the new Naval Air Base 'INS KOHASSA' commissioned?

- a) Gujarat b) Tamil Nadu  
c) Kerala d) Andaman and Nicobar Islands

புதிய கடற்படை விமானமத் தளமான INS KOHASSA எங்கு நிறுவப்பட்டிருக்கின்றது?

- a) குஜராத் b) தமிழ்நாடு  
c) கேரளா d) அந்தமான் மற்றும் நிக்கோபார் தீவுகள்

29. Which of the following day was observed on January 24?

- a) National Girl Child Day b) Indian Army Day  
c) National Youth Day d) Good governance Day

The Best Coaching Institute For TNPSC, Bank, SSC, Police Exam, TET Exam, Railways Exams

ஜனவரி 24-ம் தேதி பின்வரும் எந்த தினம் அனுசரிக்கப்பட்டது?

- a) தேசிய பெண் குழந்தை தினம்      b) இந்திய ராணுவ தினம்  
c) தேசிய இளைஞர் தினம்      d) சிறந்த ஆளுமைக்கான தினம்

30. The book 'Line on Fire: Ceasefire violations and india – Pakistan Escalation Dynamics' has revealed an Indian army's operation. what is the name of the operation?

- a) Operation Viraat      **b) Operation Kabaddi**  
c) Operation Cactus      d) Operation Parakram

'Line on Fire: Ceasefire Violations and India-Pakistan Escalation Dynamics' என்ற புத்தகம் சமீபத்தில் இந்திய ராணுவத்தின் நடவடிக்கை பற்றி தகவல் தெரிவித்திருக்கின்றது. அந்த நடவடிக்கையின் பெயர் என்ன?

- a) விராத் நடவடிக்கை      **b) கபாடி நடவடிக்கை**  
c) காக்க்டஸ் நடவடிக்கை      d) பராக்கிரம் நடவடிக்கை

31. Which Jallikattu event of Tamilnadu has entered the world record for the maximum number of bulls released into the sporting arena?

- a) Alanganallur      b) Avaniapuram      **c) Viralimalai**      d) Palamedu

தமிழ்நாட்டில் எந்த ஜல்லிக்கட்டுப் போட்டி கள மைதானத்தில் அதிக எண்ணிக்கையிலான காளைகளை அவிழ்த்து விட்டமைக்காக உலக சாதனைப் பட்டியலில் இடம் பிடித்திருக்கின்றது?

- a) அலங்காநல்லூர்      b) அவனியாபுரம்      **c) விராலிமலை**      d) பாலமேடு

32. Who authored the book 'We Are Displaced : My Journey and Stories from Refugee Girls Around the World'?

- a) Taslima Nasrin      **b) Malala Yousafzai**      c) Humayun Azad      d) Ahmed Sofa

'We Are Displaced: My journey and Stories from Refugee Girls Around the World' என்ற புத்தகத்தை எழுதியவர் யார்?

- a) தஸ்லிமா நஹீன்      **b) மலாலா யூசாப்சாய்**  
c) ஹீமாயூன் ஆசாத்      d) அகமத் சோபா

33. Before the creation of kallakurichi district, which was the last district formed in Tamilnadu?

- a) Ariyalur      b) Villupuram      **c) Tirupur**      d) Thoothukui

கள்ளக்குறிச்சி மாவட்டம் உருவாக்கப்படுவதற்கு முன்பு தமிழ்நாட்டில் கடைசியாக உருவாக்கப்பட்ட மாவட்டம் எது?

- a) அரியலூர்      b) விழுப்புரம்      **c) திருப்பூர்**      d) தூத்துக்குடி

34. What's India's position in World Bank's Doing Business (DB) rankings in 2019?

2019 ஆம் ஆண்டிற்கான உலக வங்கியின் வியாபார எளிமையாக்கல் தரவரிசைப் பட்டியலில் இந்தியாவின் நிலை என்ன?

- a) 77      b) 66      c) 55      d) 33

The Best Coaching Institute For TNPSC, Bank, SSC, Police Exam, TET Exam, Railways Exams

☎ 8939 144 344

8

🌐 www.weshineacademy.com



35. Pick the **correct** statement

A. Kallakurichi was bifurcated from Attur District

B. Kallakurichi is the 32<sup>nd</sup> district of tamilnadu

a) A only

b) B only

c) A and B

d) None of the above

சரியான வாக்கியத்தைத் தேர்ந்தெடுக்கவும்.

A. கள்ளக்குறிச்சி ஆத்தூர் மாவட்டத்திலிருந்து பிரிக்கப்பட்டது.

B. கள்ளக்குறிச்சி தமிழ்நாட்டின் 32வது மாவட்டமாகும்.

a) A மட்டும்

b) B மட்டும்

c) A மற்றும் B

d) மேற்கூறிய எதுவுமில்லை

36. Pick the **correct** statement

A. National Youth Day observed every year on January 12

B. Swami Dayananda Saraswati's birth anniversary is being celebrated as National Youth Day

a) A only

b) B only

c) A and B

d) None of the above

சரியான வாக்கியத்தைத் தேர்ந்தெடுக்கவும்.

A. தேசிய இளைஞர் தினம் ஒவ்வொரு ஆண்டும் ஜனவரி 12-ம் தேதியன்று அனுசரிக்கப்படுகின்றது.

B. சுவாமி தயானந்த சரஸ்வதியின் பிறந்தநாள் ஆண்டு விழா தேசிய இளைஞர் தினமாக அனுசரிக்கப்படுகின்றது.

a) A மட்டும்

b) B மட்டும்

c) A மற்றும் B

d) மேற்கூறிய அனைத்தும்

37. which city has recently inaugurated 'Bharosa', which is a women's centre for victims of violence?

a) Bengaluru

b) Hyderabad

c) Mumbai

d) Kolkata

சமீபத்தில் எந்த நகரம் வன்முறையால் பாதிக்கப்பட்ட பெண்களுக்கான மையம் என்ன பெயரில் "பாரோசா" என்ற மையத்தை ஆரம்பித்து இருக்கின்றது?

a) பெங்களூரு

b) ஹைதராபாத்

c) மும்பை

d) கொல்கத்தா

38. What is the name of India's first agriculture and food business online learning platform, which has been recently launched in Warangal?

a) INNO-4-AGRIFOOD

b) AgMOOCs

c) SRiX Agri-Business Academy

d) AGRIMONITOR

சமீபத்தில் வாராங்கல்லில் துவங்கப்பட்ட இந்தியாவின் முதல் விவசாய மற்றும் உணவு வியாபாரத்திற்கான இணைய பயிற்சித் தளத்தின் பெயர் என்ன?

a) INNO-4-AGRIFOOD

b) AgMOOCs

c) SRiX Agri-Business Academy

d) AGRIMONITOR

39. Priyank Kanoongo has been recently appointed as the new Chairperson of which of the following statutory bodies?

- a) National Commission for Backward Classes
- b) National Human Rights Commission
- c) National Green Tribunal

**d) National Commission for Protection of Child Rights**

பிரியங்க் கானூங்கோ என்பவர் பின்வரும் எந்த சட்டப்பூர்வ அமைப்பிற்கு புதிய தலைவராக சமீபத்தில் நியமிக்கப்பட்டு இருக்கின்றார்?

- a) தேசிய பிற்படுத்தப்பட்டோர் ஆணையம்
- b) தேசிய மனித உரிமைகள் ஆணையம்
- c) தேசிய பசுமைத் தீர்ப்பாயம்

**d) தேசிய குழந்தை உரிமைகளுக்கான பாதுகாப்பு ஆணையம்**

40. Which of the following is correctly matched?

A. World Sexual Health Day - September 04

B. World Suicide Prevention Day - September 10

- a) A only
- b) B only
- c) Both A and B
- d) Neither A or B

பின்வருவனவற்றுள் எவை சரியாகப் பொருந்தியுள்ளது?

i. உலக பாலியல் சுகாதார தினம் - செப்டம்பர் 04

ii. உலக தற்கொலை தடுப்பு தினம் - செப்டம்பர் 10

- a) i மட்டும்
- b) ii மட்டும்
- c) i மற்றும் ii
- d) இரண்டுமில்லை

41. Bogibeel Bridge – the longest combined road and rail bridge is constructed over which of the following rivers?

- a) Son
- b) Jhelum
- c) Brahmaputra
- d) Chenab

பின்வரும் எந்த நதியின் மீது நீளமான சாலை மற்றும் இரயில் கலப்புப் பாலமான 'போகீபீல் பாலம்' அமைக்கப்பட்டுள்ளது?

- a) சன்
- b) ஜீலம்
- c) பிரம்மபுத்ரா
- d) ஜீனாப்

42. Which country is set to become first Arab country to send its unmanned probe to space?

- a) Kuwait
- b) Saudi Arabia
- c) Oman
- d) UAE

விண்வெளிக்கு ஆளில்லா ஆய்வு விண்கலத்தை அனுப்பவிருக்கும் முதலாவது அரபு நாடு எது?

- a) குவைத்
- b) சவுதி அரேபியா
- c) ஓமன்
- d) ஐக்கிய அரபு அமீரகம்

43. India's first exclusive dog park has come up in which city?

- a) Mumbai
- b) Hyderabad
- c) Lucknow
- d) Chennai

இந்தியாவின் முதல் பிரத்தியேகமான நாய்ப்பூங்கா எந்த நகரத்தில் அமைக்கப்பட இருக்கின்றது?

- a) மும்பை
- b) ஹைதராபாத்
- c) லக்னோ
- d) சென்னை

The Best Coaching Institute For TNPSC, Bank, SSC, Police Exam, TET Exam, Railways Exams

☎ 8939 144 344

10

🌐 www.weshineacademy.com

44. Which country has recently become the world's first country to develop document on Cooling Action Plan (CAP)?  
 a) France                      b) Sweden                      c) Australia                      **d) India**  
 குளிர்ச்சி நடவடிக்கைத் திட்டம் மீதான ஆவணத்தை தயாரிப்பதில் பின்வரும் எந்த நாடு உலகின் முதல் நாடாக சமீபத்தில் உருவெடுத்துள்ளது?  
 a) பிரான்ஸ்                      b) ஸ்வீடன்                      c) ஆஸ்திரேலியா                      **d) இந்தியா**
45. What is the purpose of the scheme "Swayangsiddha", which has been recently launched by the West Bengal government?  
 a) To combat poverty (Food Security)                      **b) To combat human trafficking**  
 c) To combat child mortality                      d) To combat unemployment  
 மேற்கு வங்க மாநில அரசால் சமீபத்தில் ஆரம்பிக்கப்பட்ட ஸ்வயாங்கித்தா என்ற திட்டத்தின் நோக்கம் என்ன?  
 a) வறுமையை ஒழித்தல் (உணவுப் பாதுகாப்பு)  
**b) மனித கடத்தலை தடுத்தல்**  
 c) குழந்தை இறப்பைத் தடுத்தல்  
 d) வேலை வாய்ப்பின்மையை குறைத்தல்
46. Which country participated for the first time in "Vostok-2018"?  
 a) India                      **b) China**                      c) Japan                      d) Ukraine  
 "வோஸ்டக் - 2018" என்ற பயிற்சியில் எந்த நாடு முதன்முறையாக பங்கு பெற்றுள்ளது?  
 a) இந்தியா                      **b) சீனா**                      c) ஜப்பான்                      d) உக்ரைன்
47. Which committee has been recently constituted to look into Prison Reforms by the Supreme Court of India (SCI)?  
 a) Ranjana Prakash Desai Committee                      b) D.K.Jain Committee  
**c) Injeti Srinivasan Committee**                      d) Amitava Roy Committee  
 சமீபத்தில் இந்திய உச்ச நீதிமன்றத்தால் சிறைச்சாலை சீர்திருத்தத்தை கண்காணிப்பதற்காக எந்தக் குழு அமைக்கப்பட்டுள்ளது?  
 a) ரஞ்சனா பிரகாஷ் தேசாய் குழு                      b) டி கே ஜெயின் குழு  
**c) இஞ்செட்டி ஸ்ரீனிவாசன் குழு**                      d) அமிதவ ராய் குழு
48. Who is head of the three-member committee formed to decide vedanda Company Plea challenging closure of the Sterlite plant at Tuticorin?  
 a) Chandru                      **b) Tarun Agarwal**  
 c) Padmanaban                      d) Rajesh Kumar Agarwal  
 தூத்துக்குடியில் உள்ள வேதாந்த நிறுவனத்தின் ஸ்டெர்லைட் ஆலை மூடப்பட்ட விவகாரம் குறித்து முடிவு எடுக்க அமைக்கப்பட்ட மூன்று உறுப்பினர் கொண்ட குழுவின் தலைவர் யார்?  
 a) சந்த்ரூ                      **b) தருண் அகர்வால்**                      c) பத்மநாபன்                      d) ராஜேஷ் குமார் அகர்வால்

49. Which city had launched a QR code-enabled door to door to waste collection monitoring system?

- a) Virudhunagar    b) Chennai    **c) Tiruchy**    d) Coimbatore

எந்த மாநகராட்சி ஞ்சு முறையை பொருத்தப்பட்ட வீடுதோறும் கழிவு சேகரிப்பு கண்காணிப்பு முறையை அமல்படுத்தியுள்ளது?

- a) விருதுநகர்    b) சென்னை    **c) திருச்சி**    d) கோயம்புத்தூர்

50. In which date Prime Minister launched an Indian Post Payments bank?

- a) September 01**    b) September 02    c) August 15    d) August 25

இந்திய அஞ்சலக பண வழங்கீடுகள் வங்கியை எந்த தேதியில் பிரதம அமைச்சர் தொடங்கி வைத்தார்?

- a) செப்டம்பர் 01    b) செப்டம்பர் 02    c) ஆகஸ்ட் 15    d) ஆகஸ்ட் 25

51. Simplification :  $\frac{43 \times 43 \times 43 + 23 \times 23 \times 23}{43 \times 43 \times 43 \times 23 \times 23 \times 23}$  சுருக்குக.

- a) 43    b) 23    **c) 66**    d) 20

52. Simplification :  $\frac{(415+367)^2 - (415-367)^2}{415 \times 367}$  சுருக்குக.

- a) 2    **b) 4**    c) 3    d) 1

53. a + b = 5; ab = 6 Then find the value of a<sup>3</sup> + b<sup>3</sup> ?

a + b = 5; ab = 6 எனில் a<sup>3</sup> + b<sup>3</sup> -ன் மதிப்பு என்ன?

- a) 55    b) 45    c) 25    **d) 35**

54. a<sup>2</sup> + b<sup>2</sup> + c<sup>2</sup> = 100, ab + bc + ca = 150 Then find the value of a + b + c?

a<sup>2</sup> + b<sup>2</sup> + c<sup>2</sup> = 100, ab + bc + ca = 150 எனில் a + b + c -ன் மதிப்பு என்ன?

- a) 20**    b) 40    c) 400    d) 30

55. When a floor of 10m length 10m breadth is furnished with square shaped marbles of 1 m length & 1m breadth, how many marbles are required to complete the whole floor

10மீ நீளமும் 10மீ அகலமும் கொண்ட, ஒரு தரையினை 1மீ நீளமும் 1மீ அகலமும் கொண்ட சதுர பளிங்குக்கற்களால் நிரப்பினால் மொத்தம் அத்தரையில் எத்தனை சதுரங்களைக் காணலாம்?

- a) 100    b) 101    c) 365    **d) 385**

56. How many numbers are in this series?

$$1 + 3 + 5 + \dots + 99$$

- a) 55                      b) 50                      c) 60                      d) 72

1 + 3 + 5 + ..... 99 என்ற தொடர் வரிசையில் உள்ள உறுப்புக்களின் எண்ணிக்கை எத்தனை?

- a) 55                      b) 50                      c) 60                      d) 72

57. Which number should replace \* in the number 4325\*234 in order to make it divisible by 11?

4325 \* 234 என்ற எண் 11 -ஆல் மீதியின்றி வகுபடும் எனில் \* என்ற இடத்தில் வரும் எண் எது?

- a) 4                      b) 3                      c) 2                      d) 5

58.  $1^3 + 2^3 + 3^3 + \dots + 100^3 = (5050)^2$  then  $1 + 2 + 3 + \dots + 100 = ?$

$1^3 + 2^3 + 3^3 + \dots + 100^3 = (5050)^2$  எனில்  $1 + 2 + 3 + \dots + 100 = ?$

- a) 55                      b) 5050                      c) 500500                      d) 550550

59. In an examination, a student scores 4 marks for every correct answer and loses 1 mark for every wrong answer. If he attempts all 60 questions and secures 130 marks, the no of questions he attempts correctly is:

ஒரு தேர்வில், மாணவன் ஒவ்வொரு சரியான பதிலுக்கும் 4 மதிப்பெண் பெறுகிறான் மற்றும் ஒவ்வொரு தவறான பதிலிற்கும் 1 மதிப்பெண் இழக்கிறான். அவன் 60 கேள்விகளுக்கு பதிலளித்து 130 மதிப்பெண்கள் பெற்றால் அவன் சரியாக பதில் அளித்த கேள்விகள் எத்தனை?

- a) 35                      b) 38                      c) 40                      d) 42

60. Simplify the following equation.

$$\frac{19}{43} + \frac{1}{\left(2 + \frac{1}{3 + \frac{1}{1 + \frac{1}{4}}}\right)}$$

- a) 43/19                      b) 1                      c) 38/19                      d) None of these

கீழே கொடுக்கப்பட்டுள்ள சமன்பாட்டை சுருக்குக: -

$$\frac{19}{43} + \frac{1}{\left(2 + \frac{1}{3 + \frac{1}{1 + \frac{1}{4}}}\right)}$$

- a) 43/19                      b) 1                      c) 38/19                      d) எதுவும் இல்லை

61. If  $a * b = 2a - 3b + ab$ , then  $3 * 5 + 5 * 3$  is equal to :

- a) 22                      b) 23                      c) 24                      d) 25

If  $a * b = 2a - 3b + ab$ , எனில்  $3 * 5 + 5 * 3$  is = ?



a) 22

b) 23

c) 24

d) 25

62. If  $a + b + c = 13$ ,  $a^2 + b^2 + c^2 = 69$  then find the  $ab + bc + ca$  :  
a + b + c = 13,  $a^2 + b^2 + c^2 = 69$  எனில்  $ab + bc + ca$  மதிப்பைக் காண்க:  
a) 10                      b) 30                      c) 50                      d) 70

63. If  $\frac{a}{b} = \frac{4}{5}$  and  $\frac{b}{c} = \frac{15}{16}$ , then  $\frac{c^2 - a^2}{c^2 + a^2}$  is :  
a) 7/5                      b) 7/25                      c) 7/125                      d) 7  
 $\frac{a}{b} = \frac{4}{5}$  மற்றும்  $\frac{b}{c} = \frac{15}{16}$ , எனில்  $\frac{c^2 - a^2}{c^2 + a^2} = ?$   
a) 7/5                      b) 7/25                      c) 7/125                      d) 7

64. 50.003% of  $99.8 \div 49.988 = ?$   
a) 2                      b) 0                      c) 1                      d) 50

65. In a group of buffaloes and ducks, the number of legs are 24 more than twice the number of heads. What is the number of buffaloes in the group?  
மாடுகள் மற்றும் வாத்துகளை கொண்ட கூட்டத்தில் இருக்கும் கால்களின் எண்ணிக்கை அக்கூட்டத்தில் இருக்கும் தலையை இரண்டால் பெருக்கினால் அதைவிட 24 அதிகமாக இருக்கும் எனில் அக்கூட்டத்தில் இருக்கும் மாட்டின் எண்ணிக்கை யாது?  
a) 6                      b) 10                      c) 8                      d) 12

66. If 2 tables and 3 chairs cost Rs. 3500 and 3 tables and 2 chairs cost Rs. 4000, then how much does a table cost?  
2 மேஜை மற்றும் 3 நாற்காலி விலை ரூ.3500 மற்றும் 3 மேஜை மற்றும் 2 நாற்காலி விலை ரூ.4000 எனில் ஒரு மேஜையின் விலை?  
a) 500                      b) 1000                      c) 1500                      d) 2000

67.  $17\frac{4}{7} + 13\frac{2}{12} - ? = 11\frac{2}{3}$   
a) 16                      b) 17                      c) 18                      d) 19  
சுருக்குக  
 $17\frac{4}{7} + 13\frac{2}{12} - ? = 11\frac{2}{3}$   
a) 16                      b) 17                      c) 18                      d) 19

68. Two numbers are such that the sum of twice the first number and thrice the second number is 36 and the sum of thrice the first number and twice the second number is 39. Find the difference between the numbers?  
a) 15                      b) 3                      c) 9                      d) 6

இரண்டு எண்களில் முதல் எண்ணின் இரண்டாலும் இரண்டாவது எண்ணை

மூன்றாலும் பெருக்கி அவற்றை கூட்டினால் 36 கிடைக்கும். அதே இரண்டு எண்களில் முதல் எண்ணை மூன்றாலும் இரண்டாவது எண்ணை இரண்டாலும் பெருக்கி அவற்றை கூட்டினால் 39 கிடைக்கும். அந்த இரண்டு எண்ணின் வேறுபாடு கூறுக.

- a) 15                      b) 3                      c) 9                      d) 6

69. Simplify the following and find the value of?

$$\frac{1}{3} \text{ of } ? + \frac{4}{7} \text{ of } \frac{11}{4} \text{ of } 539 = 31\% \text{ of } 2000$$

- a) 1134                      b) 1237                      c) 1187                      d) 1249

பின்வரும் சமன்பாட்டை சுருக்குக

$$\frac{1}{3} \text{ இன் } x + \frac{4}{7} \text{ இன் } \frac{11}{4} \text{ இன் } 539 = 31\% \text{ இன் } 2000$$

- a) 1134                      b) 1237                      c) 1187                      d) 1249

70. Given that  $10^{0.48} = x$ ,  $10^{0.70} = y$  and  $x^z = y^2$ , then the value of z is close to \_\_\_\_\_ ?

- a) 3.7                      b) 2.7                      c) 3.6                      d) 2.9

$10^{0.48} = x$ ,  $10^{0.70} = y$  மற்றும்  $x^z = y^2$  எனில் z-ன் தோராயமான மதிப்பைக் காண்க.

- a) 3.7                      b) 2.7                      c) 3.6                      d) 2.9

71. 12 men complete a work in 9 days. After they have worked for 6 days, 4 more men join them. How many days will they take to complete the remaining work?

- a) 2 days                      b) 2.5 days                      c) 2.25 days                      d) 3 days

12 ஆட்கள் ஒரு வேலையை 9 நாட்களில் முடிக்கின்றனர். 6 தினங்களுக்கு பிறகு 4 ஆட்கள் வேலையில் இணைகின்றனர் எனில், மீதம் உள்ள வேலையை முடிக்க எவ்வளவு நாட்கள் ஆகும்.

- a) 2 நாட்கள்                      b) 2.5 நாட்கள்                      c) 2.25 நாட்கள்                      d) 3 நாட்கள்

72. If 2 men and 3 women can do a piece of work in 8 days and 3 men and 2 women in 7 days. In how many days can the work be done by 5 men and 4 women working together?

- a) 3 days                      b) 6 days                      c) 4 days                      d) 2 days

2 ஆண் மற்றும் 3 பெண்கள் ஒரு வேலையை 8 நாட்களிலும், 3 ஆண்கள் மற்றும் 2 பெண்கள் ஒரு வேலையை 7 நாட்களிலும் முடிக்கின்றனர் எனில் 5 ஆண்கள் மற்றும் 4 பெண்கள் அந்த வேலையை முடிக்க எவ்வளவு நாட்கள் ஆகும்.

- a) 3 நாட்கள்                      b) 6 நாட்கள்                      c) 4 நாட்கள்                      d) 2 நாட்கள்

73. When A, B and C are deployed for a task, A and B together do 70% of the work and B and C together do 50% of the work. who is most efficient?

- a) A                      b) B                      c) C                      d) can't be determined

A, B, C ஒரு வேலையை செய்கின்றனர். A மற்றும் B 70% வேலையும், B மற்றும் C 50% வேலையும் செய்கின்றனர் எனில் மூவரில் யார் திறமையானவர்?

- a) A                      b) B                      c) C                      d) கண்டறிய இயலாது

74. A is thrice efficient as B and C is twice as efficient as B. what is the ratio of

The Best Coaching Institute For TNPSC, Bank, SSC, Police Exam, TET Exam, Railways Exams

number of days taken by A,B and C, when they work individually?

A என்பவர் Bயை விட மூன்று மடங்கும் C என்பவர் Bயை விட இரு மடங்கும் திறமையானவர்கள். மூவரும் தனித்தனியே ஒரு வேலையை முடிக்கும் நாட்களின் அளவை விகிதத்தில் காண்க.

a) 2:6:3                      b) 2:3:6                      c) 1:2:3                      d) 3:1:2

75. A can do a certain work in the same time in which B and C together can do it. If A and B together could do it in 20 days and C alone in 60 days, then B alone could do it in:

a) 20 days                      b) 40 days                      c) 50 days                      d) 60 days

A ஒரு வேலையை முடிக்க B மற்றும் C சேர்ந்து முடிக்க எடுத்துக் கொள்ளும் கால அளவை எடுத்துக் கொள்கிறார். A மற்றும் B வேலையை முடிக்க 20 நாட்கள் ஆகிறது மற்றும் C மட்டும் முடிக்க 60 நாட்கள் ஆகிறது எனில் B மட்டும் வேலையை முடிக்க எவ்வளவு நாட்கள் ஆகும்.

a) 20 நாட்கள்                      b) 40 நாட்கள்                      c) 50 நாட்கள்                      d) 60 நாட்கள்

76. 4 men can repair a road in 7 hours. How many men are required to repair the road in 2 hours?

a) 17 men                      b) 14 men                      c) 13 men                      d) 16 men

4 ஆட்கள் ஒரு ரோட்டை சரி செய்ய 7 மணி நேரம் ஆகிறது எனில் 2 மணி நேரத்தில் சரிசெய்ய எவ்வளவு ஆட்கள் தேவை?

a) 17 ஆட்கள்                      b) 14 ஆட்கள்                      c) 13 ஆட்கள்                      d) 16 ஆட்கள்

77. A twice efficient as B and together they do the same work in as much time as C and D together. If C and D can complete the work in 20 and 30 days respectively, working alone then in how many days A can complete the work individually:

a) 12 days                      b) 18 days                      c) 24 days                      d) 30 days

B யை விட A இருமடங்கு திறமையானவர். இருவரும் ஒரு வேலையை முடிக்க C மற்றும் Dக்கு இணையான நேரத்தை செலவிட்டனர். C மற்றும் D ஒரு வேலையை முடிக்க 20 நாட்கள் 30 நாட்கள் எடுத்துக் கொள்கின்றனர் எனில் A மற்றும் தனியாக அந்த வேலையை முடிக்க எவ்வளவு நாட்கள் ஆகும்.

a) 12 நாட்கள்                      b) 18 நாட்கள்                      c) 24 நாட்கள்                      d) 30 நாட்கள்

78.  $(x - 2)$  men can do a piece of work in  $x$  days and  $(x + 7)$  men can do 75% of the same work in  $(x - 10)$  days. Then in how many days can  $(x + 10)$  men finish the work?

a) 27 days                      b) 12 days                      c) 25 days                      d) 18 days

$(x-2)$  நபர்கள் ஒரு வேலையை  $x$  நாட்களிலும்  $(x+7)$  நபர்கள் அதே வேலையில் 75%-யை  $(x-10)$  நாட்களிலும் முடித்தால்  $(x+10)$  நபர்கள் எத்தனை நாட்களில் அந்த வேலையை முடிப்பர்.

a) 27 நாட்கள்                      b) 12 நாட்கள்                      c) 25 நாட்கள்                      d) 18 நாட்கள்

79. A and B can do a piece of work in 30 days, while B and C can do the same work in 24 days and C and A in 20 days. They all work together for 10 days when B and C leave. How many days more will A take to finish the work?

- a) 18 days                      b) 24 days                      c) 30 days                      d) 36 days

A மற்றும் B ஒரு வேலையை 30 நாட்கள் மற்றும் B மற்றும் C ஒரு வேலையை 24 நாட்கள் மற்றும் C மற்றும் A ஒரு வேலையை 20 நாட்கள் முடிக்கின்றனர். வேலை தொடங்கி 10 நாட்களுக்கு பிறகு B மற்றும் C வெளியேறுகின்றனர் எனில் A மட்டும் அந்த வேலையை முடிக்க எவ்வளவு நாட்கள் எடுத்துக் கொள்வார்?எ

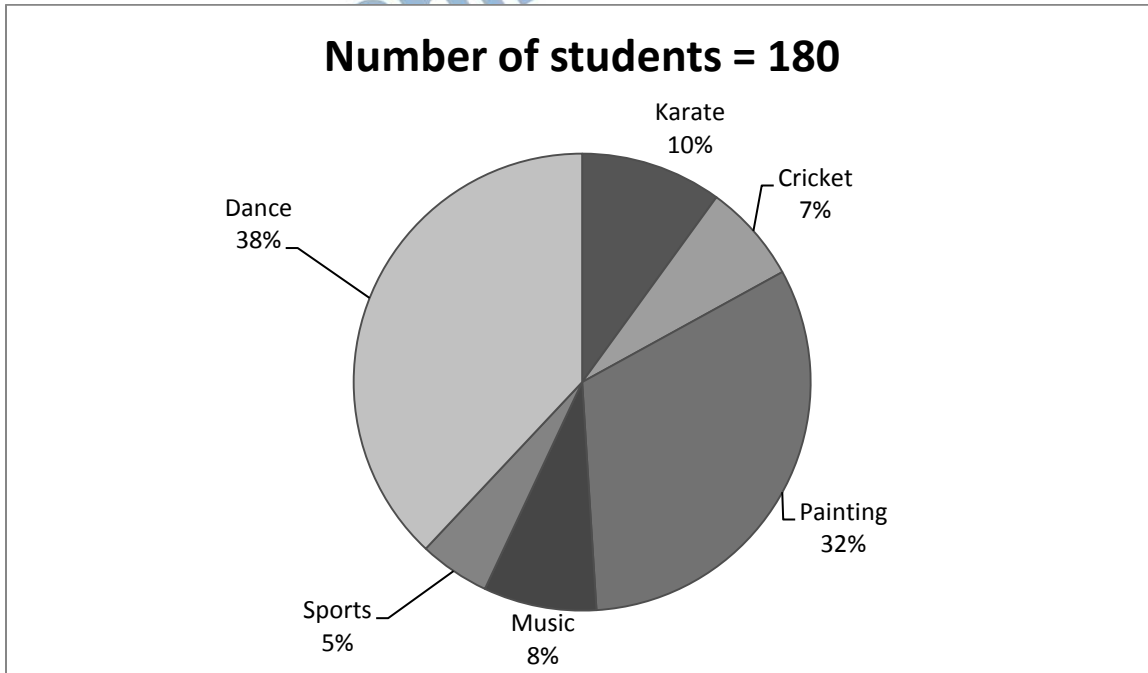
- a) 18 நாட்கள்                      b) 24 நாட்கள்                      c) 30 நாட்கள்                      d) 36 நாட்கள்

80. A, B,C together can do a piece of work in 10 days. All the three started working at it together and after 4 days, A left. Then, B and C together completed the work in 10 more days. In how many days can complete A work alone?

A, B, C ஒரு வேலையை 10 நாட்களில் முடிக்கின்றனர். மூன்று பேரும் வேலையை தொடங்கிய 4 நாட்களுக்கு பிறகு A வெளியேறினார். B மற்றும் C வேலையை முடிக்க 10 நாட்கள் அதிகம் எடுத்துக் கொண்டனர் எனில் A மட்டும் வேலையை முடிக்க எவ்வளவு நாட்கள் ஆகும்?

- a) 25                                      b) 24                                      c) 23                                      d) 21

**Direction (Q. 81-86):** In the following pie-chart percent of students enrolled in different cultural activities of a school has been shown. You are required to study the pie chart carefully and answer the question given below:

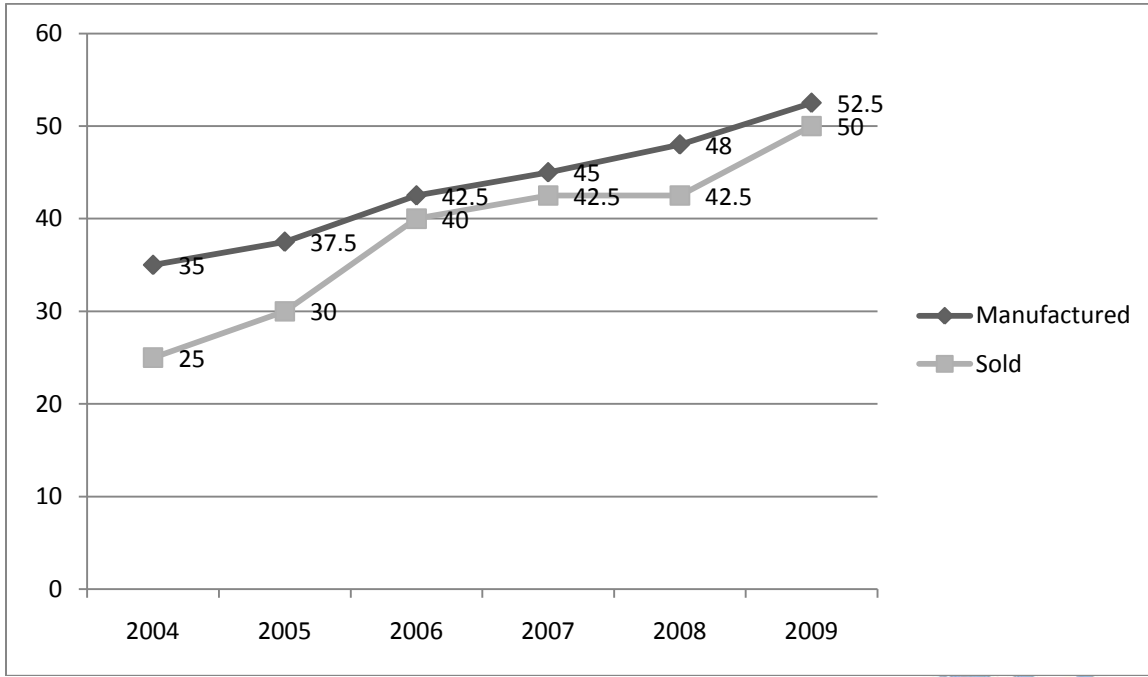


81. What is the number of students who opted for dancing?  
நடன குழுவில் உள்ள மாணவர்களின் எண்ணிக்கை?  
a) 648      b) **684**      c) 864      d) 664
82. What is the respective ratio between the number of students who opted for Painting and that who opted for Karate?  
ஓவியம் மற்றும் கராத்தே மாணவர்களின் விகிதம் என்ன?  
a) 3 : 7      b) 5 : 16      c) **16 : 5**      d) 5 : 7
83. By what percent is the number of candidates who opted for music more than those who opted for sports?  
இசையில் உள்ளவர் விளையாட்டில் உள்ளவர்களை விட எவ்வளவு சதவீதம் அதிகம் உள்ளனர்?  
a) 30      b) 55      c) 45      d) **60**
84. How many students have opted for cricket and painting together?  
கிரிக்கெட் மற்றும் ஓவியத்தில் உள்ள மொத்த மாணவர்களின் எண்ணிக்கை காண்க.  
a) **702**      b) 602      c) 660      d) 645
85. What is the respective ratio between the number of students who opted for dancing and karate to those who opted for painting?  
நடனம் மற்றும் கராத்தேவில் உள்ளவர்களுக்கும் ஓவியத்தில் உள்ளவர்களுக்கும் இடையேயான விகிதம் காண்க.  
a) 2 : 3      b) 1 : 3      c) 3 : 1      d) **3 : 2**

**Directions (Q. 86-90): Study the following graph carefully and answer the questions given below it. Number (in thousands) of products manufactured and sold by a company over the years.**

ஒரு நிறுவனத்தின் விளை பொருட்களின் தயாரிப்பு மற்றும் விற்பனையின் மதிப்பு ஒவ்வொரு ஆண்டும் (மதிப்பு ஆயிரத்தில் உள்ளது)





86. What is the difference between the number of products manufactured by the company in the year 2009 and that in 2008?

நிறுவனத்தில் 2009 மற்றும் 2008ல் விளைபொருட்களின் தயாரிப்பில் உள்ள வேறுபாடுகள் என்ன?

- a) 4000      b) 5500      c) 3500      **d) 4500**

87. The number of products sold by the company in the year 2004 is what percent of the number of products manufactured by it in that year? (rounded off to two digits after decimal)

2004ம் ஆண்டு நிறுவனத்தில் விற்பனை செய்யப்பட்ட விளைபொருட்களானது அதே ஆண்டில் தயாரிக்கப்பட்ட விளை பொருட்களில் எத்தனை சதவீதம் (தசமத்திற்கு பின் இரண்டு முழு எண்ணாக)

- a) 71.43**      b) 67.51      c) 81.67      d) 56.29

88. What is the percent increase in the number of products sold by the company in the year 2006 from the previous year?(rounded off to two digits after decimal)

2006ம் ஆண்டு விற்பனை செய்யப்பட்ட விளை பொருட்கள் அதன் முந்தைய ஆண்டில் விற்பனை செய்யப்பட்டதை விட எத்தனை சதவீதம் அதிகம் (தசமத்திற்கு பின் இரண்டு முழு எண்ணாக)

- a) 19.25      **b) 33.33**      c) 10.45      d) 42.66

89. What is the ratio of the number of products not sold by the company in the year 2007 to that not sold in the year 2005?

2007 மற்றும் 2005ம் ஆண்டில் விற்பனை செய்யப்படாத விளை பொருட்களின் விகிதம்?

- a) 3 : 1      b) 6 : 5      **c) 1 : 3**      d) 5 : 6

The Best Coaching Institute For TNPSC, Bank, SSC, Police Exam, TET Exam, Railways Exams

90. What is the approximate average number of products manufactured by the company over all the years together?

அனைத்து வருடங்களிலும் தயாரிக்கப்பட்ட விளை பொருட்களின் சராசரி தோராயமாக என்ன?

- a) 36550    b) 39480    c) 41220    d) 43416

**Directions (Q. 91-95):** Study the following table carefully answer the questions given below it. Price per Kilogram (in Rs.) at which different farmers sell six different products.

Products	Farmers				
	P	Q	R	S	T
Rice	20	15	20.5	24	22
Wheat	18	16	15	15.5	20
barley	16.5	15	18	20	15
Bajra	15	14	14.5	13.5	12
Maize	13	14	12.5	12	14.5
Sugarcane	10	8	11.5	10.5	8

கீழே கொடுக்கப்பட்டுள்ள அட்டவணையில் ஆறு விவசாயிகள் அவர்களது தானியங்களின் விலைபட்டியலில் ஒரு கிலோவிற்கு பட்டியலிட்டுள்ளனர்.

தானியங்கள்	விவசாயிகள்				
	P	Q	R	S	T
அரிசி	20	15	20.5	24	22
கோதுமை	18	16	15	15.5	20
பார்லி	16.5	15	18	20	15
கம்பு	15	14	14.5	13.5	12
சோளம்	13	14	12.5	12	14.5
கரும்பு	10	8	11.5	10.5	8

91. What is the difference between the average price of per kg of Maize sold by all the farmers and the average price of per kg of Sugarcane sold by all the farmer?

- a) Rs. 3    b) Rs. 4.5    c) Rs. 4.2    d) Rs. 3.6

அனைத்து விவசாயிகளும் விற்ற சோளத்தின் சராசரி மதிப்பும் மற்றும் அனைத்து விவசாயிகள் விற்ற கரும்பின் சராசரி மதிப்பிற்கும் இடையே உள்ள வேறுபாடு?

- a) ரூ. 3    b) ரூ.4.5    c) ரூ.4.2    d) ரூ.3.6

92. What is the ratio of the total price (per kg) of all the products sold by Q to that sold by R?

- a) 41 : 43    b) 43 : 48    c) 43 : 46    d) None of these

Q மற்றும் R இருவரும் விற்ற அனைத்து தானியங்களின் மொத்த விகிதம் என்ன?

- a) 41 : 43    b) 43 : 48    c) 43 : 46    d) எதுவும் இல்லை

93. If farmer Q sells 14 kg of Wheat, 21 kg of barley and 30 kgs of Sugarcane, what will be his total earning?

- a) Rs. 699    b) **Rs. 779**    c) Rs. 650    d) Rs. 786

Q என்ற விவசாயி 14 கிலோ கோதுமை, 21 கிலோ பார்லி மற்றும் 30 கிலோ கரும்பும் விற்றார் எனில் அவருக்கு கிடைக்கும் மொத்த தொகை?

- a) ரூ. 699    b) **ரூ.779**    c) ரூ.650    d) ரூ. 786

94. If farmer P sells 50 kgs of Rice and farmer S sells 60 kg of wheat, what is the difference in amount by either of the farmers in selling their products?

- a) **Rs. 70**    b) Rs. 65    c) Rs. 80    d) Rs. 85

P என்ற விவசாயி 50 கிலோ அரிசியையும் S என்பவர் 60 கிலோ கோதுமையும் விற்றனர், இருவருக்கும் கிடைத்த வருமானத்தின் வேறுபாடு?

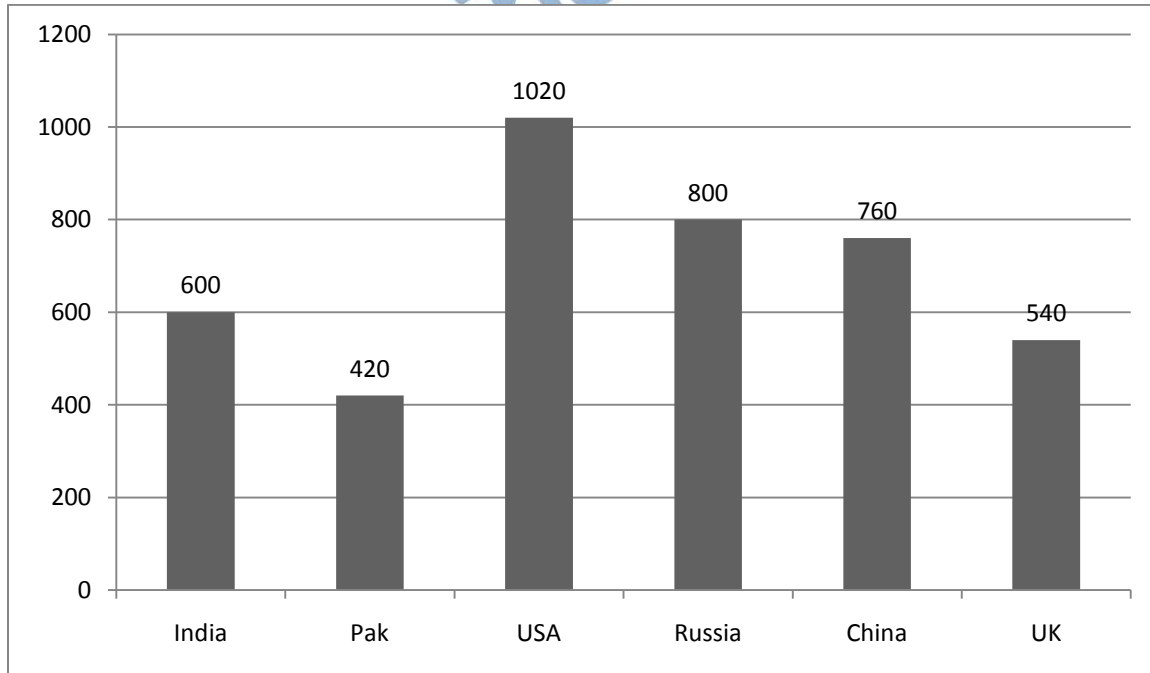
- a) **ரூ.70**    b) ரூ.65    c) ரூ.80    d) ரூ.85

95. If each farmer sells 100 kgs of barley and 50 kg of Bajra, which farmer will earn the most?

ஒவ்வொரு விவசாயியும் 100 கிலோ பார்லியும் மற்றும் 50 கிலோ கம்பும் விற்றார் எந்த விவசாயி அதிக வருமானம் பெறுவார்?

- a) P    b) R    c) **S**    d) Q

**Directions (Q. 96-100): Study the following graph carefully and the answer the questions given below it. In the following bar-graph the defense expenses by different countries is give in billion dollars.**



96. The ratio of the expenditure of India to that Pakistan is

இந்தியா மற்றும் பாகிஸ்தானின் செலவு விகிதம்?

The Best Coaching Institute For TNPSC, Bank, SSC, Police Exam, TET Exam, Railways Exams

a) 10 : 7      b) 7 : 10      c) 5 : 3      d) 3 : 5

97. Average expenses by all the six countries (in billion \$) is

அனைத்து நகரங்களின் செலவுகளின் சராசரி என்ன?

a) 660      b) 670      c) 680      **d) 690**

98. By how much is the expenditure of USA more than that of India?

USA ன் செலவு இந்திய செலவை விட எவ்வளவு சதவிகிதம் அதிகம்?

a) 50%      b) 60%      **c) 70%**      d) 80%

99. The ratio of the expenditure of India to the average expenditure is

இந்தியாவின் செலவு மற்றும் அனைத்து நகரங்களின் சராசரி செலவிற்கும் உள்ள விகிதம் காண்க.

a) 23 : 20      **b) 20 : 23**      c) 10 : 13      d) 13 : 10

100. India's expenditure is what per cent of the total expenditure ? (Find the approximate value)

இந்தியாவின் செலவு அனைத்து செலவுகளில் எவ்வளவு சதவிகிதம்? (தோராய மதிப்பு)

a) 4      b) 9.5      **c) 14.5**      d) 17.5

**Answer Key**

1. d	2. c	3. b	4. c	5. d	6. d	7. c	8. b	9. a	10. b
11. c	12. d	13. c	14. c	15. d	16. d	17. a	18. c	19. c	20. b
21. d	22. c	23. d	24. d	25. b	26. b	27. b	28. d	29. a	30. b
31. c	32. b	33. c	34. a	35. d	36. a	37. b	38. c	39. d	40. c
41. c	42. d	43. b	44. d	45. b	46. b	47. c	48. b	49. c	50. a
51. c	52. b	53. d	54. a	55. d	56. b	57. d	58. b	59. b	60. d
61. a	62. c	63. b	64. c	65. d	66. b	67. d	68. a	69. a	70. d
71. c	72. c	73. a	74. a	75. d	76. b	77. b	78. b	79. a	80. a
81. b	82. c	83. d	84. a	85. d	86. d	87. a	88. b	89. c	90. d
91. d	92. d	93. b	94. a	95. c	96. a	97. d	98. c	99. b	100. c