



# We Shine Academy™

guiding you to get through

1. With which is the 'Golden Triangle' related?  
a) Agriculture      **b) Tourism**      c) Education      d) Industry  
பொன்னான முக்கோணம் எதனோடு தொடர்புடையது?  
a) வேளாண்மை      **b) சுற்றுலா**      c) கல்வி      d) தொழில்கள்
2. Who is the present President of the World Bank?  
a) Christine Lagarde      b) Milind Kharat  
**c) Takehiko Nakao**      d) Jing Yong Kim  
உலக வங்கியின் தற்போதைய தலைவர் யார்?  
a) கிறிஸ்டின் லஹார்ட்      b) மிலிண்ட் காரத்  
**c) டகேஹிகோ நகாவ்**      d) ஜிங்யாங்கிம்
3. Central Ganga Authority was constituted in the year \_\_\_\_  
a) 1981      b) 1983      **c) 1985**      d) 1990  
மத்திய கங்கை அமைப்பு எந்த வருடம் உருவாக்கப்பட்டது?  
a) 1981      b) 1983      **c) 1985**      d) 1990
4. World Water Day is celebrated on \_\_\_\_  
a) February 20      b) February 22      c) March 20      **d) March 22**  
உலக நீர் தினம் கொண்டாடப்படும் நாள் \_\_\_\_ ஆகும்.  
a) பிப்ரவரி 20      b) பிப்ரவரி 22      c) மார்ச் 20      **d) மார்ச் 22**
5. Which type of goal is included in the 'Technology Vision 2020' for the development of India?  
**a) Optimistic goal**      b) Collective goal  
c) Short term goal      d) Long term goal  
'தொழில்நுட்ப கண்ணோட்டம் 2020' ல் இந்திய வளர்ச்சிக்காக எந்த வகையான இலக்கு சேர்க்கப்பட்டுள்ளது?  
**a) உத்தம இலக்கு**      b) கூட்டு இலக்கு  
c) குறுகிய கால இலக்கு      d) நீண்ட கால இலக்கு
6. Santhanam Committee is related to \_\_\_\_  
**a) Eradication of Corruption**      b) Eradication of Poverty  
c) Centre – State Relations      d) Reservation

The Best Coaching Institute For TNPSC, Bank, SSC, Police Exam, TET Exam, Railways Exams

☎ 8939 144 344

1

🌐 [www.weshineacademy.com](http://www.weshineacademy.com)

சந்தானம் குழு \_\_\_\_ சம்பந்தப்பட்டது.

- a) ஊழலை ஒழிப்பது b) வறுமையை ஒழிப்பது  
c) மத்திய மாநில உறவுகள் d) இடஒதுக்கீடு

7. Who created the office of the District Collector?

- a) **Warren Hastings** b) Cornwallis  
c) Lord Rippon d) Lord Mayo

மாவட்ட ஆட்சித்தலைவர் உருவாக்கியவர் யார்?

- a) **வாரன்ஹேஸ்டிங்ஸ்** b) காரன் வாலிஸ்  
c) ரிப்பன்பிரபு d) மாயோ பிரபு

8. In which year were The Right to information Rules framed?

- a) **2005** b) 2008 c) 2010 d) 2012

தகவல் அறியும் சட்ட விதிகள் எந்த ஆண்டு உருவாக்கப்பட்டது?

- a) **2005** b) 2008 c) 2010 d) 2012

9. Which day is celebrated as the 'Civil Services Day' every year?

- a) March 10 b) March 21 c) April 10 d) **April 21**

'குடிமை பணிகள் தினம்' எந்த நாளில் கொண்டாடப்படுகிறது?

- a) மார்ச் 10 b) மார்ச் 21 c) ஏப்ரல் 10 d) **ஏப்ரல் 21**

10. Where is the National Forest Research Institute?

- a) Simla b) Nagpur c) Mussoorie d) **Dehradun**

தேசிய வன ஆராய்ச்சி நிலையம் அமைந்துள்ள இடம் எது?

- a) சிம்லா b) நாக்பூர் c) முசோரி d) **டேராடூன்**

11. Which is called as the 'Appointed Day'?

- a) January 22, 1947 b) **August 15, 1947**

- c) November 26, 1949 d) January 26, 1950

எது 'நியமிக்கப்பட்ட தினம்' என்று அழைக்கப்படுகிறது?

- a) ஜனவரி 22, 1947 b) **ஆகஸ்ட் 15, 1947**

- c) நவம்பர் 26, 1949 d) ஜனவரி 26, 1950

12. Which was not given immediate effect from the enactment of the Constitution?

- a) **Fundamental Rights** b) Citizenship

- c) Provisional Parliament d) Temporary Provisions

அரசியலமைப்பு இயற்றப்பட்டதிலிருந்து உடனடி நடைமுறை கொடுக்கப்படாதது எது?

- a) **அடிப்படை உரிமைகள்** b) குடியரிமை

- c) தற்காலிகப் பாராளுமன்றம் d) தற்காலிக சிறப்பம்சங்கள்

13. Which Justice is not included in the Preamble of the Constitution?

- a) Social Justice b) Economic Justice

The Best Coaching Institute For TNPSC, Bank, SSC, Police Exam, TET Exam, Railways Exams

c) Political Justice

இந்திய அரசியலமைப்பின் முகவுரையில் உள்ளடங்காத நீதி எது?

a) சமூக நீதி

c) அரசியல் நீதி

d) Natural Justice

b) பொருளாதார நீதி

d) இயற்கை நீதி

14. Which case created the 'Basic Structure' of the Constitution?

a) Berubari case

c) Minerva Mills case

எந்த வழக்கு அரசியலமைப்பின் அடிப்படைக் கட்டமைப்பை உருவாக்கியது?

a) பெருபாரி வழக்கு

c) மினர்வாமில் வழக்கு

b) Golak Nath case

d) Keshavananda case

b) கோலக்நாத் வழக்கு

d) கேசவானந்தா வழக்கு

15. Who introduced the concept of 'Rule of Law'?

a) Thomas Hobbes

c) John Locke

'சட்டத்தின் ஆட்சி' என்ற கொள்கையை அறிமுகப்படுத்தியவர் \_\_\_\_\_ ஆவார்.

a) தாமஸ் ஹாப்ஸ்

c) ஜான் லாக்

b) A.V.Dicey

d) B.R.Ambedkar

b) ஏ.வி. டைசி

d) பி.ஆர்.அம்பேத்கர்

16. \_\_\_\_\_ gave the call of "Do or Die"

a) Nehru

c) Abul Kalam Azad

'செய்' அல்லது 'செத்துமடி' என்ற தனது கருத்தை வெளியிட்டவர் \_\_\_\_\_ ஆவார்.

a) நேரு

c) அபுல்கலாம் ஆசாத்

b) Gandhi

d) Jinnah

b) காந்தி

d) ஜின்னா

17. Pakistan became independent Nation on \_\_\_\_\_

a) 14 Aug 1947

c) 15 Jan 1948

\_\_\_\_\_ அன்று பாகிஸ்தான் சுதந்திர நாடாக மாறியது.

a) ஆகஸ்ட் 14, 1947

c) ஜனவரி 15, 1948

b) 15 Aug 1947

d) 14 Aug 1948

b) ஆகஸ்ட் 15, 1947

d) ஆகஸ்ட் 14, 1948

18. Gandhi started his Dandi March at Sabarmathi Ashram in \_\_\_\_\_

a) 1929

b) 1930

c) 1931

d) 1932

\_\_\_\_\_ ஆண்டு சபர்மதி ஆசிரமத்தில் இருந்து காந்தியடிகள் தன்னுடைய தண்டிபாத யாத்திரையை துவங்கினார்.

a) 1929

b) 1930

c) 1931

d) 1932

19. Samarasa Suddha Sanmargha Sangha was founded by \_\_\_\_\_

a) Rajaram Mohan Roy

c) Sri. VaiKunta Swamigal

b) Saint Ramalinga

d) Jyotiba Phule

The Best Coaching Institute For TNPSC, Bank, SSC, Police Exam, TET Exam, Railways Exams

☎ 8939 144 344

3

🌐 www.weshineacademy.com

சமரச சுத்த சன் மார்க்க சங்கம் என்ற அமைப்பை \_\_\_\_\_ துவங்கினார்.

- a) இராஜாராம் மோகன்ராய்      b) இராமலிங்க அடிகளார்  
c) ஸ்ரீவைகுண்ட சுவாமிகள்      d) ஜோதிபாபுலே

20. \_\_\_\_\_ congress session claimed for complete independence

- a) Lahore      b) Delhi      c) Nagpur      d) Madras

முழு சுதந்திர கோரிக்கை அறிவிக்கப்பட்ட காங்கிரஸ் மாநாடு \_\_\_\_\_ ஆகும்.

- a) லாகூர்      b) டில்லி      c) நாக்பூர்      d) மதராஸ்

21. Who stated that Art 32 is the soul and heart of the constitution?

- a) Jawaharlal Nehru      b) Rajendra Prasad  
c) B. R. Ambedkar      d) Radhakrishnan

விதி 32 என்பது அரசியலமைப்பில் உயிர் மற்றும் இதயம் என்று கூறியது யார்?

- a) ஜவஹர்லால் நேரு      b) இராஜேந்திர பிரசாத்  
c) பி.ஆர். அம்பேத்கர்      d) இராதாகிருஷ்ணன்

22. Which Article of the Constitution authorizes the Parliament or create new All India Services on the basis of Rajya Sabha resolution?

- a) Article 312      b) Article 315      c) Article 317      d) Article 319

புதிய அகில இந்தியப் பணிகள் உருவாக்கப் பயன்படும் அரசியலமைப்பின் சரத்து எண் \_\_\_\_\_ ஆகும்.

- a) சரத்து 312      b) சரத்து 315      c) சரத்து 317      d) சரத்து 319

23. When was the Supreme Court of India inaugurated?

- a) August 15, 1947      b) November 26, 1949  
c) December 10, 1949      d) January 28, 1950

இந்திய உச்ச நீதிமன்றம் திறக்கப்பட்ட நாள் \_\_\_\_\_ ஆகும்.

- a) ஆகஸ்ட் 15, 1947      b) நவம்பர் 26, 1949  
c) டிசம்பர் 10, 1949      d) ஜனவரி 28, 1950

24. Who appoints the Judges of the High Court?

- a) Governor      b) Chief Minister  
c) President      d) Prime Minister

உயர்நீதிமன்ற நீதிபதிகளை நியமிப்பவர் யார்?

- a) கவர்னர்      b) முதலமைச்சர்  
c) குடியரசுத் தலைவர்      d) பிரதம மந்திரி

25. The first State to establish Panchayati Raj according to the recommendations of the Balwantrai Mehta Committee is \_\_\_\_\_

- a) Bihar      b) Karnataka      c) Rajasthan      d) Uttar Pradesh

பல்வந்தராய் கம்மிட்டி பரிந்துரையின் பேரில் பஞ்சாயத்து ராஜ் அமைப்பு

ஏற்படுத்திய முதல் மாநிலம் \_\_\_\_\_ ஆகும்.

The Best Coaching Institute For TNPSC, Bank, SSC, Police Exam, TET Exam, Railways Exams

a) பீகார்                      b) கர்நாடகா                      c) இராஜஸ்தான்                      d) உத்திர பிரதேசம்

26. Mahatma Gandhi was assassinated on \_\_\_\_  
a) 30 Jan 1947                      b) 30 Aug 1947                      c) **30 Jan 1948**                      d) 30 Aug 1948

மகாத்மா காந்தி படுகொலை செய்யப்பட்ட நாள் \_\_\_\_ ஆகும்

a) ஜனவரி 30,1947                      b) ஆகஸ்ட் 30,1947                      c) **ஜனவரி 30,1948**                      d) ஆகஸ்ட் 30,1948

27. \_\_\_\_ is popularly known as Iron Man of India

a) Dr. Rajendra Prasad                      b) Gandhi  
c) Subhas Chandra Bose                      d) **Vallabhai Patel**

இந்தியாவின் இரும்பு மனிதர் என சிறப்பாக அழைக்கப்படுபவர் \_\_\_\_ ஆவார்

a) டாக்டர் இராஜேந்திர பிரசாத்                      b) காந்தி  
c) சுபாஸ் சந்திர போஸ்                      d) **வல்லபாய்பட்டேல்**

28. \_\_\_\_ started Swadeshi Steam Navigation Company in Tuticorin.

a) **V.O. Chidambaram Pillai**                      b) Nilakanta Brahmachari  
c) Rajaji                      d) Bharathi

தூத்துக்குடியில் சுதேசிய வாணிப கப்பல் கம்பெனியை துவங்கியவர் \_\_\_\_ ஆவார்.

a) **வ.உ.சிதம்பரம் பிள்ளை**                      b) நீலகண்ட பிரம்மாச்சாரி  
c) இராஜாஜி                      d) பாரதி

29. \_\_\_\_ changed the name of Madras State into Tamil Nadu.

a) K. Kamaraj                      b) C. Rajaji  
c) **C.N. Annadurai**                      d) M. Karunanidhi

சென்னை மாநிலம் என்ற பெயரை தமிழ்நாடு என பெயர் மாற்றிய முதல்வர் \_\_\_\_ ஆவார்.

a) கே.காமராஜ்                      b) சி.இராஜாஜி  
c) **சி.என்.அண்ணாதுரை**                      d) மு.கருணாநிதி

30. In 1986 New Educational Policy was introduced by \_\_\_\_

a) Indira Gandhi                      b) **Rajiv Gandhi**                      c) Morarji Desai                      d) V.P. Singh

1986 ம் ஆண்டு புதிய கல்விக் கொள்கையை அறிமுகப்படுத்தியவர் \_\_\_\_ ஆவார்.

a) இந்திரா காந்தி                      b) **இராஜீவ்காந்தி**                      c) மொரார்ஜி தேசாய்                      d) வி.பி.சிங்

31. \_\_\_\_ introduced Mid-day Meals Scheme to attract students towards school.

a) **K. Kamaraj**                      b) C. Rajaji  
c) C.N. Annadurai                      d) J. Jayalalitha

மாணவர்களை பள்ளிக்கு கவர்ந்து இழுக்க மதிய உணவுத் திட்டத்தை அறிமுகப்படுத்திய முதல்வர் \_\_\_\_ ஆவார்

a) **கே.காமராஜ்**                      b) சி.இராஜாஜி

c) சி.என்.அண்ணாதுரை d) ஜெ.ஜெயலலிதா

32. Who is popularly known as Nightingale of India?

- a) Sarojini Naidu b) Annie Besant  
c) M.S.Subbu Lakshmi d) Rukmani Arundale

\_\_\_\_\_ இந்தியாவின் பாடும் குயில் என்று சிறப்பாக அழைக்கப்பட்டார்.

- a) சரோஜினி நாயுடு b) அன்னிபெசன்ட்  
c) எம்.எஸ். சுப்புலட்சுமி d) ருக்மணி அருண்டேல்

33. \_\_\_\_\_ an Englishman mainly responsible for the formation of Indian National Congress.

- a) A.O.Hume b) Robert Clive c) Ilbert d) Hunter

இந்திய தேசிய காங்கிரஸ் உருவாக காரணமாக இருந்த ஆங்கிலேயர் \_\_\_\_\_ ஆவார்

- a) ஏ.ஓ.ஹியூம் b) ராபர்ட் கிளைவ் c) இல்பர்ட் d) ஹண்டர்

34. \_\_\_\_\_ was popularly known as 'Lion of Punjab' among the nationalists.

- a) Tilak b) Bhagat c) Lala Lajpat Rai d) Bipin Chandra Pal

\_\_\_\_\_ என்பவர் தேசியவாதிகள் மத்தியில் பஞ்சாபின் சிங்கம் என சிறப்பாக அழைக்கப்படுகிறார்.

- a) திலக் b) பகத்  
c) லாலா லஜ்பத் ராய் d) பிபின் சந்திர பால்

35. Dyarchy was introduced in provinces by \_\_\_\_\_.

- a) Indian Council Act, 1892 b) Govt. of India Act, 1909  
c) Govt. of India Act, 1919 d) Govt. of India Act, 1935

\_\_\_\_\_ சட்டத்தின் மூலம் மாகாணங்களில் இரட்டை ஆட்சி அறிமுகம் செய்யப்பட்டது.

- a) 1892 ம் ஆண்டு இந்திய கவுன்சில் சட்டம்  
b) 1909 ம் ஆண்டு இந்திய அரசு சட்டம்  
c) 1919 ம் ஆண்டு இந்திய அரசு சட்டம்  
d) 1935 ம் ஆண்டு இந்திய அரசு சட்டம்

36. \_\_\_\_\_ constructed Brahadeswara temple.

- a) Rajaraja b) Rajendra c) Parantaka d) Kulotunga

பிரகதீஸ்வரர் கோயிலை கட்டியவர் \_\_\_\_\_ ஆவார்.

- a) இராஜ இராஜன் b) இராஜேந்திரன் c) பராந்தகன் d) குலோத்துங்கன்

37. Second Battle of Panipat took place in \_\_\_\_\_.

- a) 1526 b) 1556 c) 1761 d) 1765

இரண்டாம் பாணிபட் யுத்தம் \_\_\_\_\_ ஆண்டில் நடை பெற்றது.

- a) 1526 b) 1556 c) 1761 d) 1765

The Best Coaching Institute For TNPSC, Bank, SSC, Police Exam, TET Exam, Railways Exams

☎ 8939 144 344

6

🌐 www.weshineacademy.com

38. \_\_\_\_\_ was responsible for the introduction of Western Education in India.  
 a) Lord Macaulay b) Lord Munro c) Lord Dalhousie d) Lord Harding  
 இந்தியாவில் மேற்கத்திய கல்வியை அறிமுகப்படுத்த காரணமாக இருந்தவர் \_\_\_\_\_ ஆவார்.  
 a) மெக்காலே பிரபு b) மன்றோ பிரபு c) டல்கெளசி பிரபு d) ஹார்டிங் பிரபு
39. \_\_\_\_\_ described India as a 'mosaic of culture'.  
 a) Gandhi b) Nehru  
 c) Patel d) Rajaram Mohan Roy  
 இந்தியா பல்வேறு கலாச்சரங்களில் இணைப்புத் தோற்றம் என \_\_\_\_\_ குறிப்பிடுகிறார்.  
 a) காந்தி b) நேரு  
 c) பட்டேல் d) ராஜாராம் மோகன் ராய்
40. Periyar started Self Respect Movement in \_\_\_\_\_.  
 a) 1924 b) 1925 c) 1926 d) 1927  
 பெரியார் சுய மரியாதை இயக்கத்தை துவக்கிய ஆண்டு \_\_\_\_\_ ஆகும்.  
 a) 1924 b) 1925 c) 1926 d) 1927
41. The important port of Indus Valley people is \_\_\_\_\_.  
 a) Harappa b) Kalibangan c) Lothal d) Mohenjadaro  
 சிந்து சமவெளி மக்களின் முக்கிய துறைமுகம் \_\_\_\_\_ ஆகும்.  
 a) ஹரப்பா b) காலிபங்கன் c) லோத்தல் d) மொகஞ்சதாரோ
42. The birth place of Gautama Buddha is \_\_\_\_\_.  
 a) Kunta b) Kapilavastu c) Gaya d) Kushinagar  
 கௌதம புத்தர் பிறந்த இடம் \_\_\_\_\_ ஆகும்  
 a) குன்டா b) கபிலவஸ்து c) கயா d) குஷிநகரம்
43. Arthasastra was written by \_\_\_\_\_.  
 a) Megasthanese b) Kautilya c) Vishakadatta d) Kalidasa  
 \_\_\_\_\_ என்பவரால் அர்த்த சாஸ்திரம் எழுதப்பட்டது.  
 a) மெகஸ்தனீஸ் b) கவுடில்யர் c) விசாகதத்தர் d) காளிதாசர்
44. \_\_\_\_\_ a Chinese scholar came to India during the reign of Chandragupta II.  
 a) Fahien b) Yuan tsang c) Tsing d) Pan yang  
 இரண்டாம் சந்திர குப்தர் ஆட்சி காலத்தில் இந்தியாவுக்கு வருகை புரிந்த சீன அறிஞர் \_\_\_\_\_ ஆவார்  
 a) பாஹியான் b) யுவான் சுவாங் c) டிசிங் d) பான்யாங்
45. Dhanvantri was a famous \_\_\_\_\_ during Gupta period.

a) Mathematician    b) Physician    c) Poet    d) Astronomer

தன்வந்திரி, குப்தர் காலத்தில் ஒரு புகழ் பெற்ற \_\_\_\_\_ ஆவார்.

a) கணித மேதை    b) மருத்துவ வல்லுநர்  
c) கவிஞர்    d) வானியல் நிபுணர்

46. Recently notified Tiger Reserve in Tamil Nadu is \_\_\_\_\_

a) Anamalai    b) Mudumalai  
c) Satya mangalam    d) Kalkad Mundanthurai

தமிழகத்தில் புதியதாக அறிவிக்கப்பட்ட புலிகள் காப்பகம் \_\_\_\_\_ ஆகும்.

a) ஆனைமலை    b) முதுமலை  
c) சத்திய மங்கலம்    d) களக்காடு முண்டன்துறை

47. State animal of Tamil Nadu is \_\_\_\_\_.

a) Elephant    b) Tiger    c) Nilgiri Tahr    d) Sambar Deer

தமிழகத்தின் மாநில விலங்கு \_\_\_\_\_ ஆகும்

a) யானை    b) புலி    c) வரையாடு    d) கடமான்

48. State flower of Tamil Nadu is \_\_\_\_\_.

a) Rosa species    b) Jasminum sambac  
c) Gloriosa superba    d) Mangifera indica

தமிழகத்தின் மாநில மலர் \_\_\_\_\_ ஆகும்

a) ரோஜா    b) மல்லிகை  
c) கலப்பை கிழங்கு    d) மாம்பூ

49. State tree of Tamil Nadu is \_\_\_\_\_.

a) Coconut    b) Arecanut    c) Palmyrah    d) Sugar Palm

தமிழகத்தின் மாநில மரம் \_\_\_\_\_ ஆகும்

a) தென்னை    b) கமுகு    c) பனை    d) இனிப்பு பனை

50. National Heritage animal of India is \_\_\_\_\_.

a) Tiger    b) Panther    c) Nilgiri Tahr    d) Elephant

இந்தியாவின் தேசிய பாரம்பரிய விலங்கு \_\_\_\_\_ ஆகும்

a) புலி    b) சிறுத்தை    c) வரையாடு    d) யானை

51. The average depth of Indian ocean is \_\_\_\_\_.

a) 4000 m    b) 2000 m    c) 1000 m    d) 500 m

இந்தியப் பெருங்கடலின் சராசரி ஆழம் \_\_\_\_\_ ஆகும்

a) 4000 மீ    b) 2000 மீ    c) 1000 மீ    d) 500 மீ

52. The average annual temperature of the equator is \_\_\_\_\_

a) 20° C    b) 26° C    c) 30° C    d) 10° C

பூமத்திய ரேகை பகுதியில் சராசரி ஆண்டு வெப்பம் \_\_\_\_\_ ஆகும்

The Best Coaching Institute For TNPSC, Bank, SSC, Police Exam, TET Exam, Railways Exams

☎ 8939 144 344

8

🌐 www.weshineacademy.com



a) 20° செ                      b) 26° செ                      c) 30° செ                      d) 10° செ

53. Neap tides has \_\_\_\_ amplitude.

- a) Highest                      **b) Lowest**  
c) Medium                      d) None of the above

நீப் அலைகள் \_\_\_\_ ஆம்பிளிடி யூடு உள்ளவை

- a) மிக அதிகமான                      **b) மிக குறைந்த**  
c) அளவான                      d) இவை ஏதுமில்லை

54. Kaziranga National Park is located in \_\_\_\_.

- a) Assam**                      b) Bihar                      c) West Bengal                      d) Karnataka

காசி ரங்கா தேசிய பூங்கா \_\_\_\_ மாநிலத்தில் அமைந்துள்ளது.

- a) அஸ்ஸாம்**                      b) பீகார்                      c) மேற்கு வங்கம்                      d) கர்நாடகம்

55. Total Number of biospheres in Tamil Nadu are \_\_\_\_.

- a) 5                      b) 4                      **c) 3**                      d) 2

தமிழ்நாட்டில் அமைந்துள்ள உயிர்கோள பகுதிகளின் எண்ணிக்கை \_\_\_\_ ஆகும்

- a) 5                      b) 4                      **c) 3**                      d) 2

56. Soils with fairly equal proportions of sand, silt and clay are called \_\_\_\_

- a) Loam**                      b) Sandy Loam  
c) Silty Loam                      d) None of the above

மணல், வண்டல் மற்றும் களி சரி விகிதத்தில் அமைந்த மண்வகை \_\_\_\_ எனப்படும்.

- a) லோம்**                      b) மணல் மிகுந்த லோம்  
c) வண்டல் லோம்                      d) இவை ஏதுமில்லை

57. Hot summer and low rainfall develops \_\_\_\_ soil.

- a) Red                      **b) Black**                      c) Brown                      d) Yellow

குறைவான மழையும் கடுமையான கோடைகாலமும் \_\_\_\_ மண் உண்டாக காரணம்

- a) சிவப்பு                      **b) கருப்பு**                      c) காவி                      d) மஞ்சள்

58. The component of the atmosphere which acts as a filter and absorbs ultraviolet radiations from the sun is \_\_\_\_.

- a) Carbon – di – oxide                      **b) Ozone**  
c) Argon                      d) Neon

சூரியனிடமிருந்து வெளிப்படும் அல்ட்ராவைலட் கதிர்களை தடுக்கும் வடி கட்டியாக \_\_\_\_\_ படலம் செயல்படுகிறது

- a) கரியமில் வாயு                      **b) ஓசோன்**  
c) ஆர்ஹான்                      d) நியான்

59. The \_\_\_\_ is the lowest layer of atmosphere.

The Best Coaching Institute For TNPSC, Bank, SSC, Police Exam, TET Exam, Railways Exams

☎ 8939 144 344

9

🌐 www.weshineacademy.com

- a) Mesosphere      b) Stratosphere      c) Troposphere      d) Ionosphere  
 வளிமண்டலத்தில் மிகவும் கீழே உள்ள பகுதி \_\_\_\_\_ ஆகும்  
 a) மீசோஸ்பியர்      b) ஸ்ட்ராடோஸ்பியர்      c) ட்ரோபோஸ்பியர்      d) அயனோஸ்பியர்

60. \_\_\_\_\_ ocean covers about one-Sixth of the Earth's total area.  
 a) Pacific      b) Atlantic      c) Arctic      d) Indian  
 பூமியின் பரப்பளவில் ஆறில் ஒரு பங்கு \_\_\_\_\_ பெருங்கடலால் ஆனதாகும்  
 a) பசிபிக்      b) அட்லாண்டிக்      c) ஆர்க்டிக்      d) இந்தியன்

61. Nearly 150 million years ago there was a single super continent on the Earth Known as \_\_\_\_\_ -  
 a) Pangaea      b) Panthalassa  
 c) Thalagaea      d) None of the above  
 சுமார் 150 மில்லியன் ஆண்டுகளுக்கு முன்னால் இருந்த மாபெரும் கண்டத்தின் பெயர் \_\_\_\_\_ ஆகும்  
 a) பேன்ஜியா      b) பேன்தலசா      c) தலஜியா      d) இவைஏதுமில்லை

62. Quartz is a \_\_\_\_\_.  
 a) Mineral      b) Rock  
 c) Element      d) None of the above  
 குவார்ட்ஸ் என்பது ஒரு \_\_\_\_\_  
 a) கனிமம்      b) பாறை      c) தனிமம்      d) இவைஏதுமில்லை

63. As many as 87% of the minerals in the Earth's crust are \_\_\_\_\_.  
 a) Carbonates      b) Phosphates      c) Silicates      d) Oxides  
 பூமியில் காணப்படும் சுமார் 87% கனிமங்கள் \_\_\_\_\_ ஆகும்  
 a) கார்பனேட்டுகள்      b) பாஸ்பேட்டுகள்      c) சிலிகேட்டுகள்      d) ஆக்ஸைட்டுகள்

64. \_\_\_\_\_ is the sedimentary rock of organic origin.  
 a) Coal      b) Rock salt      c) Slate      d) Shale  
 \_\_\_\_\_ என்பது உயிர் பொருட் கூறினாலான படிவுப்பாறை ஆகும்  
 a) நிலக்கரி      b) பாறை உப்பு      c) சிலேட்டு      d) ஷேல்

65. The \_\_\_\_\_ are considered to be one of the oldest mountains on the Earth.  
 a) Greater Himalayas      b) Aravallis  
 c) Lesser Himalayas      d) None of these  
 \_\_\_\_\_ மலைகள் உலகின் பழமையான மலைகளில் ஒன்றாகும்.  
 a) மிகப்பெரிய இமாலயப்பகுதி      b) ஆரவல்லி  
 c) குறைந்த இமாலயப்பகுதி      d) இவைஏதுமில்லை

66. Census of India is being held regularly after every \_\_\_\_\_

- a) Five years      b) Six years      c) Eight Years      d) Ten years  
 இந்திய மக்கள் தொகை கணக்கெடுப்பு வழக்கமாக \_\_\_\_\_ ஆண்டுகளுக்கு ஒரு முறை செய்யப்படுகிறது.  
 a) ஐந்து வருடம்      b) ஆறு வருடம்      c) எட்டு வருடம்      d) பத்து வருடம்

67. Gross Domestic Product is a measure of a country's \_\_\_\_\_

- a) Financial position  
 b) Industrial position  
 c) International economic activities  
 d) Domestic economic activities

மொத்த உள்நாட்டு உற்பத்தி அளவிடுவது ஒரு நாட்டின் \_\_\_\_\_ ஆகும்

- a) நிதி நிலை  
 b) தொழில் உற்பத்தி  
 c) பன்னாட்டு பொருளாதார செயல்பாடுகள்  
 d) உள் நாட்டு பொருளாதார நடவடிக்கைகள்

68. The Green Revolution in India was planned during \_\_\_\_.

- a) Second Five Year Plan      b) Third Five year plan  
 c) Annual Plans (1967 -69)      d) Fourth Five Year Plan

இந்தியாவில் பசுமைப்புரட்சி திட்டமிட்டது \_\_\_\_\_ ஆகும்.

- a) இரண்டாவது ஐந்தாண்டு திட்ட காலத்தில்  
 b) மூன்றாவது ஐந்தாண்டு திட்ட காலத்தில்  
 c) ஒராண்டு நிறைவு ஐந்தாண்டு திட்ட காலத்தில் (1967-69)  
 d) நான்காவது ஐந்தாண்டு திட்ட காலத்தில்

69. Which of the following is not related to an investment in human capital?

- a) Wage      b) Education      c) Training      d) Health

பின் குறிப்பிட்டுள்ளவற்றில் எது மனித வள முதலீடு அல்ல?

- a) கூலி      b) கல்வி      c) பயிற்சி      d) உடல் நலம்

70. Which of the following fertilizer is not imported under Open General Licence?

- a) Urea      b) Nitrogen Fertilizers  
 c) Phosphatic Fertilizers      d) Potash Fertilizers

பின் குறிப்பிட்டுள்ள உரங்களில் எது திறந்த பொது அனுமதியின் கீழ் செய்வதில்லை?

- a) யூரியா      b) நைட்ரஜன் உரங்கள்  
 c) பாஸ்பரஸ் உரங்கள்      d) பொட்டாஷ் உரங்கள்

71. Which of the following place is not associated with nuclear power plants in India?

- a) Kudankulam      b) Kota      c) Tarapur      d) Bangaluru

இந்தியாவின் பின் குறிப்பிட்டுள்ள இடங்களில் எது அணு மின் உற்பத்தி நிலையங்களுடன் தொடர்பு கொண்டது அல்ல?

a) கூடன் குளம்      b) கோட்டா      c) தாராப்பூர்      d) பெங்களூரு

72. Knowledge is a unique resource because \_\_\_\_\_  
a) It grows from sharing      b) It is same as information  
c) It is subject to copyright      d) It relies on the law of diminishing returns

அறிவு என்பது ஓர் இணையற்ற வளம், ஏனெனில் \_\_\_\_\_

- a) இது பகிர்வு செய்யும் போது அதிகரிக்கிறது  
b) இது தகவலுக்கு நிகரானது  
c) இது பிரசுர உரிமைக்கு உட்பட்டது  
d) இது குறைந்து செல் திரும்பப் பெறும் வருவாயின் அடிப்படையிலானது

73. Economic growth plus change means \_\_\_\_\_  
a) Sustainable Development      b) National Income  
c) Economic Development      d) Balanced Development

பொருளாதார வளர்ச்சி + மாற்றம் \_\_\_\_\_ ஆகும்

- a) நீடித்து நிலைத்த வளர்ச்சி      b) தேசிய வருவாய்  
c) பொருளாதார முன்னேற்றம்      d) சமச் சீரான முன்னேற்றம்

74. Who is the father of Operation Flood?  
a) M.S.Swaminathan      b) C. Subramaniam  
c) Dr. Verghese Kurien      d) Norman Borlaug

பால் பெருக்கி திட்டத்தின் தந்தை என அழைக்கப்படுபவர் யார்?

- a) எம்.எஸ்.சுவாமி நாதன்      b) சி. சுப்ரமணியம்  
c) டாக்டர் வர்கீஸ் குரியன்      d) நார்மன் போர்லா

75. Which of the following is known as plastic money?  
a) Bearer Cheques      b) Demand Drafts      c) Credit Cards      d) Gift Cheques

பின் கொடுக்கப்பட்டுள்ளவற்றில் எது பிளாஸ்டிக் பணம் என்று அறியப்படுகிறது?  
a) ஒப்படைப்பு காசோலை      b) கேள் உரிமைத்தாள்  
c) கடன் அட்டை      d) நன்கொடை காசோலை

76. Who is the Vice-Chairman of Niti –Aayog?  
a) B.K. Chaturvedi      b) Y.V.Reddy  
c) Arvind Virmani      d) Arvind Panagariya

நிதி ஆயோகின் துணைத் தலைவர் யார்?

- a) பி.கே.சதுர்வேதி      b) ஓய்.வி.ரெட்டி  
c) அரவிந்த் விர்மானி      d) அரவிந்த் பாணக்கிரயா

77. The Indian rupee sign Rs. was designed by \_\_\_\_\_  
a) Rakesh Kumar      b) D.Udaya Kumar  
c) Kamal Kumar Pandey      d) Hitesh Padmashali

இந்திய ரூபாயின் அடையாளம் ரூ என அடையாளம் கொடுத்தவர் \_\_\_\_\_ ஆவார்

The Best Coaching Institute For TNPSC, Bank, SSC, Police Exam, TET Exam, Railways Exams

☎ 8939 144 344

12

🌐 www.weshineacademy.com

- a) ராகேஷ் குமார்  
b) டி.உதயகுமார்  
c) கமல் குமார் பாண்டே  
d) ஹிதேஷ் பத்மசாலி

78. Which of the following states is the largest producer of coffee?

- a) Tamil Nadu      **b) Karnataka**      c) West Bengal      d) Assam  
பின் கொடுக்கப்பட்டுள்ள மாநிலங்களில் எது மிக அதிக அளவில் காப்பியை உற்பத்தி செய்கிறது?  
a) தமிழ்நாடு      **b) கர்நாடகா**      c) மேற்கு வங்காளம்      d) அஸ்ஸாம்

79. Multidimensional Poverty Index (MPI) is a new index being included in \_\_\_\_\_

- a) Human Development Report**  
b) World Development Report  
c) World Poverty Report  
d) India's Human Development Report

பல நோக்கு வறுமை எண் என்பது கீழ்க்கண்ட அறிக்கைகளில் \_\_\_\_\_ ல் இடம் பெற்றுள்ளது.

- a) மனித மேம்பாட்டு அறிக்கை**  
b) உலக மேம்பாட்டு அறிக்கை  
c) உலக வறுமை அறிக்கை  
d) இந்திய மனித மேம்பாட்டு அறிக்கையில்

80. Tamil Nadu ranks first in the generation of \_\_\_\_\_

- a) Hydro Power      b) Thermal Power  
c) Solar Power      **d) Wind Power**

தமிழகம் கீழ்க்கண்டவற்றில் \_\_\_\_\_ ல் முதலிடம் வகிக்கிறது.

- a) நீர் மின்சாரம்      b) அனல் மின்சாரம்  
c) சூரிய ஒளி மின்சாரம்      **d) காற்று மின்சாரம்**

81. According to the 2011 census, the percentage of population living in urban areas is equal to \_\_\_\_\_

- a) 31**      b) 32      c) 33      d) 35

2011 மக்கட் தொகை கணக்கெடுப்பின் படி நகரங்களில் வாழும் மக்கட் தொகை சதவீதம் \_\_\_\_\_ ஆகும்

- a) 31**      b) 32      c) 33      d) 35

82. The Ex-Officio Secretary of the National Development Council is \_\_\_\_\_.

- a) Vice- Chairman of planning Commission  
**b) Secretary of Planning Commission**  
c) Secretary of Finance Ministry  
d) General Secretary of Lok Sabha

தேசிய மேம்பாட்டு ஆணையத்தின் பதவி சார்பான செயலர் \_\_\_\_\_ ஆவார்.

- a) திட்டக்குழுவின் துணைத்தலைவர்

The Best Coaching Institute For TNPSC, Bank, SSC, Police Exam, TET Exam, Railways Exams

- b) திட்டக்குழுவின் செயலர்  
 c) நிதி அமைச்சகத்தின் செயலர்  
 d) லோக் சபாவின் பொதுச் செயலர்

83. NABARD was established on the recommendations of \_\_\_\_\_.

- a) Sivaraman Committee                      b) Narasimhan Committee  
 c) Public Accounts Committee              d) Kelkar Committee

நாபார்டு வங்கி தொடங்க பரிந்துரை செய்த குழு \_\_\_\_\_ ஆகும்

- a) சிவராமன்குழு                                  b) நரசிம்மன்குழு  
 c) பொதுக் கணக்குக் குழு                d) கெல்க்கார் குழு

84. Mixed economy refers to \_\_\_\_\_

- a) Coexistence of small and large industries  
 b) Coexistence of agriculture and industry  
 c) Coexistence of public and private sector  
 d) Coexistence of domestic and foreign enterprises

கலப்பு பொருளாதாரம் குறிப்பிடுவது \_\_\_\_\_ ஆகும்

- a) சிறிய மற்றும் பெரிய தொழில்கள் கூடியிருப்பது  
 b) வேளாண்மை மற்றும் தொழில் துறை கூடியிருப்பது  
 c) பொதுத்துறை மற்றும் தனியார் துறை கூடியிருப்பது  
 d) உள் நாட்டு மற்றும் வெளிநாட்டுத் தொழில்கள் கூடியிருப்பது

85. Which of the following controls the functioning of Share Market in India?

- a) FERA    b) MRTP    c) FEMA    d) SEBI

பின் கொடுக்கப் பட்டுள்ளதில் எது இந்தியாவின் பங்குச் சந்தையின் செயல்பாட்டைக் கட்டுப்படுத்துகிறது?

- a) FERA    b) MRTP    c) FEMA    d) SEBI

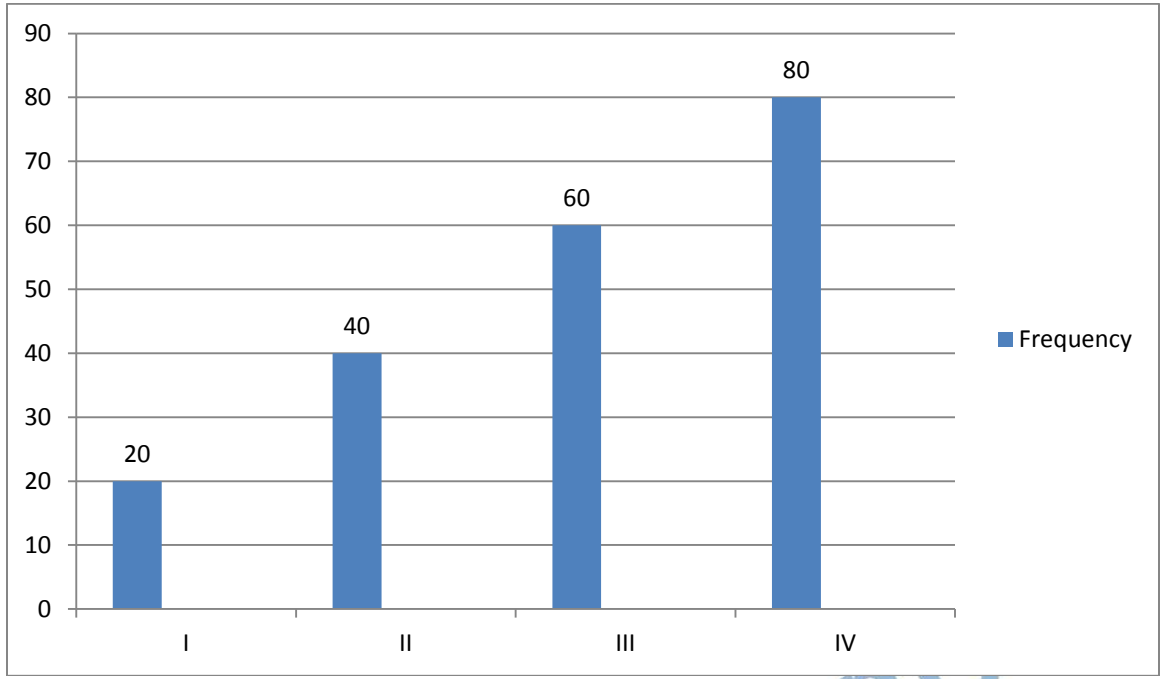
86. What is the unit of information?

- a) Bit    b) Byte    c) Gram    d) Hertz

தகவலின் அலகு என்ன?

- a) பிட்    b) பைட்    c) கிராம்    d) ஹெர்ட்ஸ்

87. The ratio of number of students in the class II to IV is \_\_\_\_\_



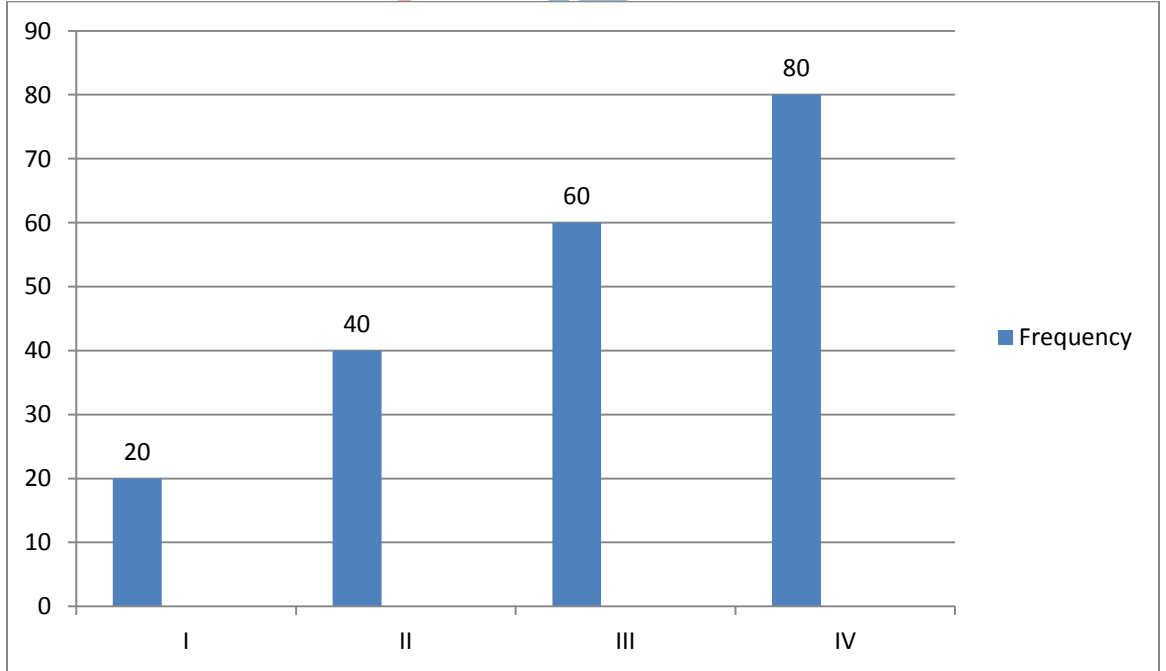
a) 4:8

b) 2:8

c) 4:6

d) 2:4

II முதல் IV ஆம் வகுப்பு வரை உள்ள மாணவர்களின் எண்ணிக்கை விகிதம் \_\_\_\_\_ ஆகும்



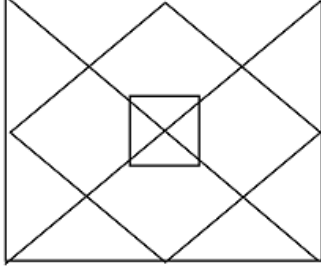
a) 4:8

b) 2:8

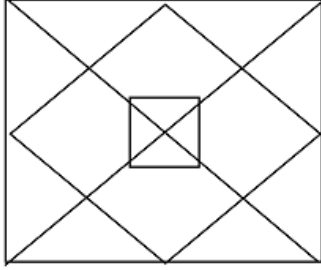
c) 4:6

d) 2:4

88. How many squares are there in the figure given below?



- a) 7                      b) 9                      c) 10                      d) 12  
கீழ்க்காணும் படத்தில் உள்ள சதுரங்களின் எண்ணிக்கை என்ன?



- a) 7                      b) 9                      c) 10                      d) 12

89. Spot the missing number in the series 9, 225, 16, 196, 25, 169, ?, 144

- a) 81                      b) 121                      c) 36                      d) 49

9, 225, 16, 196, 25, 169, ?, 144 என்ற தொடரில் விடுப்பட்ட எண்ணை காண்க.

- a) 81                      b) 121                      c) 36                      d) 49

90. If average of statistic (x, y, z) is 10, then average of statistic (10x, 10y, 10z) is \_\_\_\_\_.

- a) 10                      b) 20                      c) 50                      d) 100

(x, y, z) புள்ளி விவரத்தின் கூட்டுச் சராசரி மதிப்பு 10 எனில் (10x, 10y, 10z) புள்ளி விவரத்தின் கூட்டுச்சராசரி மதிப்பு என்ன?

- a) 10                      b) 20                      c) 50                      d) 100

91. The L.C.M. of two number is 48. The numbers are in the ratio 2:3. Then sum of the number is \_\_\_\_\_

- a) 28                      b) 40                      c) 32                      d) 64

இரண்டு எண்களின் L.C.M 48 என்களின் விகிதம் 2:3 எனில் எண்களின் கூட்டு

- a) 28                      b) 40                      c) 32                      d) 64

92. The length and breadth of a rectangle are in the ratio 3:1. If the breadth is 7 cm, then the length of the rectangle is \_\_\_\_\_.

- a) 14 cm                      b) 16 cm                      c) 18 cm                      d) 21 cm

ஒரு செவ்வகத்தின் நீளம் மற்றும் அகலம் விகிதம் 3:1 அகலமும் 7 செ.மீ ஆகும்

The Best Coaching Institute For TNPSC, Bank, SSC, Police Exam, TET Exam, Railways Exams



என்றால் செவ்வகத்தின் நீளம் \_\_\_\_\_ ஆகும்.

- a) 14 செ.மீ      b) 16 செ.மீ      c) 18 செ.மீ      d) 21 செ.மீ

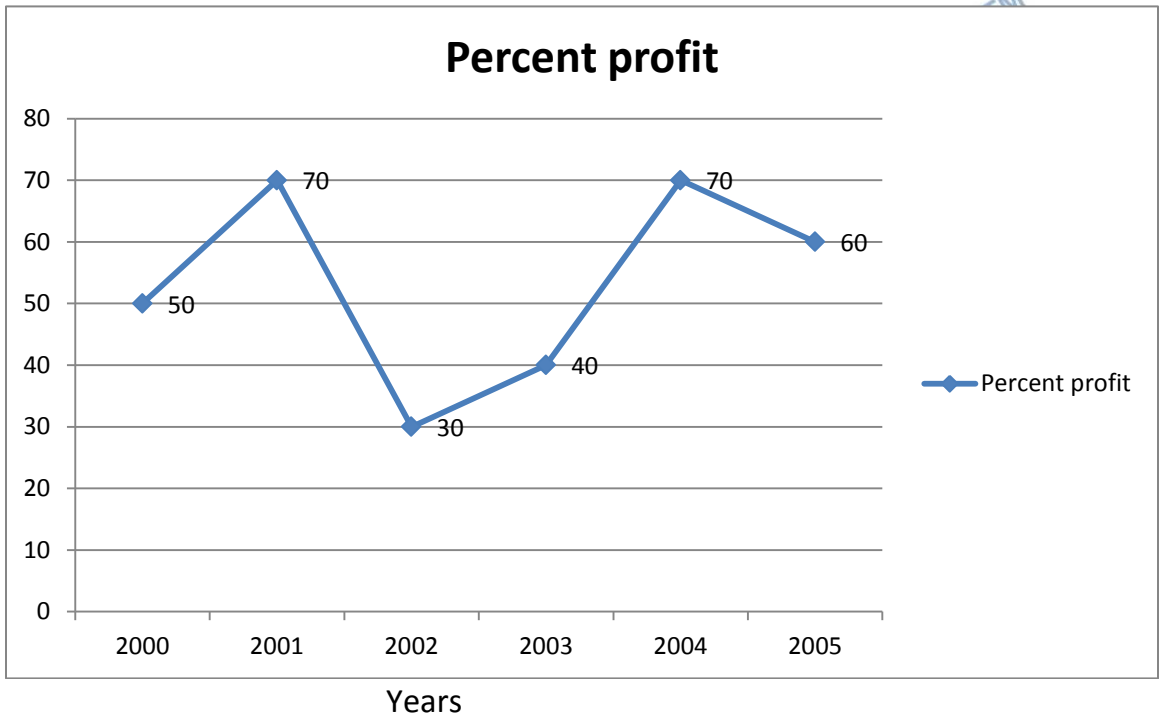
93. The compound interest on Rs. 30,000 at 7% per annum is Rs. 4,347. The period (in year) is \_\_\_\_\_.

- a) 2      b)  $2\frac{1}{2}$       c) 3      d) 4

7% ஒரு வருடத்திற்கு ரூபாய் 30,000 க்கு கூட்டு வட்டி ரூபாய் 4,347 எனில் வருடம் \_\_\_\_\_ ஆகும்

- a) 2      b)  $2\frac{1}{2}$       c) 3      d) 4

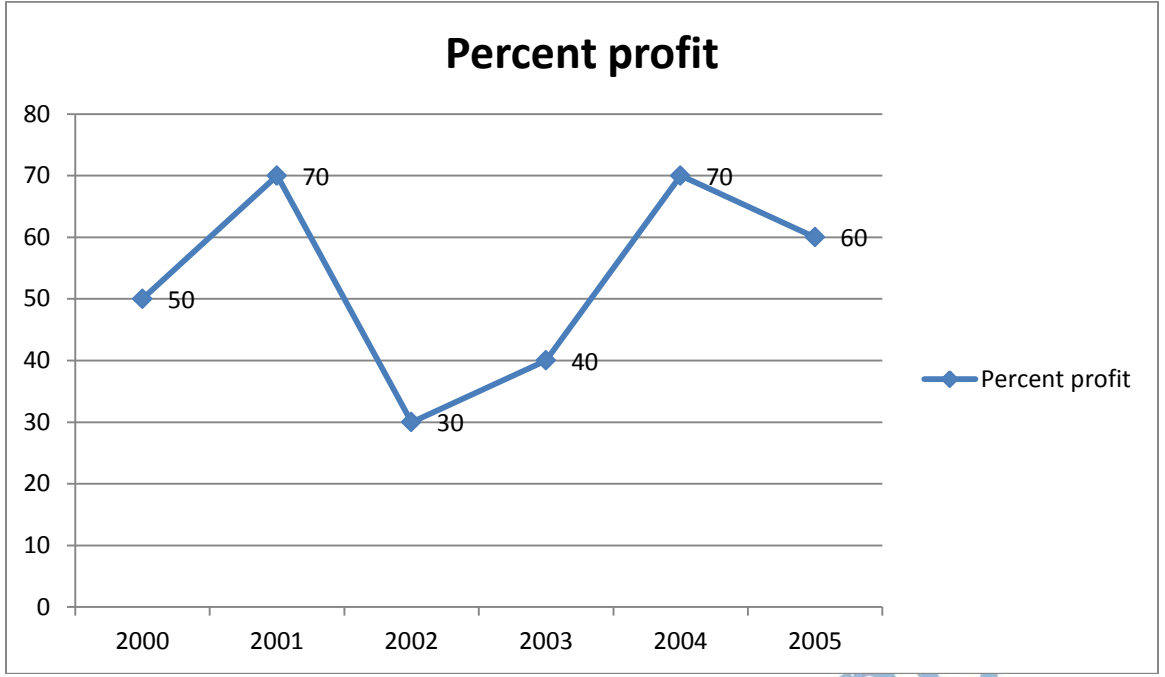
94. From the following graph which of the following years was the ratio of income to expenditure is minimum?



- a) 2000      b) 2002      c) 2004      d) 2005

கீழ்க்கண்ட வரைபடத்திலிருந்து குறைந்த பட்ச வருவாய் செலவின விகிதத்தை உடைய வருடம் எது?

இலாப சதவீதம்



வருடம்

- a) 2000                      b) 2002                      c) 2004                      d) 2005

95. Look at this series F2, \_, D8, C16, B32. What number should fill the blanks?

- a) A16                      b) G4                      c) E4                      d) E3

F2, \_, D8, C16, B32 என்ற தொடரை பார்த்து, எந்த எண்ணை கோடிட்ட இடத்தில் நிரப்ப வேண்டும்?

- a) A16                      b) G4                      c) E4                      d) E3

96. If the angles of a triangle are in the ratio 1: 3: 5, then the angles are \_\_\_\_

- a) 20: 100: 50                      b) 20: 60: 100                      c) 20:30:50                      d) 60:30:90

ஒரு முக்கோணத்தின் கோணங்கள் 1:3:5 என்ற விகிதத்தில் உள்ளன எனில் அக்கோணங்களின் மதிப்புகள் முறையே \_\_\_\_ ஆகும்

- a) 20: 100: 50                      b) 20: 60: 100                      c) 20:30:50                      d) 60:30:90

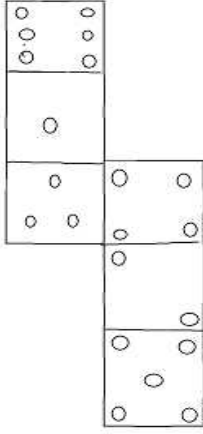
97. Address book contains \_\_\_\_.

- a) E- mail address    b) Phone numbers    c) People names    d) All the above

முகவரி புத்தகத்தின் உள்ளடங்கியது \_\_\_\_

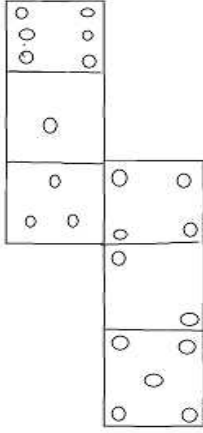
- a) மின்னணு அஞ்சல்                      b) தொலைபேசி எண்கள்  
c) மக்கள் பெயர்கள்                      d) இவை அனைத்தும்

98. How many dots lie opposite to the face having 3 dots, when the given figure folded to form a cube?



- a) 2                      b) 4                      c) 5                      d) 6

கொடுக்கப்பட்ட வரைபடத்தை மடிக்கும் போது எத்தனை புள்ளிகள் மூன்று புள்ளிகளின் முகம் எதிரில் உள்ளது?



- a) 2                      b) 4                      c) 5                      d) 6

99. Which of the following diagrams indicate the best relation between travellers, train and bus?



பின் வரும் படங்களில் எது பயணிகள், ரயில் மற்றும் பஸ் இடையில் சிறந்த உறவு குறிக்கிறது?



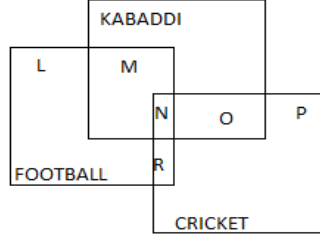
100. A fold B, 'The girl, I met yesterday was the youngest daughter of the brother –in – law, of my friend's mother'. How is the girl related to A's friend?

- a) Niece                      b) Cousin                      c) Friend                      d) Daughter

A, B யிடம் கூறியது, 'நான் நேற்று சந்தித்த பெண் எனது நண்பனின் அம்மாவின் சகோதரரின் இளைய மகள், எப்படி இப்பெண் A வின் சொந்தம் ஆவார்.

- a) அண்ணன்மகள்                      b) உறவினர்                      c) நண்பர்                      d) மகள்

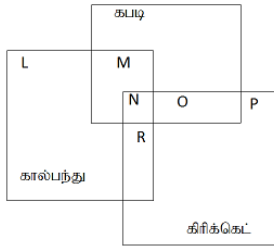
101. The diagram given below represents those students who play cricket, football and kabaddi.



Study the diagram and identify the students who play all the three games.

- a) L+M-P                      b) R+O                      c) R+N+O                      d) N

கீழே கொடுக்கப்பட்ட வரைபடம் கிரிக்கெட், கால்பந்து மற்றும் கபடி விளையாடும் மாணவர்களை பிரதிபலிக்கிறது.



வரைபடம் ஆய்வு செய்து மூன்று விளையாட்டுகள் விளையாடும் மாணவர்களை அடையாளம் காண்க.

- a) L+M-P                      b) R+O                      c) R+N+O                      d) N

102. Find the missing symbol in the sequence.



- a) m                      b) E                      c) W                      d) W

வரிசையில் உள்ள விடுபட்ட இடகுறி காண்க.



- a) m                      b) E                      c) W                      d) W

103. If i) Geetha scored more than Latha.  $G < L$   
 ii) Latha scored less than Kannan.  $L > K$   
 iii) Kannan scored more than Lalitha.  $K < L$   
 iv) Lalitha scored more than Geetha but less than Kannan, then who scored the highest?

a) Geetha                      b) Latha                      c) Kannan                      d) Lalitha

i) கீதா என்பவர் லதாவை விட அதிக மதிப்பெண் பெற்றார்

ii) லதா என்பவர் கண்ணனை விட குறைவான மதிப்பெண் பெற்றார்

iii) கண்ணன் என்பவர் லலிதாவை விட அதிக மதிப்பெண் பெற்றார்

iv) லலிதா என்பவர் கீதாவை விட அதிகமாகவும், கண்ணனை விட குறைவாக மதிப்பெண் பெற்றார் எனில், இங்கு அதிக மதிப்பெண் வாங்கியவர் யார்?

a) கீதா                      b) லதா                      c) கண்ணன்                      d) லலிதா

104. Find the next figure.°

X, O, X, ?

a)

b)  $\wedge$

c) V

d)

அடுத்து வரும் உருவம் காண்க.

X, O, X, ?

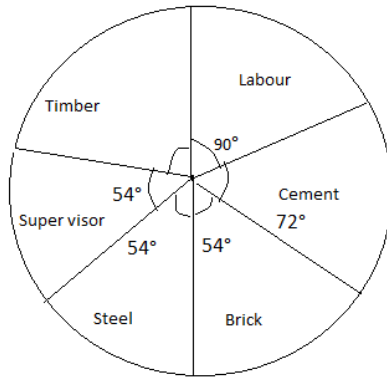
a)

b)  $\wedge$

c) V

d)

105. Pie chart below shows cost of constructing one house. The total cost is Rs. 5,000.



The amount spent on labour is Rupees

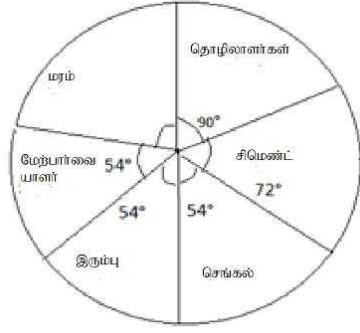
a) 2,000

b) 1,600

c) 1,250

d) 1,000

கீழே உள்ள வட்ட விளக்கப்படம் ஒரு வீடு கட்டுவதற்கு செலவு மொத்த செலவு ரூபாய் 5,000 ஆகும்



தொழிலாளர்களுக்கு செலவு செய்த தொகை.

- a) 2,000                      b) 1,600                      c) **1,250**                      d) 1,000

106. Replace the underlined word in the sentence with one of the phrasal verbs given below to convey the meaning.

India symbolizes world peace.

- a) **Stands for**                      b) makes for                      c) waits for                      d) looks for

107. Complete the sentence with suitable degrees of adjectives.

Rajasthan is hotter \_\_\_\_\_ states in India.

- a) as more other                      b) **than most other**  
c) as much as any other                      d) not so much as

108. Find out the error in the given sentence and spot correct form.

Neither of the two leaders were invited.

- a) **Neither of the two leaders was invited**  
b) Neither of the two leaders are invited  
c) A) and B) are correct  
d) None of these is correct

109. Identify the pattern of the sentence.

Always speak the truth

- a) **A V S**                      b) S V A                      c) S V O                      d) S V O A

110. Which of the following sentences convey the similar/correct meaning?

'Parents seem to have no control over their children'.

- a) Parents seem to have a little control over their children  
b) Parents seem to have control over their children .  
c) **Parents seem to have little control over their children**  
d) None of these

111. Attach a Suffix to the word from the options given below.  
A snake is a very danger \_\_\_\_\_ reptile.  
a) able                      **b) ous**                      c) ly                      d) ness
112. Choose the correct Synonym for the underlined word from the options given below:  
Ornithology is a fascinating study.  
a) dull                      b) inspired                      **c) very interesting**                      d) very thin
113. Choose the correct Antonym of the underlined word from the options given below:  
He cursed him self.  
a) annoyed                      b) displeased                      c) irritated                      **d) praised**
114. Choose the correct question tag for the following statement.  
Work is worship \_\_\_\_\_  
a) Wasn't it?                      **b) isn't it?**                      c) can't it?                      d) won't it?
115. Find out whether the following sentence is simple, complex or compound.  
Being clever she answers all the questions.  
a) complex                      b) compound                      **c) simple**                      d) none of these
116. ஒருமை பன்மைப் பிழையற்ற தொடர் எது?  
a) அவன் கவிஞன் அல்ல                      b) அவன் கவிஞன் அன்று  
**c) அவன் கவிஞன் அல்லன்**                      d) அவன் கவிஞன் அல்லவோ?
117. வழுஉச் சொல்லற்ற தொடரைக் கண்டறி:  
a) வலது பக்கம் சுவரில் எழுதாதே  
**b) வலப்பக்கச் சுவரில் எழுதாதே**  
c) வலப்பக்கச் சுவற்றில் எழுதாதே  
d) வலதுபக்கம் சுவரில் எழுதாதே
118. செய்வினை வாக்கியம் கண்டறிக.  
**a) கம்பர் இராமாயணம் எழுதினார்**  
b) இராமாயணம் கம்பரால் எழுதப்பட்டது  
c) கம்பர் இராமாயணம் எழுதப்பட்டது  
d) இராமாயணத்தை கம்பர் எழுதினார்
119. 'கல்வி கரையில்' இத்தொடரில் மோனையை கண்டறிக  
a) ல்                      **b) க**                      c) ல                      d) ரை
120. 'நல்லவை' எதிர்ச்சொல் தருக

- a) நன்று                      b) பெரியவை                      c) அல்லவை                      d) சிறிவை
121. பொருந்தாச் சொல்லைக் கண்டறிக: மாணிக்கம், முத்து, பவளம், சங்கு, கிளிஞ்சல்.  
a) முத்து                      b) சங்கு                      c) மாணிக்கம்                      d) கிளிஞ்சல்
122. 'கோ' என்ற ஒரெழுத்து ஒரு மொழி உணர்த்தும் பொருள் யாது?  
a) மகன்                      b) உழவன்                      c) அரசன்                      d) அமைச்சன்
123. 'உலகெலாம் உணர்ந்து ஒதற்கரியவன்' எனத் தொடங்கும் பாடலை இயற்றியவர்\_\_\_\_  
a) திருமூலர்                      b) சேக்கிழார்                      c) வள்ளுவர்                      d) கம்பர்
124. எழில் என்ன சாப்பிட்டாய்? எவ்வகை வாக்கியம்?  
a) கட்டளை                      b) வினா                      c) உணர்ச்சி                      d) செய்தி
125. 'மணற்கேணி' பிரித்து எழுதுக.  
a) மண்+கேணி                      b) மண்ணு+ கேணி                      c) ம+ கேணி                      d) மணல்+ கேணி



We Shine Academy™